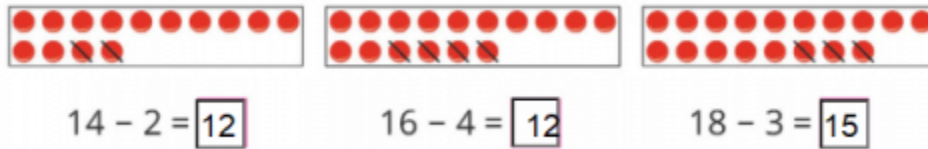


1. Tính: (Hình bài 1 trang 128, SGK Toán 1)

Hướng dẫn:

Quan sát hình, đếm số hình tròn đỏ rồi điền số:



- Có 14 hình tròn gạch đi 2 hình còn 12 hình
- Có 16 hình tròn gạch đi 4 hình còn 12 hình
- Có 18 hình tròn gạch đi 3 hình còn 15 hình

2. Tính: (Bài 2 trang 128, SGK Toán 1)

Hướng dẫn:

$15 - 2 = 13$ $14 - 1 = 13$ $16 - 5 = 11$ $18 - 4 = 14$

$16 - 3 = 13$ $13 - 3 = 10$ $17 - 6 = 11$ $19 - 8 = 11$

3. Chọn kết quả đúng với mỗi phép tính: (Hình bài 3 trang 129, SGK Toán 1)

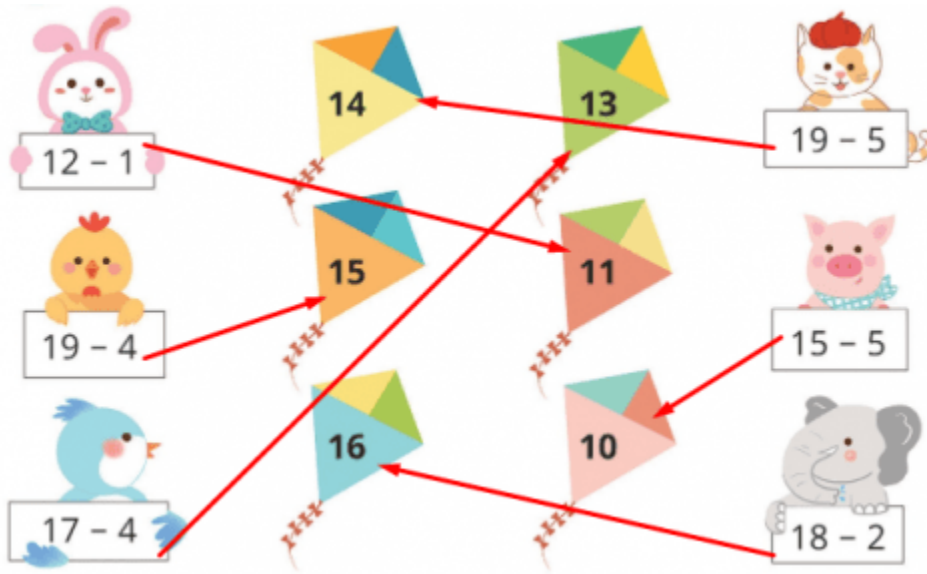
Hướng dẫn:

Quan sát hình, tính các phép tính rồi chọn kết quả đúng:

$12 - 1 = 11$ $19 - 5 = 14$

$19 - 4 = 15$ $15 - 5 = 10$

$17 - 4 = 13$ $18 - 2 = 16$



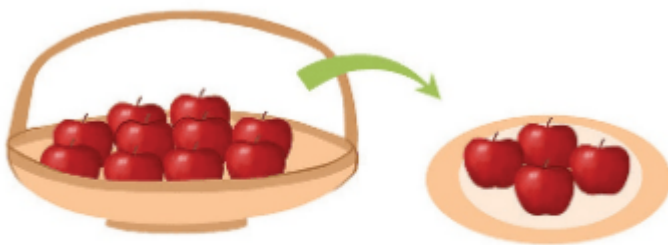
4. Nêu phép tính thích hợp với mỗi tranh vẽ: (Hình bài 4 trang 129, SGK Toán 1)

Hướng dẫn:

Quan sát các tranh vẽ, nêu các phép tính phù hợp:

a, Có 14 quả táo trong hình, trong giỏ còn 10 quả táo, đã lấy 4 quả táo ra đĩa =>

Phép tính: $14 - 4 = 10$



| | | | | |
|----|---|---|---|----|
| 14 | - | 4 | = | 10 |
|----|---|---|---|----|

b, Có 18 cây nến, 6 cây nến đã bị tắt còn 12 cây nến đang cháy => Phép tính: $18 - 6 = 12$



$$\boxed{18} - \boxed{6} = \boxed{12}$$