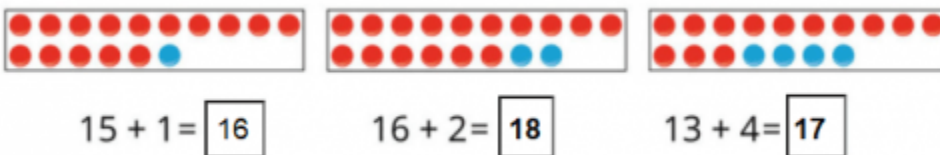


**1. Tính: (Hình bài 1 trang 126, SGK Toán 1)**

Hướng dẫn:

Quan sát hình, đếm số hình tròn đỏ và hình tròn xanh rồi điền số:



**2. Tính: (Bài 2 trang 126, SGK Toán 1)**

Hướng dẫn:

$12 + 1 = 13$     $13 + 1 = 14$     $16 + 3 = 19$     $15 + 2 = 17$

$12 + 3 = 15$     $13 + 2 = 15$     $14 + 4 = 18$     $11 + 5 = 16$

**3. Chọn kết quả đúng với mỗi phép tính: (Hình bài 3 trang 127, SGK Toán 1)**

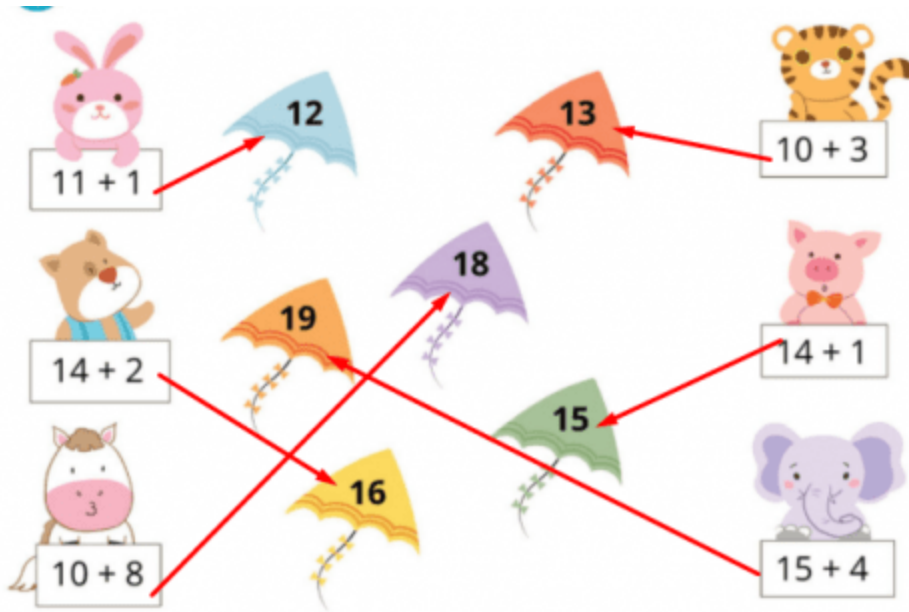
Hướng dẫn:

Quan sát hình, tính các phép tính rồi chọn kết quả đúng:

$11 + 1 = 12$                        $10 + 3 = 13$

$14 + 2 = 16$                        $14 + 1 = 15$

$10 + 8 = 18$                        $15 + 4 = 19$

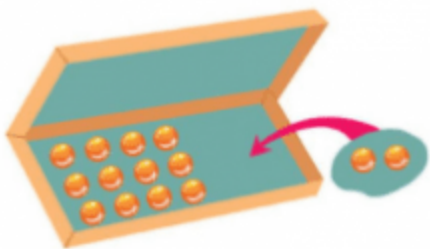


**4. Nêu phép tính thích hợp với mỗi tranh vẽ: (Hình bài 4 trang 127, SGK Toán 1)**

Hướng dẫn:

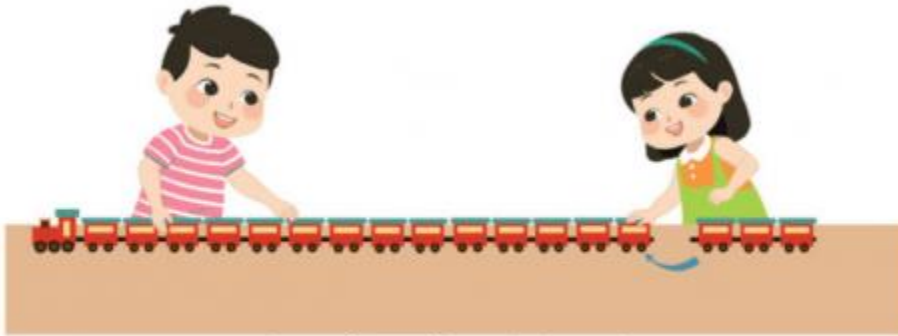
Quan sát các tranh vẽ, nêu các phép tính phù hợp:

a, Có 12 viên bi trong hộp, thêm 2 viên vào hộp => Phép tính:  **$12 + 2 = 14$**



$$\boxed{12} \quad \boxed{+} \quad \boxed{2} \quad \boxed{=} \quad \boxed{14}$$

b, Có 15 toa tàu (kể cả đầu tàu), thêm 3 toa tàu => Phép tính:  **$15 + 3 = 18$**



$$\boxed{15} + \boxed{3} = \boxed{18}$$