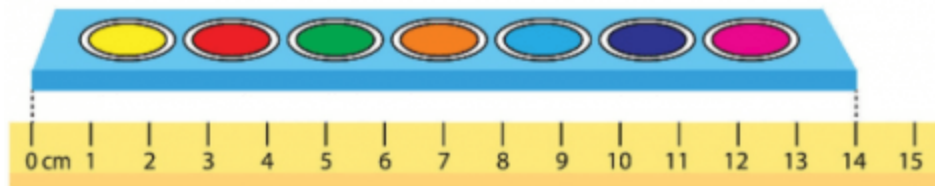


**1. Hộp màu dài bao nhiêu xăng-ti-mét?**



Hướng dẫn:

Quan sát hình, đọc số đo trên thước:

**2. (Hình Bài 2 trang 118, SGK Toán 1)**

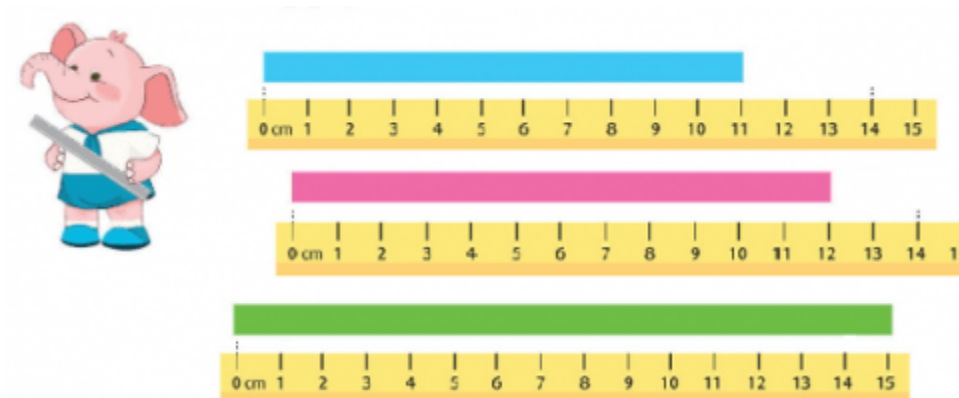
a, Dùng thước có vạch chia xăng-ti-mét để đo, rồi đọc số đo độ dài của mỗi băng giấy sau:

b, Trong các băng giấy trên, băng giấy nào dài nhất?

Hướng dẫn:

a, Em dùng thước có vạch chia xăng-ti-mét để đo độ dài của mỗi băng giấy:

Chú ý: Đặt vạch số 0 của thước trùng với điểm đầu của băng giấy




- Băng giấy màu xanh da trời dài 11 cm
- Băng giấy màu tím dài 12 cm
- Băng giấy màu xanh lá cây dài 15 cm

b, Từ số đo đã đo được ở phần a, em so sánh độ dài của các băng giấy:

- Băng giấy màu xanh lá cây dài nhất

### 3. Xem hình rồi chọn câu đúng:



a, Nhãn vở dài 9cm.

b, Nhãn vở dài 8cm.

Hướng dẫn:

Quan sát hình, nhãn vở được đo từ vạch số 1 của thước nên độ dài của nhãn vở là 8cm.

Câu **b** đúng

### 4. Trò chơi ” Ước lượng độ dài”



Hướng dẫn:

Quan sát hình, ước lượng độ dài của mỗi đồ vật:

- Bút màu dài khoảng 10 cm
- Hộp bút dài khoảng 20 cm
- Quyển sách dài khoảng 30 cm
- Cục tẩy dài khoảng 5 cm