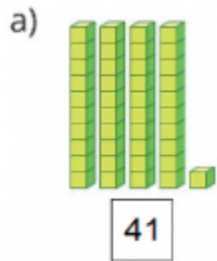


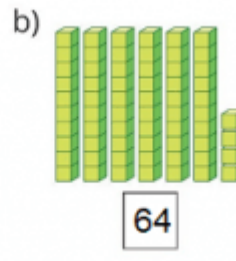
1. Số? (Hình bài 1 trang 107, SGK Toán 1)

Hướng dẫn:

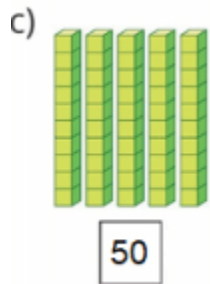
Quan sát hình, đếm số khối lập phương trong mỗi hình rồi điền số:



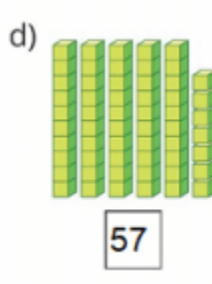
Chục	Đơn vị
4	1



Chục	Đơn vị
6	4



Chục	Đơn vị
5	0



Chục	Đơn vị
5	7

2. Trả lời câu hỏi:

a, Số 27 gồm mấy chục và mấy đơn vị?

b, Số 63 gồm mấy chục và mấy đơn vị?

c, Số 90 gồm mấy chục và mấy đơn vị?

Hướng dẫn:

a, Số 27 gồm **2 chục** và **7 đơn vị**.

b, Số 63 gồm **6 chục** và **3 đơn vị**.

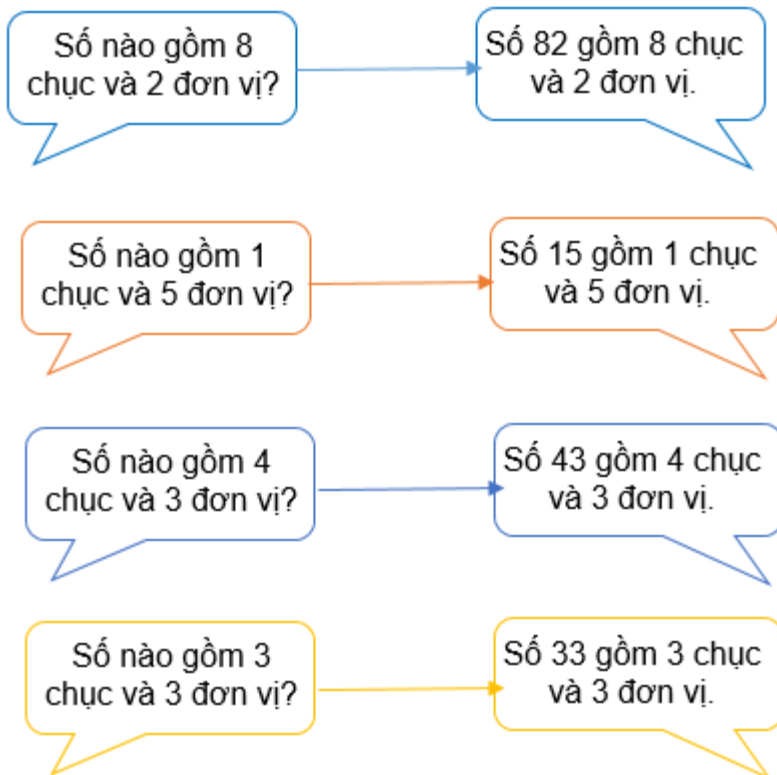
c, Số 90 gồm **9 chục** và **0 đơn vị**.

3. Trò chơi ” Tìm số thích hợp”



Hướng dẫn:

Quan sát các số và đặt câu hỏi với mỗi số trong hình và trả lời câu hỏi đó:



4. Số? (Bảng bài 4 trang 108, SGK Toán 1)

Hướng dẫn:

Viết các số thích hợp vào mỗi dấu “?”:

Chục	Đơn vị	Viết số
1	3	13
4	6	46
8	8	88
5	2	52

5. Xem tranh rồi đếm số quả mỗi loại:



Hướng dẫn:

Quan sát hình, đếm số quả mỗi loại có trong hình:

- Có **70** quả chuối hay **7 chục** quả chuối.
- Có **32** quả xoài
- Có **54** quả thanh long
- Có **50** quả lê hay **5 chục** quả lê.