


1. a, Có mấy chục que tính? (Hình bài 1a trang 105, SGK Toán 1)

b, Có mấy chục cái bát? (Hình bài 1b trang 105, SGK Toán 1)

Hướng dẫn:

a, Quan sát hình, đếm số que tính trong hình:



- Có 60 que tính => Có **6 chục** que tính

b, Quan sát hình, đếm số cái bát trong hình:

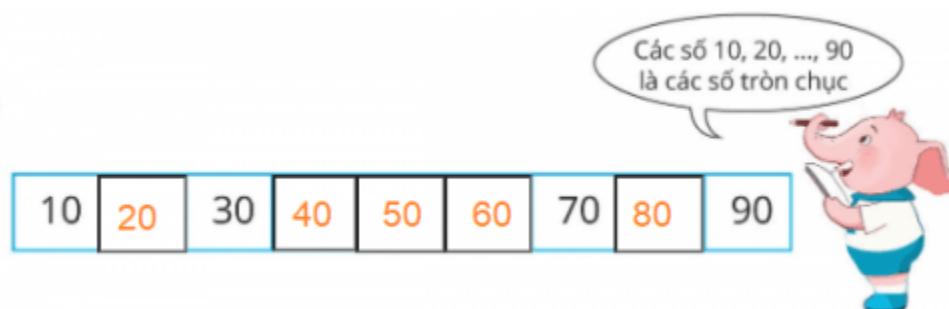


- Có 80 cái bát => Có **8 chục** cái bát.

2. Số? (Hình bài 2 trang 105, SGK Toán 1)

Hướng dẫn:

Đếm các số tròn chục 10, 20, ..., 90 rồi điền vào chỗ trống:



3. Trò chơi ” Lấy cho đủ số đồ vật”



Hướng dẫn:

Quan sát hình, lấy đủ số đồ vật:

- 3 chục que tính => Lấy **30** que tính
- 2 chục khối lập phương => Lấy **20** khối lập phương
- 1 chục bát => Lấy **10** cái bát
- 4 chục viên bi => Lấy **40** viên bi

4. Nói (theo mẫu): (Hình bài 4 trang 106, SGK Toán 1)

Mẫu:



Chục	Đơn vị
3	2

Số 32 gồm 3 chục và 2 đơn vị

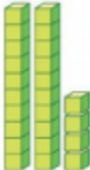


32

Hướng dẫn:

Quan sát mẫu, rồi điền các số:


a)



24

Chục	Đơn vị
2	4


b)



53

Chục	Đơn vị
5	3


c)



86

Chục	Đơn vị
8	6

d)



60

Chục	Đơn vị
6	0

5. Trả lời câu hỏi:

a, Số 12 gồm mấy chục và mấy đơn vị?


b, Số 49 gồm mấy chục và mấy đơn vị?

c, Số 80 gồm mấy chục và mấy đơn vị?

d, Số 66 gồm mấy chục và mấy đơn vị?

Hướng dẫn:

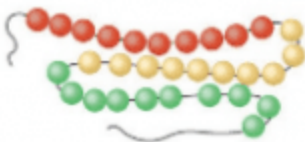
Trả lời các câu hỏi theo mẫu:



6. Mỗi dây có mấy chục hạt: (Hình bài 6 trang 106, SGK Toán 1)

Hướng dẫn:

Quan sát hình, đếm số hạt ở mỗi dây:



30
ba mươi hạt
=> 3 chục hạt



50
năm mươi hạt
=> 5 chục hạt