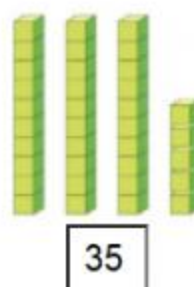




1. Số? (Hình bài 1 trang 97, SGK Toán 1)

Hướng dẫn:

Quan sát hình, đếm khối lập phương có trong hình và điền số:



2. Viết các số:

a, Hai mươi, hai mươi một, hai mươi hai, hai mươi ba, hai mươi tư, hai mươi lăm, hai mươi sáu, hai mươi bảy, hai mươi tám, hai mươi chín, ba mươi.

b, Ba mươi, ba mươi một, ba mươi hai, ba mươi ba, ba mươi tư, ba mươi lăm, ba mươi sáu, ba mươi bảy, ba mươi tám, ba mươi chín, bốn mươi.

Hướng dẫn:

Các số được viết là:

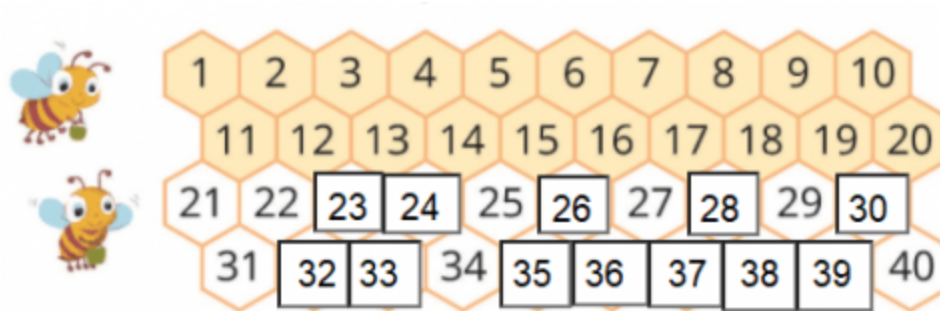
a, 20, 21, 22, 23, 24, 25, 26, 27, 28, 29, 30.

b, 30, 31, 32, 33, 34, 35, 36, 37, 38, 39, 40.

3. Tìm các số còn thiếu rồi đọc các số đó: (Hình bài 3 trang 97, SGK Toán 1)

Hướng dẫn:

Đếm các số từ 1 đến 40, rồi điền các số còn thiếu và đọc các số đó:



4. Có tất cả bao nhiêu cầu thủ? (Hình bài 4 trang 97, SGK Toán 1)

Hướng dẫn:

Quan sát hình, đếm tất cả số cầu thủ có trong hình:



- Có tất cả **22** cầu thủ.