

1. Số? (Bài 1 trang 72, SGK Toán 1)

Hướng dẫn:

Tính các phép tính, rồi điền các số thích hợp vào ô trống:

a) $5 + 1 = \boxed{6}$ $4 + \boxed{2} = 6$ $3 + \boxed{3} = 6$
 $6 - 1 = \boxed{5}$ $6 - \boxed{2} = 4$ $6 - \boxed{3} = 3$

b) $3 + \boxed{2} = 5$ $2 + \boxed{4} = 6$ $1 + \boxed{3} = 4$
 $5 - \boxed{2} = 3$ $6 - \boxed{4} = 2$ $4 - \boxed{3} = 1$

2. Số? (Hình bài 2 trang 72, SGK Toán 1)

Hướng dẫn:


Quan sát hình, điền các số thích hợp vào ô trống:



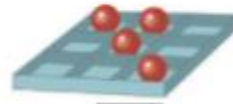
$8 - \boxed{3} = 5$



$10 - \boxed{2} = 8$



$8 - \boxed{1} = 7$



$9 - \boxed{5} = 4$

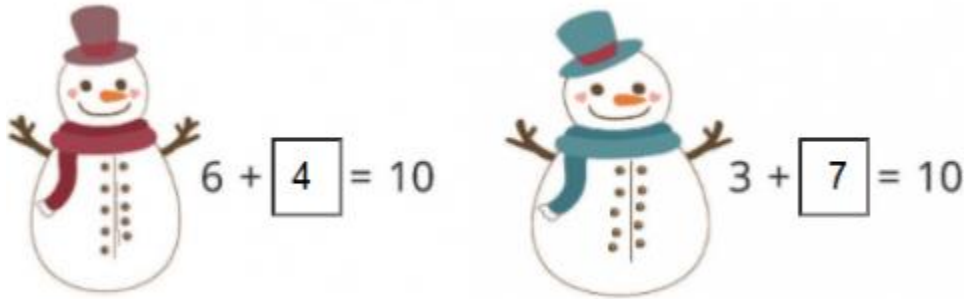
- Có 8 chiếc cặp, lấy 3 chiếc cặp đi. Còn 5 chiếc cặp => Phép tính: $8 - 3 = 5$
- Có 10 chiếc bút trong hộp, lấy đi 2 chiếc. Trong hộp còn 8 chiếc bút => Phép tính: $10 - 2 = 8$

- Có 8 chiếc bánh trong hộp, đã ăn 1 chiếc. Trong hộp còn 7 chiếc bánh =>
Phép tính: $8 - 1 = 7$
- Có 9 viên socola trong hộp, đã ăn 5 chiếc. Trong hộp còn 4 viên socola =>
Phép tính: $9 - 5 = 4$

3. Tìm số cúc áo còn thiếu: (Hình bài 3 trang 72, SGK Toán 1)

Hướng dẫn:

Quan sát hình, điền các số thích hợp vào ô trống:

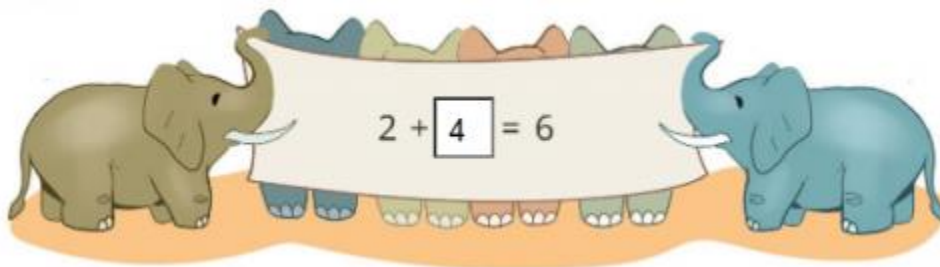


- Hình bên trái còn thiếu 4 chiếc cúc áo
- Hình bên phải còn thiếu 7 chiếc cúc áo

4. Số? (Hình bài 4 trang 73, SGK Toán 1)

Hướng dẫn:

Quan sát hình, điền số thích hợp vào ô trống:



5. Số? (Hình bài 5 trang 73, SGK Toán 1)

Hướng dẫn:

Quan sát hình, điền các số thích hợp vào ô trống:

a,



- Có 8 bạn nhỏ, 5 bạn ở trong nhà. Còn 3 bạn ở ngoài sân => Phép tính: $8 - 5 = 3$

b,



- Có 9 con vịt, 6 con vịt chui vào lùm cây. Còn 3 con vịt => Phép tính: $9 - 6 = 3$