


**1. Tìm kết quả của mỗi phép tính:**



Hướng dẫn:

Tính các phép tính, rồi ghi kết quả chính xác:

$5 - 4 = 1$        $9 - 5 = 4$        $8 - 8 = 0$

$7 - 3 = 4$        $6 - 2 = 4$        $7 - 0 = 7$

$8 - 4 = 4$        $10 - 6 = 4$        $7 - 5 = 2$

$9 - 1 = 8$

**2. Tính: (Bài 2 trang 70, SGK Toán 1)**

Hướng dẫn:

Tính cách phép tính rồi ghi kết quả chính xác:

a,  $6 + 1 = 8$        $5 + 4 = 9$        $8 + 2 = 10$

$1 + 6 = 8$        $4 + 5 = 9$        $2 + 8 = 10$

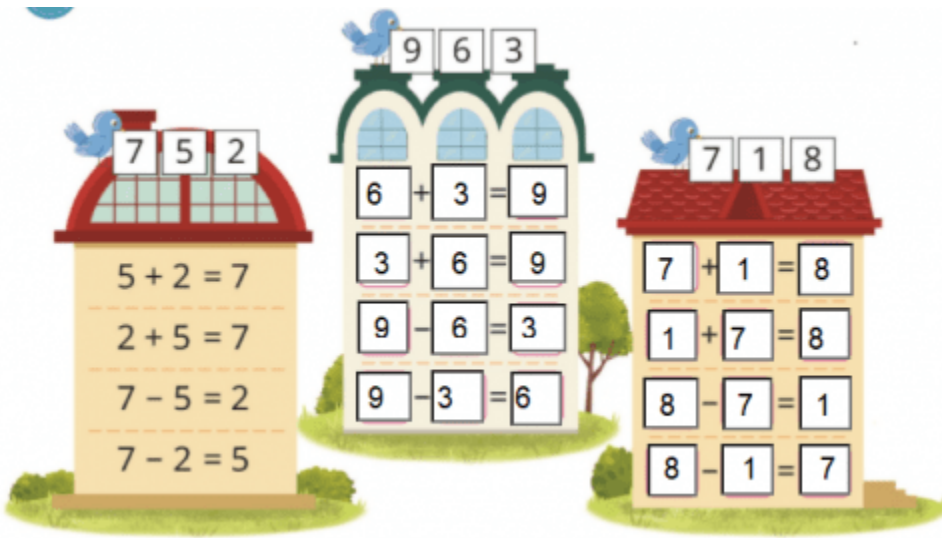
b,  $7 - 1 = 6$        $9 - 4 = 5$        $10 - 2 = 8$

$7 - 6 = 1$        $9 - 5 = 4$        $10 - 8 = 2$

**3. Nêu các phép tính thích hợp (theo mẫu):**

Hướng dẫn:

Quan sát hình mẫu, điền các số thích hợp vào ô trống để được các phép tính đúng:



**4. Số? (Hình bài 4 trang 71, SGK Toán 1)**

Hướng dẫn:

Quan sát hình, điền các số thích hợp vào ô trống:

a)



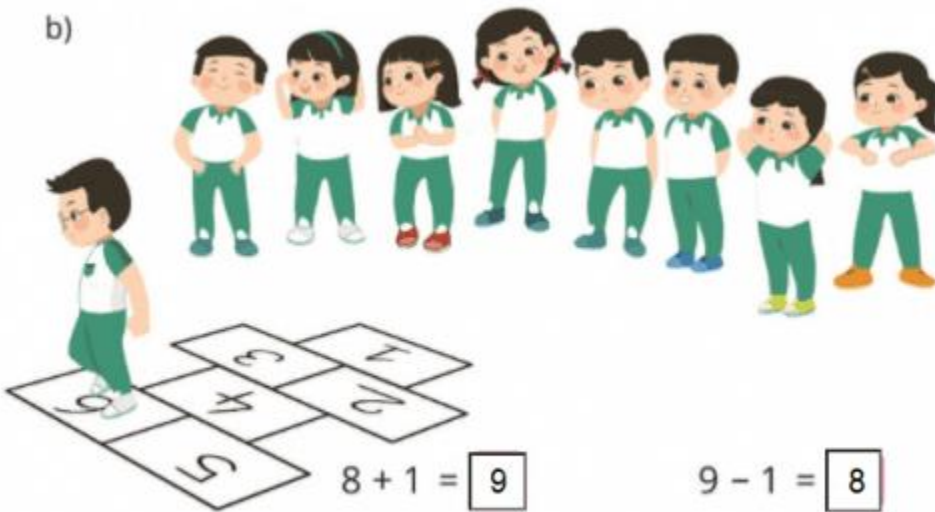
$$5 + 3 = \boxed{8}$$

$$3 + 5 = \boxed{8}$$

$$8 - 3 = \boxed{5}$$

$$8 - 5 = \boxed{3}$$

b)



$$8 + 1 = \boxed{9}$$

$$1 + 8 = \boxed{9}$$

$$9 - 1 = \boxed{8}$$

$$9 - 8 = \boxed{1}$$