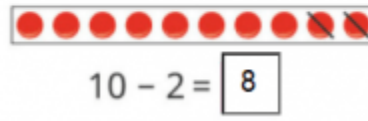
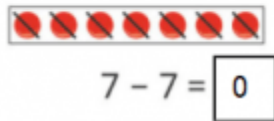
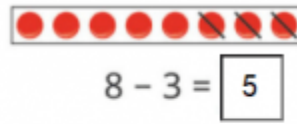
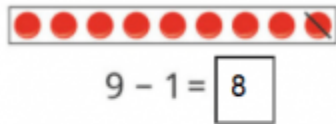


1. Số? (Hình bài 1 trang 66, SGK Toán 1)

Hướng dẫn:

Quan sát hình, điền số thích hợp vào các phép tính:



- Có 9 hình tròn, gạch đi 1 hình tròn. Còn **8** hình tròn
- Có 7 hình tròn, gạch đi 7 hình tròn. Còn **0** hình tròn
- Có 8 hình tròn, gạch đi 3 hình tròn. Còn **5** hình tròn
- Có 10 hình tròn, gạch đi 2 hình tròn. Còn **8** hình tròn

2. Tính: (Bài 2 trang 66, SGK Toán 1)

Hướng dẫn:

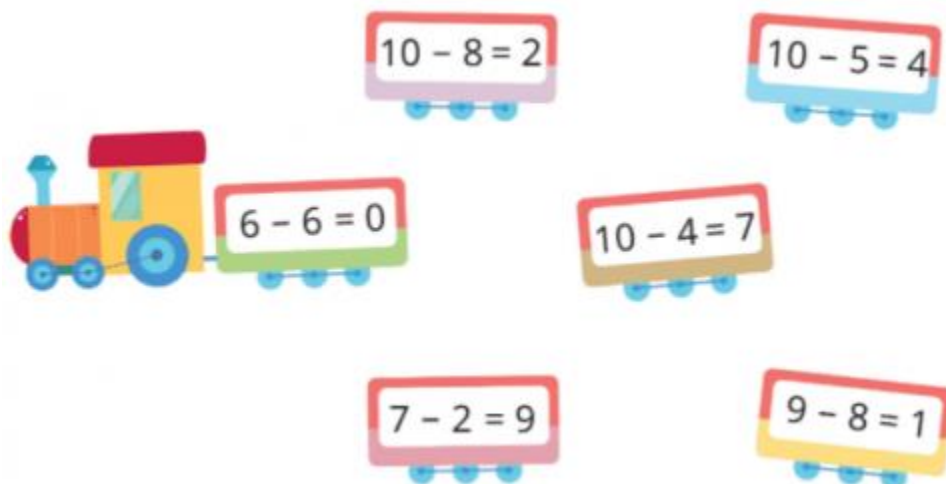
Tính cách phép tính rồi ghi kết quả chính xác:

$8 - 1 = 7$ $8 - 2 = 6$ $8 - 0 = 8$

$8 - 6 = 2$ $9 - 5 = 4$ $10 - 0 = 0$

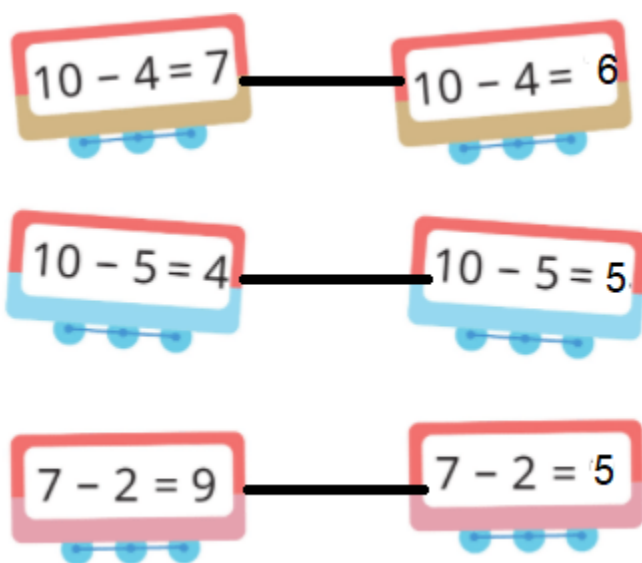
$9 - 6 = 3$ $10 - 1 = 9$ $9 - 9 = 0$

3. Chỉ ra các phép tính có kết quả sai và sửa lại cho đúng:



Hướng dẫn:

Quan sát hình, tính các phép tính và chỉ ra phép tính có kết quả sai:



4. Nêu phép tính thích hợp với mỗi tranh vẽ: (Hình bài 4 trang 67, SGK Toán 1)

Hướng dẫn:

Quan sát tranh, rồi nêu các phép tính trừ thích hợp:

a)



$$\boxed{7} - \boxed{2} = \boxed{5}$$

- Có 7 chiếc mũ bảo hiểm, lấy 2 mũ để đội. Còn 5 mũ

=> Phép tính: $7 - 2 = 5$

b)



$$\boxed{10} - \boxed{3} = \boxed{7}$$

- Có 10 chiếc bánh mì, lấy đi 3 chiếc bánh. Còn 7 chiếc bánh

=> Phép tính: $10 - 3 = 7$

c)

$$\boxed{6} - \boxed{4} = \boxed{2}$$



- Có 6 quả trứng, lấy 4 quả để rán. Còn lại 2 quả

=> Phép tính: **6 - 4 = 2**