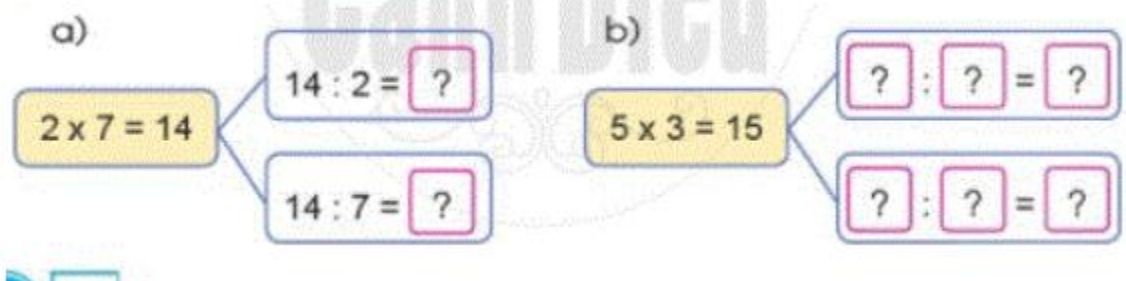


Mời các em học sinh và quý thầy cô tham khảo hướng dẫn giải bài tập Toán lớp 2: Phép chia (tiếp theo) trang 18 - Cánh Diều được đội ngũ chuyên gia biên soạn đầy đủ và ngắn gọn dưới đây.

Giải bài tập Toán 2 bài: Phép chia (tiếp theo) - Cánh diều.

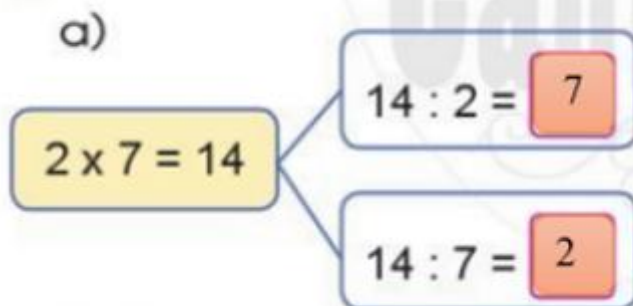
Cho phép nhân, nêu hai phép chia thích hợp:

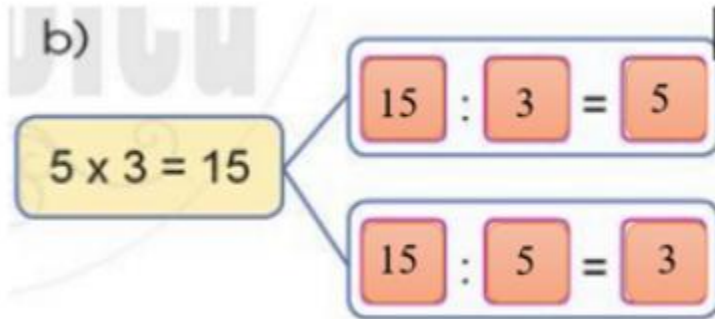


Phương pháp giải:

Ta lấy tích chia cho từng thừa số rồi viết phép chia phù hợp vào ô trống.

Lời giải chi tiết:





Bài 2 (trang 18 SGK Toán 2 tập 2)

Số ?

$2 \times 5 = ?$	$2 \times 10 = ?$	$5 \times 8 = ?$
$10 : 2 = ?$	$20 : 2 = ?$	$40 : 5 = ?$
$10 : 5 = ?$	$20 : 10 = ?$	$40 : 8 = ?$

Phương pháp giải:

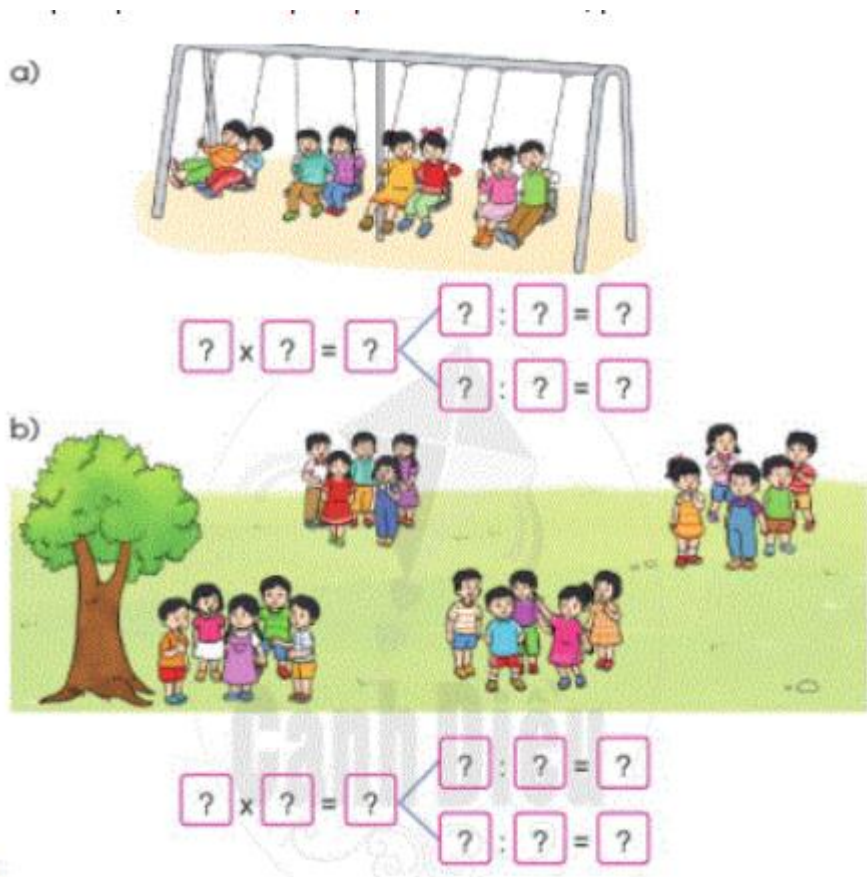
- Tính nhẩm các phép tính theo bảng nhân 2 và bảng nhân 5
- Lấy tích đã tìm được chia cho từng thừa số rồi viết kết quả vào ô trống.

Lời giải chi tiết:

$2 \times 5 = 10$	$2 \times 10 = 20$	$5 \times 8 = 40$
$10 : 2 = 5$	$20 : 2 = 10$	$40 : 5 = 8$
$10 : 5 = 2$	$20 : 10 = 2$	$40 : 8 = 5$

Bài 3 (trang 19 SGK Toán 2 tập 2)

Nêu phép nhân và phép chia thích hợp với mỗi tranh vẽ:



Phương pháp giải:

a) Lấy số học sinh trong mỗi cặp nhân với số cặp ta được một tích.

Lấy tích vừa tìm được chia cho từng thừa số rồi điền vào ô trống.

b) Lấy số học sinh trong mỗi nhóm nhân với số nhóm ta được một tích.

Lấy tích vừa tìm được chia cho từng thừa số rồi điền vào ô trống.

Lời giải chi tiết:

$$2 \times 4 = 8 \begin{cases} \rightarrow 8 : 2 = 4 \\ \rightarrow 8 : 4 = 2 \end{cases}$$

$$5 \times 4 = 20 \begin{cases} \rightarrow 20 : 4 = 5 \\ \rightarrow 20 : 5 = 4 \end{cases}$$

Bài 4 (trang 19 SGK Toán 2 tập 2)

Kể chuyện theo các bức tranh có sử dụng phép chia $8 : 2$.



Phương pháp giải:

Quan sát tranh vẽ và mô tả bức tranh có sử dụng phép chia $8 : 2$

Lời giải chi tiết:

Nam và Hoa có một bình cá và trong bình có 8 con cá. Không may cún con đùa nghịch làm vỡ bình cá vì vậy Nam và Hoa lấy hai chiếc bình khác đựng, mỗi bình có 4 con cá.

Mời các em học sinh và quý thầy cô tham khảo hướng dẫn giải bài tập Toán lớp 2: Bảng chia 2 trang 20 - Cánh Diều được đội ngũ chuyên gia biên soạn đầy đủ và ngắn gọn dưới đây.

Giải bài tập Toán 2 bài: Bảng chia 2 - Cánh diều.

Bài 1 (trang 20 SGK Toán 2 tập 2)

Tính nhẩm:

$4 : 2$

$14 : 2$

$6 : 2$

$16 : 2$

$12 : 2$

$10 : 2$

Phương pháp giải:

Tính nhằm kết quả của phép chia dựa vào bảng chia 2 trong bài học.

Lời giải chi tiết:

$4 : 2 = 2$

$14 : 2 = 7$

$6 : 2 = 3$

$16 : 2 = 8$

$12 : 2 = 6$

$10 : 2 = 5$

Bài 2 (trang 20 SGK Toán 2 tập 2)

Tính (theo mẫu):

Mẫu: $8 \text{ l} : 2 = 4 \text{ l}$

$10 \text{ kg} : 2$

$18 \text{ cm} : 2$

$16 \text{ l} : 2$

$14 \text{ kg} : 2$

$20 \text{ dm} : 2$

$12 \text{ l} : 2$

Phương pháp giải:

Tính nhằm kết quả phép tính dựa vào bảng chia 2 và viết đơn vị thích hợp.

Lời giải chi tiết:

$10 \text{ kg} : 2 = 5 \text{ kg}$

$18 \text{ cm} : 2 = 9 \text{ cm}$

$16 \text{ l} : 2 = 8 \text{ l}$

$14 \text{ kg} : 2 = 7 \text{ kg}$

$20 \text{ dm} : 2 = 10 \text{ cm}$

$12 \text{ l} : 2 = 6 \text{ l}$

Bài 3 (trang 21 SGK Toán 2 tập 2)

Tính nhẩm:

$$\begin{array}{l} 2 \times 3 \\ 6 : 2 \\ 6 : 3 \end{array}$$

$$\begin{array}{l} 2 \times 6 \\ 12 : 2 \\ 12 : 6 \end{array}$$

$$\begin{array}{l} 2 \times 9 \\ 18 : 2 \\ 18 : 9 \end{array}$$

Phương pháp giải:

Tính nhẩm kết quả phép tính dựa vào bảng nhân 2 và bảng chia 2 đã học.

Lời giải chi tiết:

$2 \times 3 = 6$

$2 \times 6 = 12$

$2 \times 9 = 18$

$6 : 2 = 3$

$12 : 2 = 6$

$18 : 2 = 9$

$6 : 3 = 2$


$12 : 6 = 2$

$18 : 9 = 2$

Bài 4 (trang 21 SGK Toán 2 tập 2)

Xem tranh rồi nói phép chia thích hợp:


a)



Có 10 quả thông, chia đều cho 2 bạn Sóc. Mỗi bạn Sóc được 5 quả thông.

Ta có phép chia $\boxed{?} \div \boxed{?} = \boxed{?}$

b)



Có 8 bánh xe, lắp vào mỗi xe đạp 2 bánh. Lắp đủ cho 4 xe đạp.

Ta có phép chia $\boxed{?} \div \boxed{?} = \boxed{?}$

Phương pháp giải:

Quan sát tranh rồi viết phép chia tương ứng vào ô trống.

Lời giải chi tiết:

Em quan sát hình vẽ, em thấy có 10 quả thông, chia đều cho 2 bạn Sóc. Mỗi bạn Sóc có 5 quả thông.

a, Ta có phép chia: $10 : 2 = 5$

Em điền như sau: $10 : 2 = 5$

Em quan sát hình vẽ, thấy có 8 bánh xe, lắp vào mỗi xe đạp 2 bánh xe.

b, 8 bánh xe lắp đủ cho 4 xe đạp. Ta có phép chia: $8 : 2 = 4$

Em điền như sau: $8 : 2 = 4$

Bài 5 (trang 21 SGK Toán 2 tập 2)

Kể tên một tình huống thực tế có sử dụng phép chia trong bảng chia 2.

Phương pháp giải:

Nêu một tình huống thực tế xung quanh em như con vật, cây cối, đồ dùng ... trong đó sử dụng phép chia 2.

Lời giải chi tiết:

Tình huống: Có 12 bông hoa chia đều vào 2 lọ, mỗi lọ có 6 bông hoa.