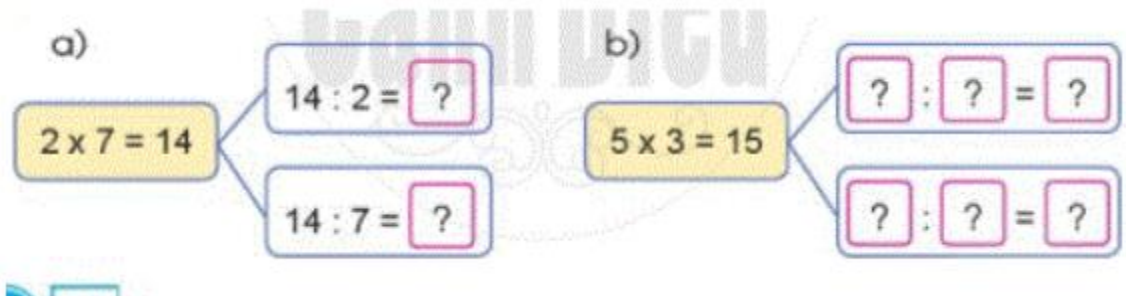


Mời các em học sinh và quý thầy cô tham khảo hướng dẫn giải bài tập Toán lớp 2: Phép chia (tiếp theo) trang 18 - Cánh Diều được đội ngũ chuyên gia biên soạn đầy đủ và ngắn gọn dưới đây.

Giải bài tập Toán 2 bài: Phép chia (tiếp theo) - Cánh diều.

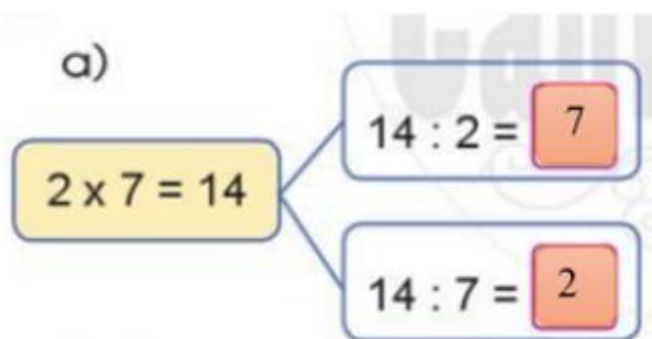
Cho phép nhân, nêu hai phép chia thích hợp:

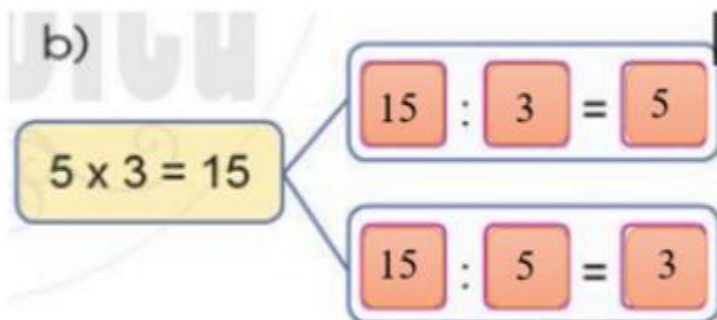


Phương pháp giải:

Ta lấy tích chia cho từng thừa số rồi viết phép chia phù hợp vào ô trống.

Lời giải chi tiết:





Bài 2 (trang 18 SGK Toán 2 tập 2)

Số ?

$2 \times 5 = ?$	$2 \times 10 = ?$	$5 \times 8 = ?$
$10 : 2 = ?$	$20 : 2 = ?$	$40 : 5 = ?$
$10 : 5 = ?$	$20 : 10 = ?$	$40 : 8 = ?$

Phương pháp giải:


- Tính nhẩm các phép tính theo bảng nhân 2 và bảng nhân 5
- Lấy tích đã tìm được chia cho từng thừa số rồi viết kết quả vào ô trống.

Lời giải chi tiết:

$2 \times 5 = 10$	$2 \times 10 = 20$	$5 \times 8 = 40$
$10 : 2 = 5$	$20 : 2 = 10$	$40 : 5 = 8$
$10 : 5 = 2$	$20 : 10 = 2$	$40 : 8 = 5$

Bài 3 (trang 19 SGK Toán 2 tập 2)

Nêu phép nhân và phép chia thích hợp với mỗi tranh vẽ:



Phương pháp giải:

a) Lấy số học sinh trong mỗi cặp nhân với số cặp ta được một tích.

Lấy tích vừa tìm được chia cho từng thừa số rồi điền vào ô trống.

b) Lấy số học sinh trong mỗi nhóm nhân với số nhóm ta được một tích.

Lấy tích vừa tìm được chia cho từng thừa số rồi điền vào ô trống.

Lời giải chi tiết:

$$2 \times 4 = 8 \begin{cases} \rightarrow 8 : 2 = 4 \\ \rightarrow 8 : 4 = 2 \end{cases}$$

$$5 \times 4 = 20 \begin{cases} \rightarrow 20 : 4 = 5 \\ \rightarrow 20 : 5 = 4 \end{cases}$$

Bài 4 (trang 19 SGK Toán 2 tập 2)

Kể chuyện theo các bức tranh có sử dụng phép chia $8 : 2$.



Phương pháp giải:

Quan sát tranh vẽ và mô tả bức tranh có sử dụng phép chia $8 : 2$

Lời giải chi tiết:

Nam và Hoa có một bình cá và trong bình có 8 con cá. Không may cún con đùa nghịch làm vỡ bình cá vì vậy Nam và Hoa lấy hai chiếc bình khác đựng, mỗi bình có 4 con cá.