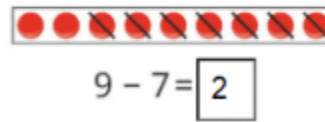
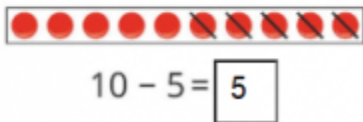
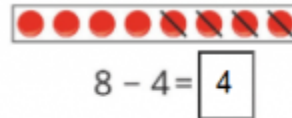
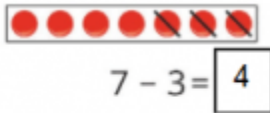


1. Số? (Hình bài 1 trang 65, SGK Toán 1)

Hướng dẫn:

Quan sát hình, điền số thích hợp vào các phép tính:



- Có 7 hình tròn, gạch đi 3 hình tròn. Còn **4** hình tròn
- Có 10 hình tròn, gạch đi 5 hình tròn. Còn **5** hình tròn
- Có 8 hình tròn, gạch đi 4 hình tròn. Còn **4** hình tròn
- Có 9 hình tròn, gạch đi 7 hình tròn. Còn **2** hình tròn

2. Tính: (Bài 2 trang 65, SGK Toán 1)

Hướng dẫn:

Tính cách phép tính rồi ghi kết quả chính xác:

$10 - 2 = 8$ $8 - 7 = 1$ $9 - 5 = 5$

$6 - 3 = 3$ $7 - 5 = 2$ $6 - 5 = 1$

$7 - 6 = 1$ $9 - 6 = 3$ $10 - 8 = 2$

3. Nêu phép trừ thích hợp với tranh vẽ: (Bài 3 trang 65, SGK Toán 1)

Hướng dẫn:

Quan sát hình:



$$\boxed{9} - \boxed{7} = \boxed{2}$$

Có 9 thanh gỗ cần sơn, đã sơn được 7 thanh gỗ. Còn lại 2 thanh gỗ

=> Phép tính: **9 - 7 = 2**