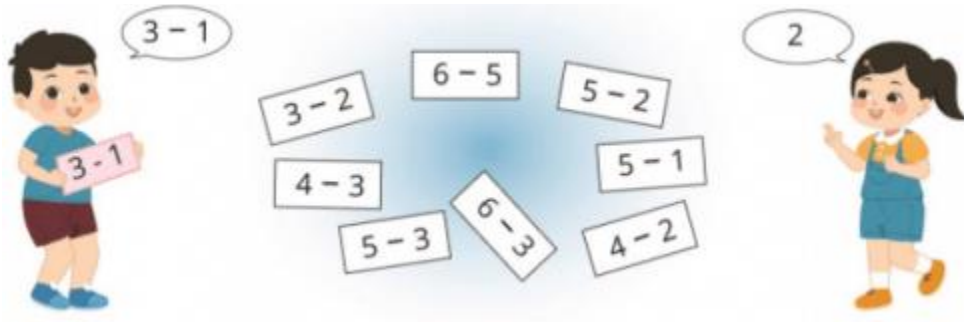


1. Tìm kết quả của mỗi phép tính:



Hướng dẫn:

Tính các phép tính, rồi ghi kết quả chính xác:

$3 - 2 = 1$ $4 - 3 = 1$ $5 - 1 = 4$

$6 - 5 = 1$ $5 - 3 = 2$ $4 - 2 = 2$

$5 - 2 = 3$ $6 - 3 = 3$

2. Tính nhẩm:

$2 - 1$
 $5 - 4$

$5 - 5$
 $6 - 6$

$5 - 0$
 $6 - 0$

Hướng dẫn:

Tính nhẩm các phép tính rồi ghi kết quả chính xác:

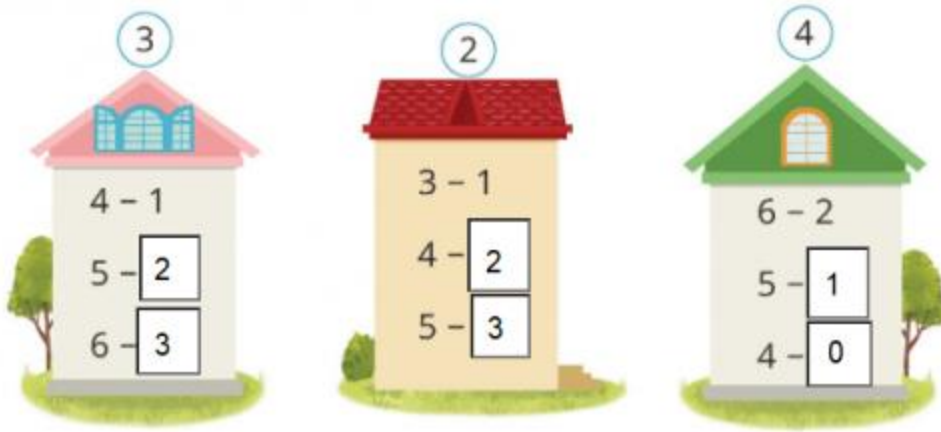
$2 - 1 = 1$ $5 - 5 = 0$ $5 - 0 = 5$

$5 - 4 = 1$ $6 - 6 = 0$ $6 - 0 = 6$

3. Số? (Hình bài 3 trang 62, SGK Toán 1)

Hướng dẫn:

Quan sát hình, điền các số vào ô trống



Hình bên trái kết quả phép tính bằng 3: $4 - 1 = 3$; $5 - 2 = 3$; $6 - 3 = 3$


Hình ở giữa kết quả phép tính bằng 2: $3 - 1 = 2$; $4 - 2 = 2$; $5 - 3 = 2$

Hình bên phải kết quả phép tính bằng 4: $6 - 2 = 4$; $5 - 1 = 4$; $4 - 0 = 4$

4. Số? (Hình bài 4 trang 63, SGK Toán 1)

Hướng dẫn:

Quan sát hình, điền số vào chỗ trống để được phép tính thích hợp:



- Có 5 con chim trong lồng, 1 con chim bay ra. Còn 4 con chim => Phép tính:
 $5 - 1 = 4$
- Có 5 con chim trong lồng, 3 con chim bay ra. Còn 2 con chim => Phép tính: $5 - 3 = 2$
- Có 5 con chim trong lồng, cả 5 con chim bay ra. Còn 0 con chim => Phép tính: $5 - 5 = 0$

5. Xem tranh rồi nêu các phép trừ thích hợp:



Hướng dẫn:

Quan sát tranh, rồi nêu các phép tính trừ thích hợp:

- Có 6 con chim đang ăn ở dưới cỏ, 3 con chim bay lên trời. Còn 3 con chim
=> Phép tính: $6 - 3 = 3$

- Có 3 con bò đang ăn trên bãi cỏ, 1 con bò đi về. Còn 2 con bò

=> Phép tính: $3 - 1 = 2$

- Có 5 con vịt đang bơi dưới ao, một con vịt lên trên bờ. Còn 4 con vịt bơi dưới ao

=> Phép tính: $5 - 1 = 4$