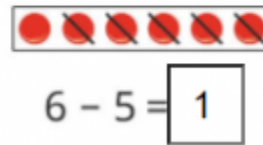
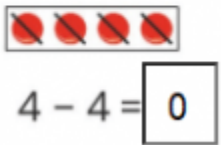
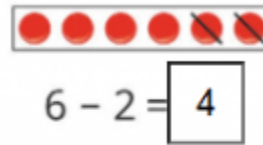
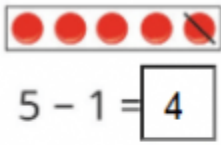


1. Số? (Hình bài 1 trang 58, SGK Toán 1)

Hướng dẫn:



Quan sát hình:

- Có 5 hình tròn, gạch đi 1 hình tròn. Còn **4** hình tròn
- Có 6 hình tròn, gạch đi 2 hình tròn. Còn **4** hình tròn
- Có 4 hình tròn, gạch đi 4 hình tròn. Còn **0** hình tròn
- Có 6 hình tròn, gạch đi 5 hình tròn. Còn **1** hình tròn

2. Tính: (Bài 2 trang 58, SGK Toán 1)

Hướng dẫn:

Tính cách phép tính rồi ghi kết quả chính xác:

1 - 1 = 0 5 - 2 = 3 5 - 4 = 1

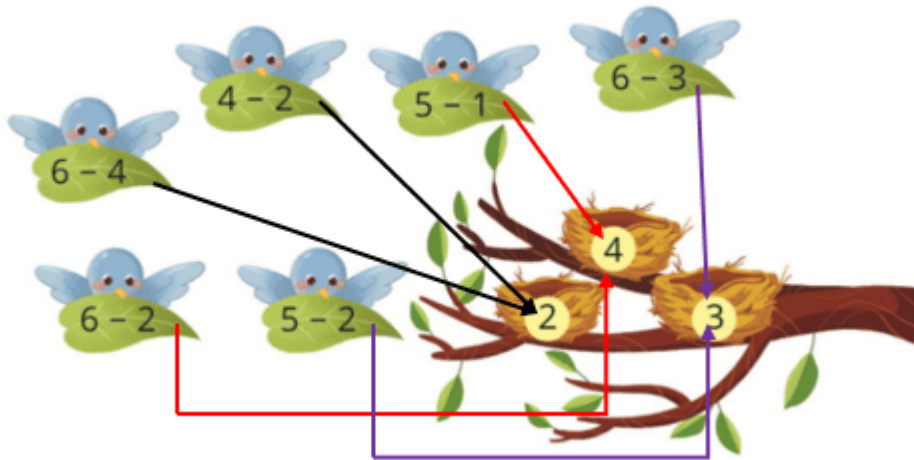
4 - 1 = 3 2 - 1 = 1 6 - 1 = 5

3 - 1 = 2 3 - 2 = 1 4 - 3 = 1

3. Chọn kết quả đúng với mỗi phép tính: (Hình bài 3 trang 58, SGK Toán 1)

Hướng dẫn:

Quan sát hình, tính các phép tính và chọn kết quả đúng với mỗi phép tính:



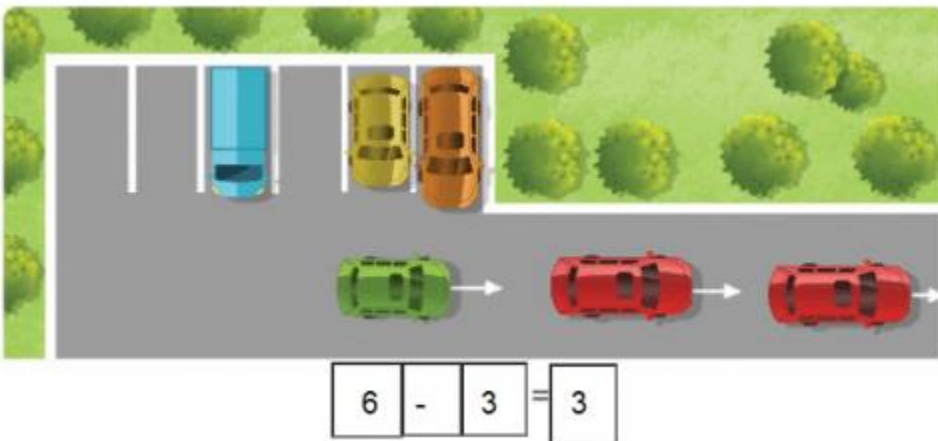
- Phép tính: $6 - 4 = 2$; $4 - 2 = 2$
- Phép tính: $6 - 2 = 4$; $5 - 1 = 4$
- Phép tính: $6 - 3 = 3$; $5 - 2 = 3$

4. Nêu các phép tính thích hợp với mỗi tranh vẽ: (Hình bài 2 trang 59, SGK Toán 1)

Hướng dẫn:

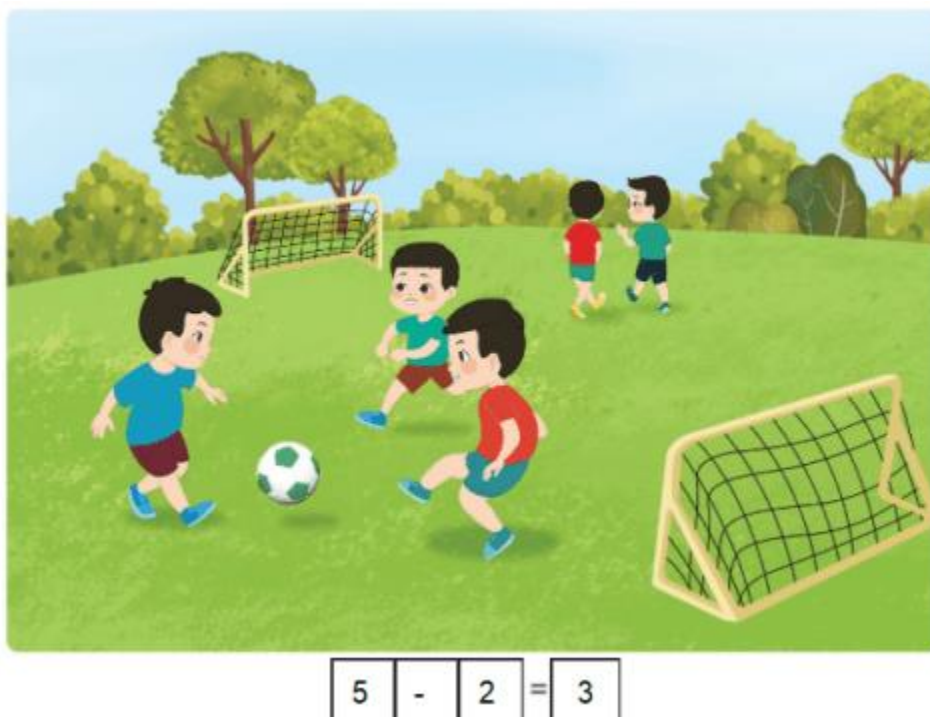
Quan sát các hình, nêu các phép tính thích hợp với mỗi hình:

a,



- Trong bãi xe có 6 chiếc ô tô đang đậu, 3 xe đã được lấy đi. Trong bãi còn 3 chiếc xe ô tô => Phép tính: $6 - 3 = 3$

b,



- Có 5 bạn nhỏ đang chơi đá bóng, 2 bạn nhỏ đi về. Còn lại 3 bạn nhỏ đang chơi => Phép tính: $5 - 2 = 3$