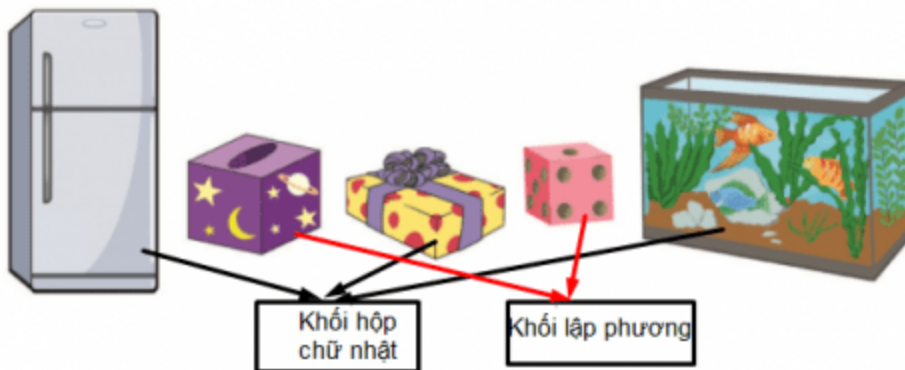


**1. Xem các hình sau rồi kể tên đồ vật có dạng: Khối hộp chữ nhật, khối lập phương. (Hình bài 1 trang 52, SGK Toán 1)**

Hướng dẫn:

Quan sát hình, nhận diện các đồ vật có dạng khối hộp chữ nhật và khối lập phương:



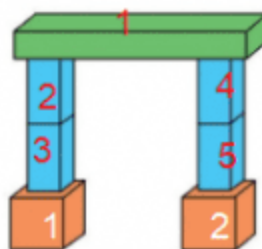
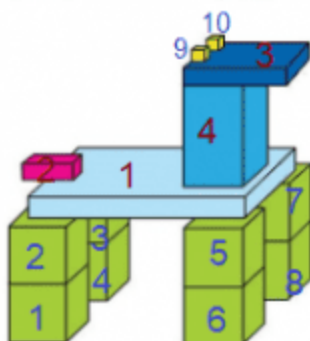
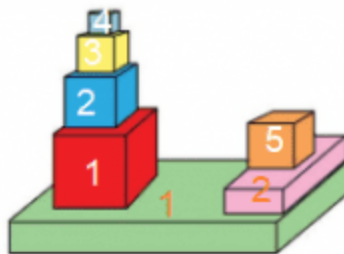
- Đồ vật có dạng khối hộp chữ nhật là: Bể cá, hộp quà, tủ lạnh
- Đồ vật có dạng khối lập phương là: Hộp đựng giấy, xúc xắc

**2. a, Mỗi hình sau có bao nhiêu khối hộp chữ nhật? Khối lập phương? (Hình bài 2a trang 52, SGK Toán 1)**

b, Xếp hình em thích bằng những khối hộp chữ nhật và khối lập phương.

Hướng dẫn:

a, Quan sát hình, nhận dạng và đếm các hình có dạng khối hộp chữ nhật và khối lập phương:



b, Sử dụng những khối hộp chữ nhật và khối lập phương xếp thành các hình mà em thích.

**3. Kể tên các đồ vật trong thực tế:**




a, Có dạng khối hộp chữ nhật.

b, Có dạng khối lập phương.

Hướng dẫn:

a, Đồ vật có dạng khối hộp chữ nhật: Tủ quần áo, viên gạch xây nhà, bao diêm....



b, Đồ vật có dạng khối lập phương là: đồ chơi, khối rubik, xúc xắc....



*Đô chơi*



*Rubik*



*Húc xúc*