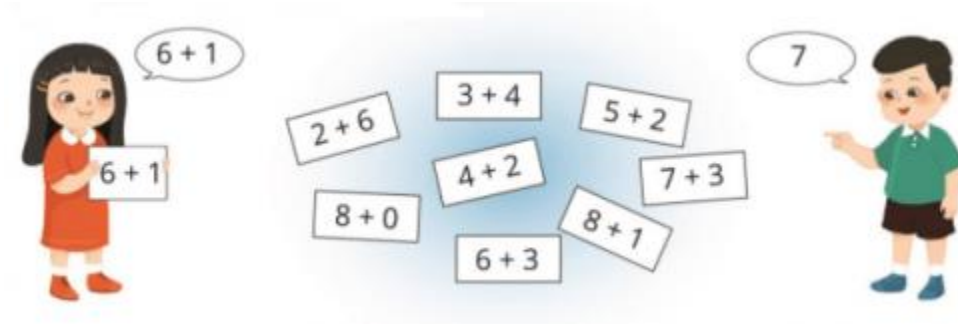


**1. Tìm kết quả của mỗi phép tính:**

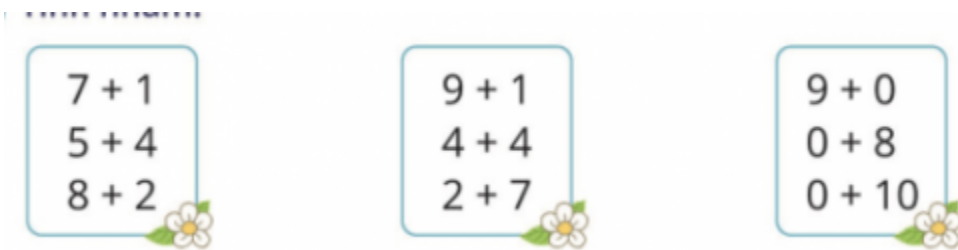


Hướng dẫn:

Quan sát hình, tính các phép tính và ghi kết quả chính xác:

$2 + 6 = 8$	$3 + 4 = 7$	$5 + 2 = 7$
$8 + 0 = 8$	$4 + 2 = 6$	$7 + 3 = 10$
$6 + 3 = 9$	$8 + 1 = 9$	

**2. Tính nhẩm:**



Hướng dẫn:

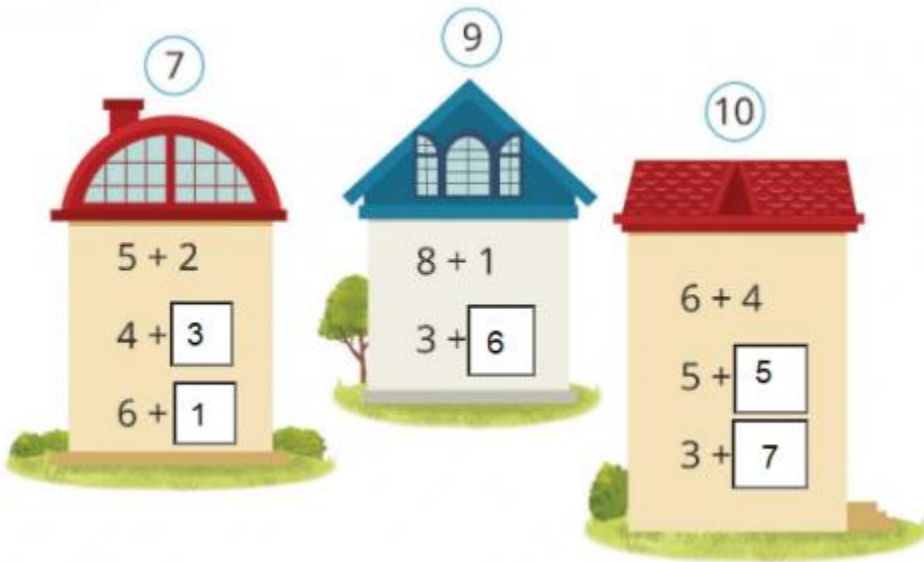
Tính nhẩm các phép tính và ghi kết quả chính xác:

$7 + 1 = 8$	$9 + 1 = 10$	$9 + 0 = 9$
$5 + 4 = 9$	$4 + 4 = 8$	$0 + 8 = 8$

$8 + 2 = 10$       $2 + 7 = 9$       $0 + 10 = 10$

**3. Số? (Hình bài 3 trang 51, SGK Toán 1)**


Hướng dẫn:



Quan sát hình, ghi các số thích hợp:

- Hình bên trái:  $5 + 2 = 7$ ;  $4 + 3 = 7$ ;  $6 + 1 = 7$
- Hình ở giữa:  $8 + 1 = 9$ ;  $3 + 6 = 9$
- Hình bên phải:  $6 + 4 = 10$ ;  $5 + 5 = 10$ ;  $3 + 7 = 10$

**4. a, Nêu các phép cộng có kết quả là 10 từ những thẻ số sau:**



**b, Nêu phép tính thích hợp với tranh vẽ: (Hình bài 4b trang 51, SGK Toán 1)**

Hướng dẫn:

a, Từ các thẻ số, nêu các phép cộng có kết quả là 10:

$9 + 1 = 10$	$6 + 4 = 10$
$8 + 2 = 10$	$5 + 5 = 10$
$7 + 3 = 10$	

b,



5	+	3	=	8
---	---	---	---	---

Trong hộp có 5 chiếc bút chì, bạn nhỏ cho thêm vào hộp 3 chiếc bút chì. Có 8 chiếc bút chì