

Nội dung bài viết

1. [Giải bài tập Toán 2 bài: 14, 15, 16, 17, 18 trừ đi một số - Chân trời sáng tạo](#)

Mời các em học sinh và quý thầy cô tham khảo hướng dẫn **Giải bài tập Toán lớp 2: 14, 15, 16, 17, 18 trừ đi một số trang 66 - Chân trời sáng tạo** được đội ngũ chuyên gia biên soạn đầy đủ và ngắn gọn dưới đây.

*Giải bài tập Toán 2 bài: 14, 15, 16, 17, 18 trừ đi một số - Chân trời sáng tạo*

### Bài 1

Tính:

a)  $15 - 5 - 2$

b)  $17 - 7 - 1$

c)  $14 - 4 - 5$

d)  $16 - 6 - 2$

### Phương pháp giải:

Thực hiện các phép tính lần lượt theo thứ tự từ trái sang phải.

### Lời giải chi tiết:

a)  $15 - 5 - 2 = 10 - 2 = 8.$

b)  $17 - 7 - 1 = 10 - 1 = 9.$

c)  $14 - 4 - 5 = 10 - 5 = 5.$

d)  $16 - 6 - 2 = 10 - 2 = 8.$

### Bài 2

Tính nhẩm.

$14 - 5$

$17 - 9$

$14 - 8$

$15 - 8$

$16 - 7$

$18 - 9$

### Phương pháp giải:

Viết số trừ thành tổng của 2 số thích hợp, sau đó áp dụng quy tắc: Trừ để được 10 rồi trừ với số còn lại.

**Lời giải chi tiết:**

$$\bullet 14 - 5 \quad \bullet 17 - 9$$

$$5 = 4 + 1 \quad 9 = 7 + 2$$

$$14 - 4 = 10 \quad 17 - 7 = 10$$

$$10 - 1 = 9 \quad 10 - 2 = 8$$

Vậy:  $14 - 5 = 9$ . Vậy:  $17 - 9 = 8$ .

$$\bullet 14 - 8 \quad \bullet 15 - 8$$

$$8 = 4 + 4 \quad 8 = 5 + 3$$

$$14 - 4 = 10 \quad 15 - 5 = 10$$

$$10 - 4 = 6 \quad 10 - 3 = 7$$

Vậy:  $14 - 8 = 6$ . Vậy:  $15 - 8 = 7$ .

$$\bullet 16 - 7 \quad \bullet 18 - 9$$

$$7 = 6 + 1 \quad 9 = 8 + 1$$

$$16 - 6 = 10 \quad 18 - 8 = 10$$

$$10 - 1 = 9 \quad 10 - 1 = 9$$

Vậy:  $16 - 7 = 9$ . Vậy:  $18 - 9 = 9$ .

Vậy ta có kết quả như sau:

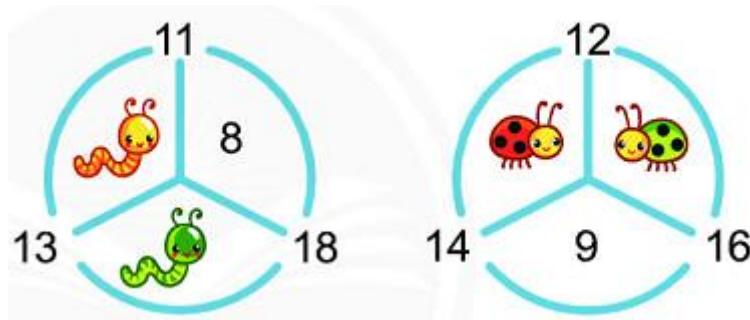
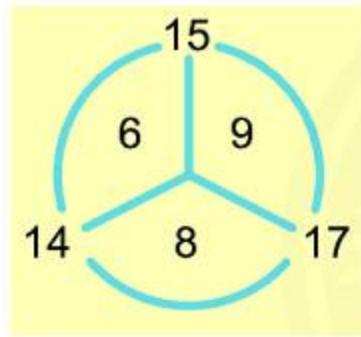
$$14 - 5 = 9 \quad 17 - 9 = 8 \quad 14 - 8 = 6$$

$$15 - 8 = 7 \quad 16 - 7 = 9 \quad 18 - 9 = 9$$

**Bài 3**

Mỗi con vật che số nào?

Mẫu:



**Phương pháp giải:**

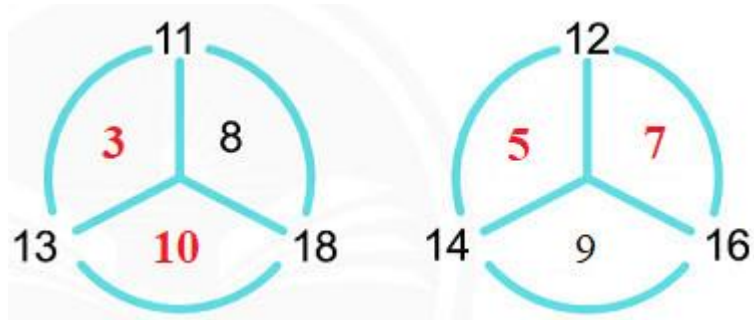
Quan sát ví dụ mẫu ta thấy mỗi số bên ngoài bằng tổng của hai số liền kề ở bên trong, từ đó số còn thiếu bằng số bên ngoài trừ đi số hạng đã biết bên trong.

**Lời giải chi tiết:**

Ta có:

- $11 - 8 = 3$ . Do đó chú sên màu vàng che số 3.
- $18 - 8 = 10$ . Do đó chú sên màu xanh che số 10.
- $14 - 9 = 5$ . Do đó chú bọ rùa màu đỏ che số 5.
- $16 - 9 = 7$ . Do đó chú bọ rùa màu xanh che số 7.

Vậy ta có kết quả như sau:



**Bài 4**

Tính để biết mỗi bạn rùa sẽ lên toa nào.



**Phương pháp giải:**

Tính nhằm giá trị mỗi phép tính, từ đó tìm được toa tàu mà mỗi bạn rùa sẽ lên.

**Lời giải chi tiết:**

Ta có:

$11 - 8 = 3;$                        $11 - 10 = 1;$

$11 - 7 = 4;$                        $11 - 9 = 2.$

Do đó:

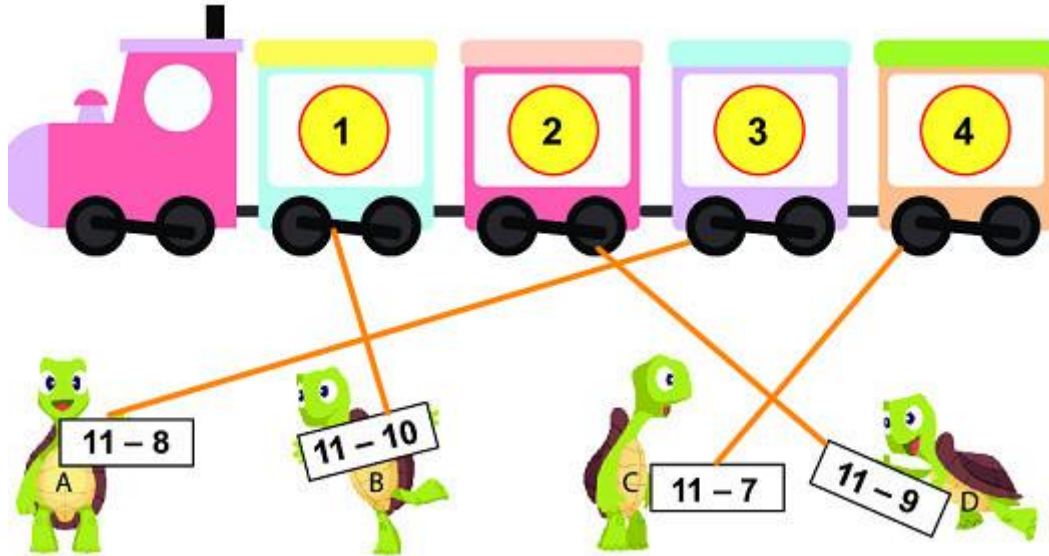
Bạn rùa A sẽ lên toa tàu có ghi số 3.

Bạn rùa B sẽ lên toa tàu có ghi số 1.

Bạn rùa C sẽ lên toa tàu có ghi số 4.

Bạn rùa D sẽ lên toa tàu có ghi số 2.

Hay ta nói như sau:



►► **CLICK NGAY** vào nút **TẢI VỀ** dưới đây để tải về **Giải bài tập Toán lớp 2: 14, 15, 16, 17, 18** trừ đi một số trang 66 - Chân trời sáng tạo file PDF hoàn toàn miễn phí.