




1. Số? (Hình bài 1 trang 39, SGK toán 1)


Hướng dẫn:

Quan sát hình và điền số thích hợp:


 $2 + 1 = \boxed{3}$


 $1 + 3 = \boxed{4}$


 $3 + 2 = \boxed{5}$


 $5 + 1 = \boxed{6}$

- 2 hình tròn xanh và 1 hình tròn đỏ là 3 hình tròn
- 1 hình tròn xanh và 3 hình tròn đỏ là 4 hình tròn
- 3 hình tròn xanh và 2 hình tròn đỏ là 5 hình tròn
- 5 hình tròn xanh và 1 hình tròn đỏ là 6 hình tròn

2. Tính: (Bài 2 trang 39, SGK toán 1)

Hướng dẫn:

Tính các phép tính và ghi kết quả chính xác:

$1 + 1 = 2 \quad 1 + 2 = 3 \quad 1 + 5 = 6$

$2 + 2 = 4 \quad 2 + 4 = 6 \quad 3 + 3 = 6$

$4 + 1 = 5 \quad 2 + 3 = 5 \quad 1 + 4 = 5$

3. Xem tranh rồi nêu phép cộng thích hợp: (Hình bài 3 trang 39, SGK toán 1)

Hướng dẫn:



- Có 3 con mèo thêm 2 con mèo thành 5 con mèo.



- Có 4 con chim đang đậu trên cành cây, thêm 1 con chim bay đến thành 5 con chim đậu trên cành cây.