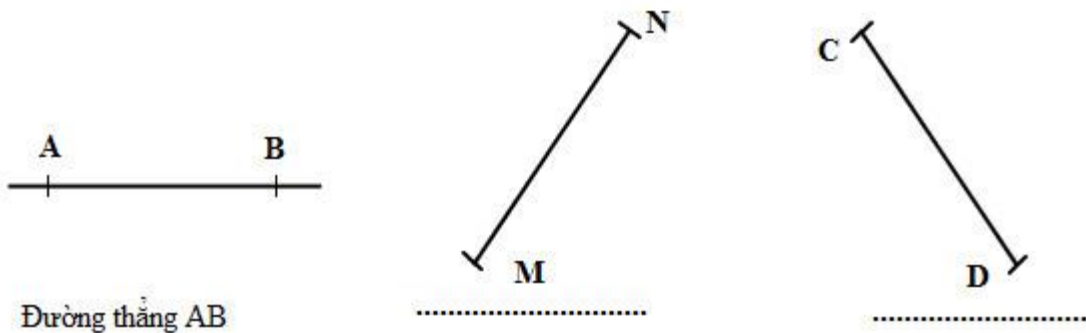
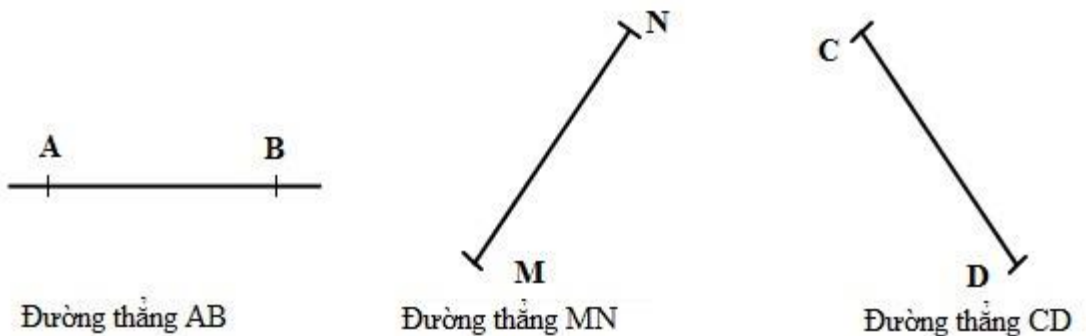


Giải Bài 71 trang 81 VBT Toán lớp 2 Tập 1

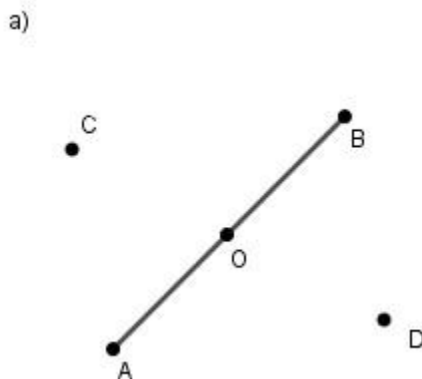
Câu 1. Vẽ đường thẳng rồi viết tên đường thẳng (theo mẫu)



Lời giải:



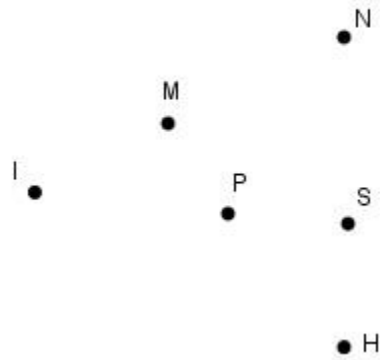
Câu 2. Dùng thước thẳng và bút nối ba điểm thẳng hàng rồi viết (theo mẫu):



A, O, B là ba điểm thẳng hàng

..... là ba điểm thẳng hàng

b)



..... là ba điểm thẳng hàng

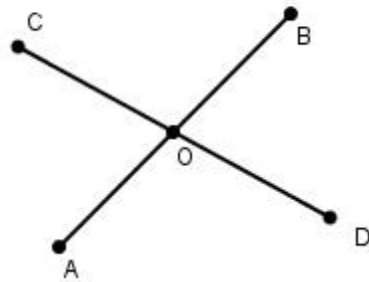
..... là ba điểm thẳng hàng

..... là ba điểm thẳng hàng

..... là ba điểm thẳng hàng

Lời giải:

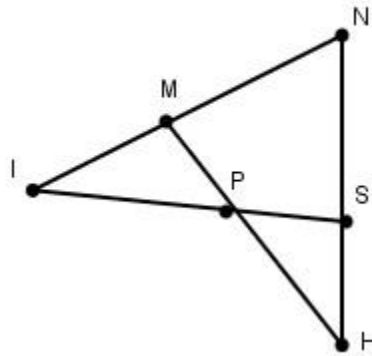
a)



A, O, B là ba điểm thẳng hàng

C, O, D là ba điểm thẳng hàng

b)



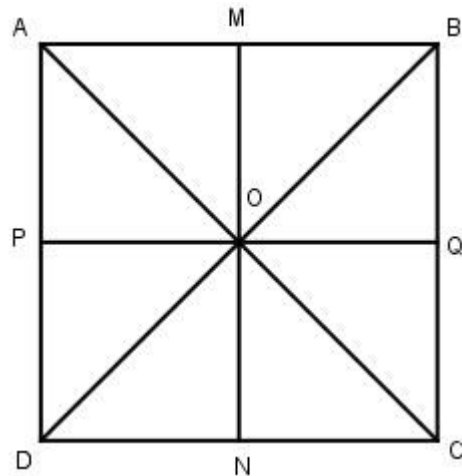
..... là ba điểm thẳng hàng

..... là ba điểm thẳng hàng

..... là ba điểm thẳng hàng

..... là ba điểm thẳng hàng

Câu 3. a) Viết tiếp tên ba điểm thẳng hàng có trong hình vẽ bên (theo mẫu):



A, O, C

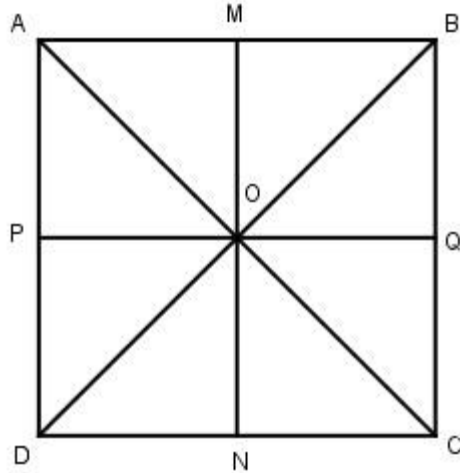
.....

.....

.....

b) Tô màu các hình tam giác trong hình vẽ trên sao cho hai hình tam giác liền kề nhau có màu khác nhau.

Lời giải:



a) Viết ba điểm thẳng hàng có trong hình vẽ bên

A, O, C;

M, O, N;

D, O, B;

A, P, D

A, M, B

P, O, Q;

C, Q, B

D, N, C

b) Tô màu các hình tam giác trong hình vẽ trên sao cho hai hình tam giác liền kề nhau có màu khác nhau.

