

Giải Bài 74 trang 85, 86 VBT Toán lớp 2 Tập 1


Câu 1. Điền số thích hợp vào chỗ chấm:

	Một ngày có giờ
Sáng	1 giờ sáng, 2 giờ sáng, giờ sáng, giờ sáng, 5 giờ sáng, 6 giờ sáng,giờ sáng,giờ sáng,giờ sáng, 10 giờ sáng.
Trưa	11 giờ trưa,giờ trưa.
Chiều	1 giờ chiều (13 giờ chiều), 2 giờ chiều (.....giờ), 3 giờ chiều (.....giờ), 4 giờ chiều (.....giờ), 5 giờ chiều (.....giờ), 6 giờ chiều (.....giờ).
Tốigiờ tối (19 giờ), giờ tối (20 giờ), giờ tối (21 giờ).
Đêm	10 giờ đêm (.....giờ),giờ đêm (23 giờ), giờ đêm (24 giờ)

Lời giải:

	Một ngày có 24 giờ
Sáng	1 giờ sáng, 2 giờ sáng, 3 giờ sáng, 4 giờ sáng, 5 giờ sáng, 6 giờ sáng, 7 giờ sáng, 8 giờ sáng, 9 giờ sáng, 10 giờ sáng.
Trưa	11 giờ trưa, 12 giờ trưa.
Chiều	1 giờ chiều (13 giờ chiều), 2 giờ chiều (14 giờ), 3 giờ chiều (15 giờ), 4 giờ chiều (16 giờ), 5 giờ chiều (17 giờ), 6 giờ chiều (18 giờ).
Tối	7 giờ tối (19 giờ), 8 giờ tối (20 giờ), 9 giờ tối (21 giờ).
Đêm	10 giờ đêm (22 giờ), 11 giờ đêm (23 giờ), 12 giờ đêm (24 giờ)

Câu 2. Số




Em tập thể dục
lúc ... giờ sáng



Mẹ em đi làm về
lúc ... giờ trưa



Em chơi bóng
lúc ... giờ chiều




Em xem phim truyền hình
lúc... giờ tối



Lúc ... giờ đêm em đang ngủ

Lời giải:




Em tập thể dục
lúc 6 giờ sáng



Mẹ em đi làm về
lúc 12 giờ trưa



Em chơi bóng
lúc 5 giờ chiều



Em xem phim truyền hình
lúc 8 giờ tối



Lúc 10 giờ đêm em đang ngủ

Câu 3. Viết số thích hợp vào chỗ chấm:

			
15 giờ hay giờ chiều		20 giờ hay giờ tối	

Lời giải:



Câu 4. Điền chữ A, B, C, D vào bức tranh thích hợp (theo mẫu):

<p>A</p>	<p><input checked="" type="radio"/> C Em vào học lúc 7 giờ sáng.</p>	<p><input type="radio"/> Em chơi thả diều lúc 17 giờ.</p>
<p>B</p>	<p><input type="radio"/> Em ngủ lúc 10 giờ đêm.</p>	<p><input type="radio"/> Em đọc truyện lúc 8 giờ tối.</p>
<p>C</p>		
<p>D</p>		

Lời giải:



C Em vào học lúc 7 giờ sáng.



D Em chơi thả diều lúc 17 giờ.



B Em ngủ lúc 10 giờ đêm.



A Em đọc truyện lúc 8 giờ tối.