

Giải Bài 66 trang 75 VBT Toán lớp 2 Tập 1

Câu 1. Tính nhẩm:

a)

$15 - 6 = \dots$

$15 - 7 = \dots$

$15 - 8 = \dots$

$15 - 9 = \dots$

$17 - 8 = \dots$

$17 - 9 = \dots$

$16 - 7 = \dots$

$16 - 8 = \dots$

$16 - 9 = \dots$

$18 - 9 = \dots$

b)

$18 - 8 - 1 = \dots$

$18 - 9 = \dots$

$16 - 6 - 3 = \dots$

$16 - 9 = \dots$

$15 - 5 - 2 = \dots$

$15 - 7 = \dots$

Lời giải:

a)

$$15 - 6 = 9$$

$$15 - 7 = 8$$

$$15 - 8 = 7$$

$$15 - 9 = 6$$

$$17 - 8 = 9$$

$$17 - 9 = 8$$

$$16 - 7 = 9$$

$$16 - 8 = 8$$

$$16 - 9 = 7$$

$$18 - 9 = 9$$

b)

$$18 - 8 - 1 = 9$$

$$18 - 9 = 9$$

$$16 - 6 - 3 = 7$$

$$16 - 9 = 7$$

$$15 - 5 - 2 = 8$$

$$15 - 7 = 8$$

Câu 2. Đặt tính rồi tính:

$76 - 28$

$55 - 7$

$88 - 59$

$47 - 8$

Lời giải:

$$\begin{array}{r} 76 \\ - 28 \\ \hline 48 \end{array}$$

$$\begin{array}{r} 55 \\ - 7 \\ \hline 48 \end{array}$$

$$\begin{array}{r} 88 \\ - 59 \\ \hline 29 \end{array}$$

$$\begin{array}{r} 47 \\ - 8 \\ \hline 39 \end{array}$$

Câu 3. Mẹ vắt được 58l sữa bò, chị vắt được ít hơn mẹ 19l sữa bò. Hỏi chị vắt được bao nhiêu lít sữa bò?

Lời giải:

Tóm tắt

Mẹ vắt được : 58l sữa

Chị vắt ít hơn mẹ : 19l sữa

Chị vắt được :... l sữa?

Bài giải

Số lít sữa chị vắt được là:

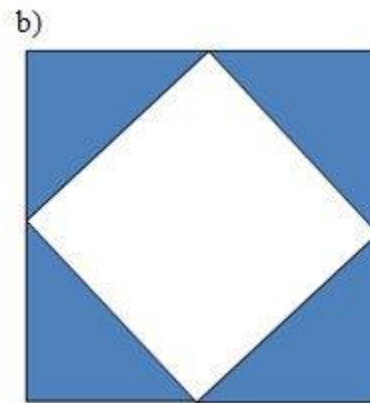
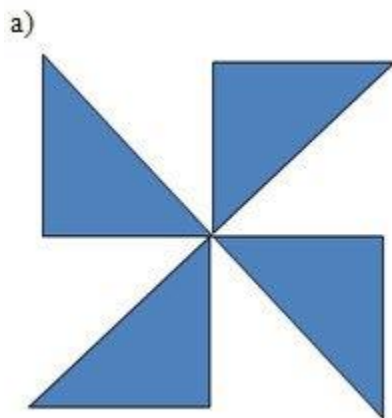
$$58 - 19 = 39 \text{ (l)}$$

Đáp số: 39l

Câu 4. Xếp bốn hình tam giác.




Thành hình sau:



Lời giải:

Thành hình sau:

a)



b)

