

Giải Bài 69 trang 79 VBT Toán lớp 2 Tập 1

Câu 1. Đặt tính rồi tính:

$100 - 3 \quad 100 - 8 \quad 100 - 54 \quad 100 - 77$

Lời giải:

$$\begin{array}{r} 100 \\ - 3 \\ \hline 97 \end{array}$$

$$\begin{array}{r} 100 \\ - 8 \\ \hline 92 \end{array}$$

$$\begin{array}{r} 100 \\ - 54 \\ \hline 46 \end{array}$$

$$\begin{array}{r} 100 \\ - 77 \\ \hline 23 \end{array}$$

Câu 2. Tính nhẩm:

Mẫu: $100 - 20 = ?$

$10 \text{ chục} - 2 \text{ chục} = 8 \text{ chục}$

$100 - 20 = 80$

$100 - 60 = \dots$

$100 - 90 = \dots$

$100 - 30 = \dots$

$100 - 40 = \dots$

Lời giải:

$100 - 60 = ?$

$10 \text{ chục} - 6 \text{ chục} = 4 \text{ chục}$

$100 - 60 = 40$

$100 - 30 = ?$

$10 \text{ chục} - 3 \text{ chục} = 7 \text{ chục}$

$100 - 30 = 70$

$100 - 90 = ?$

$10 \text{ chục} - 9 \text{ chục} = 1 \text{ chục}$

$100 - 90 = 10$

$100 - 40 = ?$

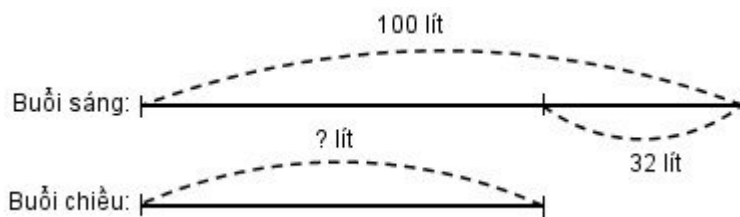
$10 \text{ chục} - 4 \text{ chục} = 6 \text{ chục}$

$100 - 40 = 60$

Câu 3. Một cửa hàng buổi sáng bán được 100l dầu, buổi chiều bán được ít hơn buổi sáng 32l dầu. Hỏi buổi chiều cửa hàng đó bán được bao nhiêu lít dầu?

Lời giải:

Tóm tắt



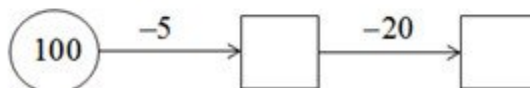
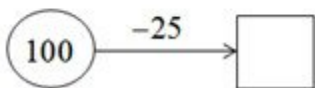
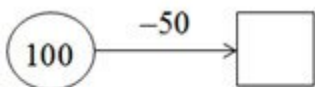
Bài giải

Buổi chiều cửa hàng bán được:

$100 - 32 = 68 \text{ (lít)}$

Đáp số: 68 lít

Câu 4. Số



Lời giải:

