

Mời các em học sinh và quý thầy cô tham khảo hướng dẫn giải bài tập Toán lớp 2: Hình tứ giác trang 82, 83 - Cánh Diều được đội ngũ chuyên gia biên soạn đầy đủ và ngắn gọn dưới đây.

***Giải bài tập Toán 2 bài: Hình tứ giác - Cánh diều.***

**Bài 1 (trang 82 SGK Toán 2 tập 1)**

Trong các hình sau, hình nào là hình tứ giác?



**Phương pháp giải:**


Quan sát kỹ các hình vẽ rồi tìm hình tứ giác trong các hình đã cho (hình tứ giác là hình có 4 cạnh).

**Lời giải chi tiết:**

Trong các hình đã cho, hình thứ hai là hình tứ giác.

**Bài 2 (trang 82 SGK Toán 2 tập 1)**

Chỉ ra những hình tứ giác em nhìn thấy trong mỗi hình sau:




**Phương pháp giải:**

Quan sát kỹ các hình vẽ rồi tìm hình tứ giác trong các hình đã cho (hình tứ giác là hình có 4 cạnh).

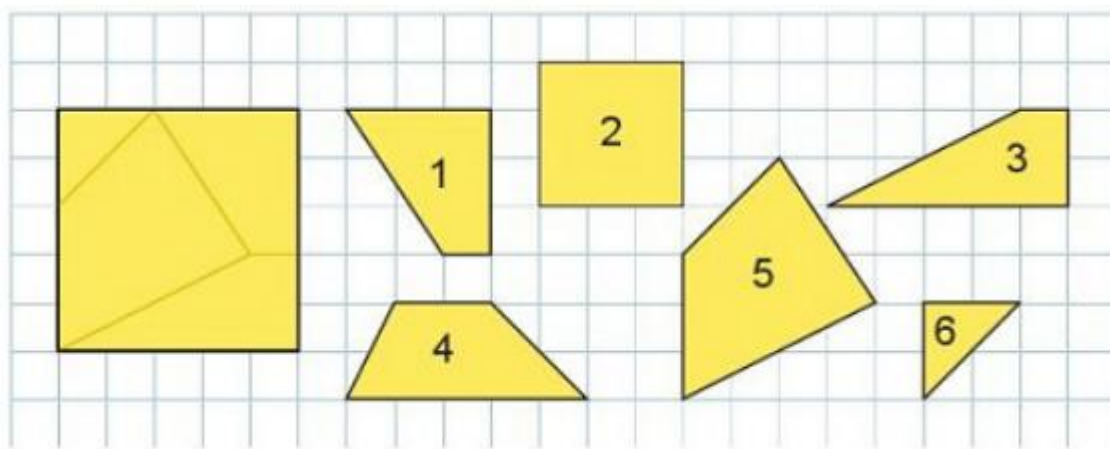
**Lời giải chi tiết:**

Các hình tứ giác có trong mỗi hình được đánh dấu X như sau:



**Bài 3 (trang 83 SGK Toán 2 tập 1)**

Hình vuông sau được ghép từ các mảnh bìa nào?

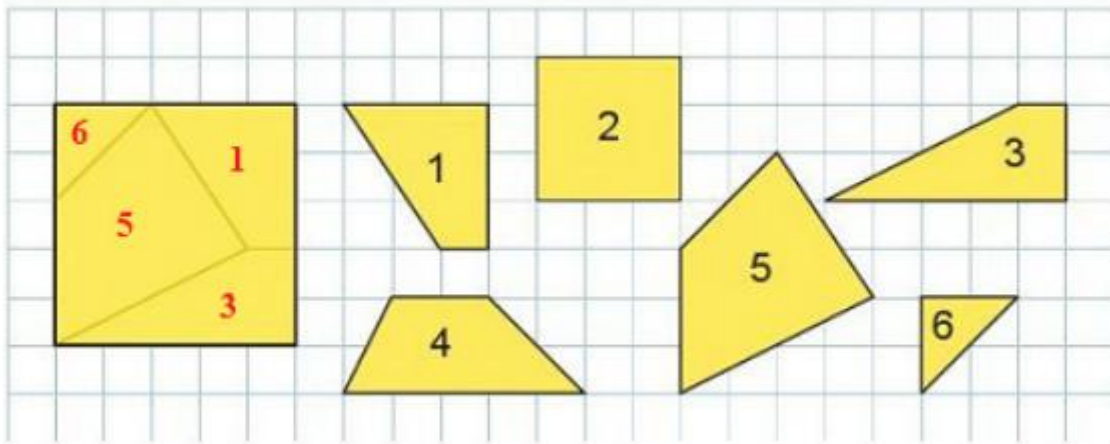


**Phương pháp giải:**

Quan sát kỹ hình vuông và các mảnh bìa được đánh số từ 1 đến 6, từ đó tìm được các mảnh bìa nào ghép được hình vuông đã cho.

**Lời giải chi tiết:**

Quan sát hình vuông và các mảnh bìa được đánh số từ 1 đến 6 ta thấy hình vuông đã cho được ghép từ các mảnh bìa 1, 3, 5, 6.



**Bài 4 (trang 83 SGK Toán 2 tập 1)**

Bạn Voi muốn sơn màu xanh da trời vào các mảnh ghép hình tứ giác. Em hãy chỉ giúp bạn Voi những mảnh ghép hình tứ giác.



**Phương pháp giải:**

Quan sát kĩ hình vẽ, tìm hình tứ giác trong hình đã cho (hình tứ giác là hình có 4 cạnh) rồi tô màu vào các hình tứ giác đó.

**Lời giải chi tiết:**

Bạn Voi sẽ tô màu xanh da trời vào các mảnh ghép hình tứ giác như sau:



**Bài 5 (trang 83 SGK Toán 2 tập 1)**

a) Người Mông thường sử dụng đá để làm tường rào xung quanh ngôi nhà của mình. Em có nhìn thấy hình ảnh của hình tứ giác trên bức tường đá trong bức tranh sau không?



b) Tìm một số đồ vật trong thực tế có dạng hình tứ giác.

**Phương pháp giải:**

Quan sát kỹ hình vẽ, tìm hình tứ giác trong hình đã cho (hình tứ giác là hình có 4 cạnh) rồi tô màu vào các hình tứ giác đó.

**Lời giải chi tiết:**

a) Một số hình ảnh của hình tứ giác trên bức tường đá trong bức tranh được đánh dấu X như sau:



b) Một số đồ vật trong thực tế có dạng hình tứ giác là bức tranh, ô cửa sổ, ...