

Mời các em học sinh và quý thầy cô tham khảo hướng dẫn giải bài tập Toán lớp 2: Luyện tập chung trang 74, 75 - Cánh Diều được đội ngũ chuyên gia biên soạn đầy đủ và ngắn gọn dưới đây.

Giải bài tập Toán 2 bài: Luyện tập chung - Cánh diều**Bài 1**

Đặt tính rồi tính:

$58 + 17 \quad 85 - 68 \quad 49 + 9$

$31 + 69 \quad 100 - 24 \quad 72 - 6$

Phương pháp giải:

- Đặt tính : Viết các chữ số cùng hàng thẳng cột với nhau.

- Tính : Cộng, trừ các chữ số lần lượt từ phải sang trái.

Lời giải chi tiết:

$$\begin{array}{r} + 58 \\ 17 \\ \hline 75 \end{array}$$

$$\begin{array}{r} - 85 \\ 68 \\ \hline 17 \end{array}$$

$$\begin{array}{r} + 49 \\ 9 \\ \hline 58 \end{array}$$

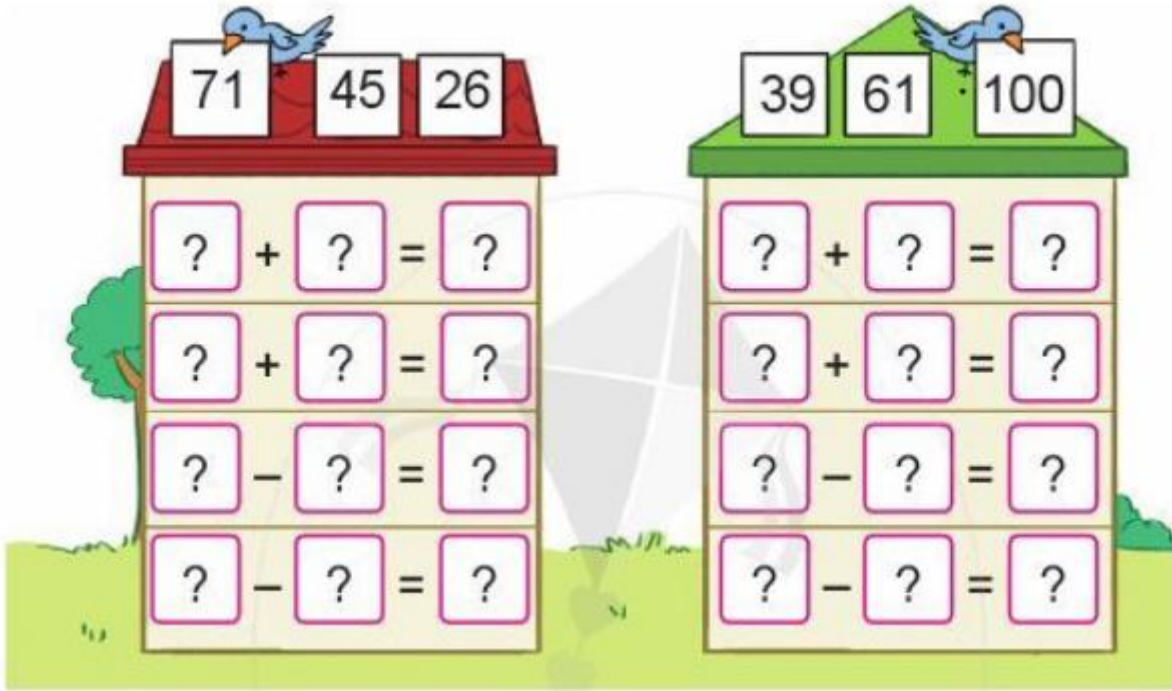
$$\begin{array}{r} + 31 \\ 69 \\ \hline 100 \end{array}$$

$$\begin{array}{r} - 100 \\ 24 \\ \hline 76 \end{array}$$

$$\begin{array}{r} - 72 \\ 6 \\ \hline 66 \end{array}$$

Bài 2

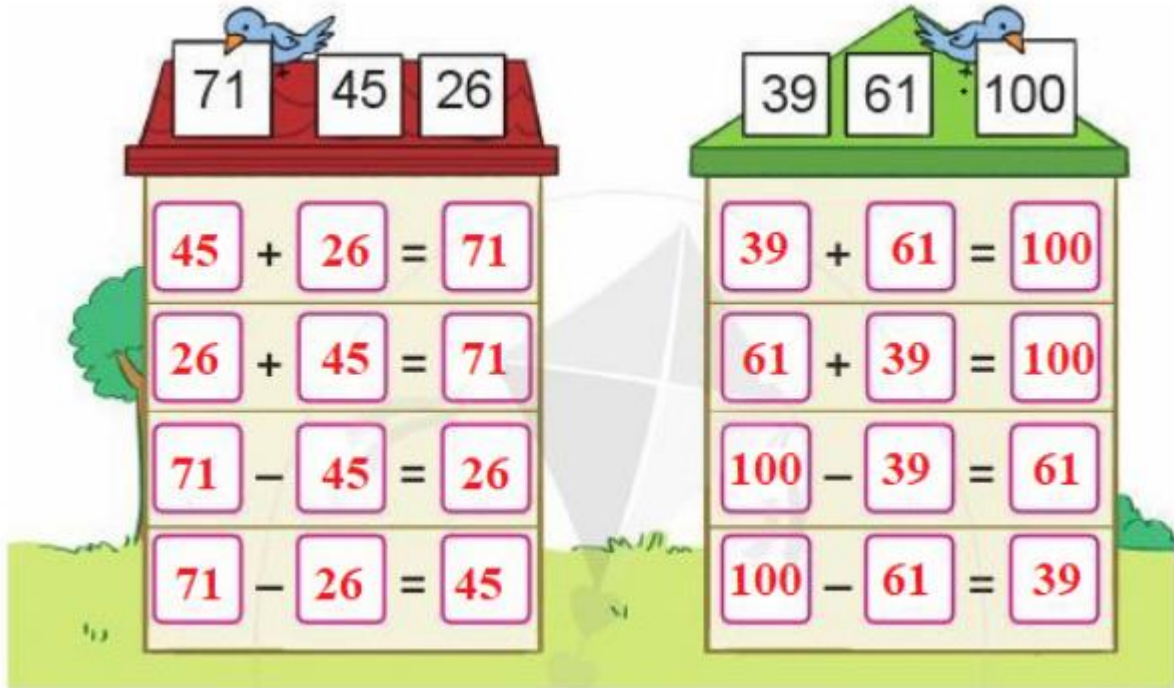
Xếp các thẻ số vào ô thích hợp để tạo thành các phép tính đúng:



Phương pháp giải:

Nhằm tính ta thấy số ở bảng có chú chim chính là tổng của hai số còn lại, từ đó ta viết được các phép tính đúng.

Lời giải chi tiết:



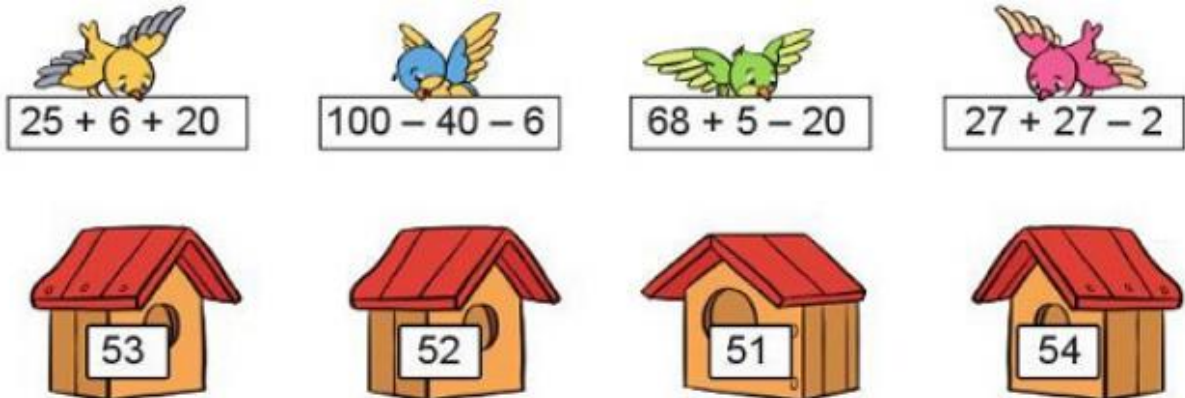
Bài 3

a) Tính:

$20 + 30 + 50$ $100 - 8 - 10$ $11 + 22 + 66$

$100 - 30 - 40$ $44 + 6 + 50$ $73 - 14 + 20$

b) Chọn kết quả đúng với mỗi phép tính:



Phương pháp giải:

- a) Thực hiện các phép tính lần lượt từ trái sang phải.
- b) Thực hiện các phép tính lần lượt từ trái sang phải, sau đó nối phép tính với kết quả tương ứng.

Lời giải chi tiết:

$$20 + 30 + 50 = 50 + 50 = 100$$

$$100 - 8 - 10 = 92 - 10 = 82$$

$$11 + 22 + 66 = 33 + 66 = 99$$

$$100 - 30 - 40 = 70 - 40 = 30$$

$$44 + 6 + 50 = 50 + 50 = 100$$

$$73 - 14 + 20 = 59 + 20 = 79$$

b) Ta có:

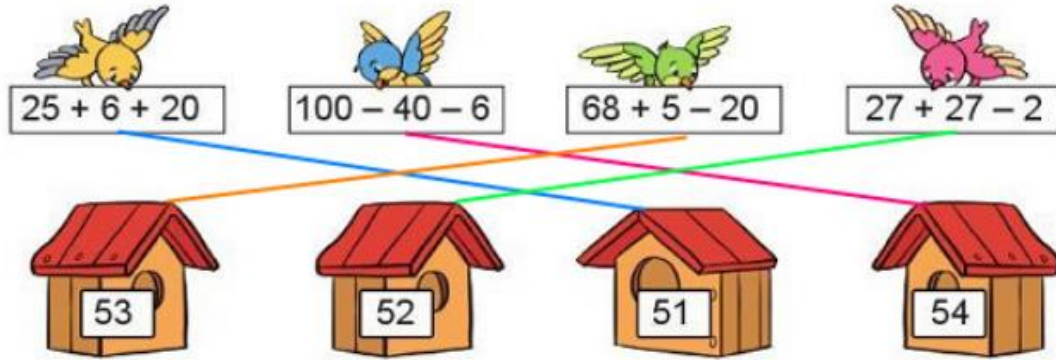
$$25 + 6 + 20 = 31 + 20 = 51 ;$$

$$100 - 40 - 6 = 60 - 6 = 54 ;$$

$$68 + 5 - 20 = 73 - 20 = 53 ;$$

$$27 + 27 - 2 = 54 - 2 = 52.$$

Vậy ta nối phép tính với kết quả tương ứng như sau:



Bài 4

Sơn có 26 quả bóng, Hương có nhiều hơn Sơn 14 quả. Hỏi Hương có bao nhiêu quả bóng?

Phương pháp giải:

- Đọc kĩ đề bài để xác định đề bài cho biết gì (số quả bóng Sơn có, số quả bóng Hương có nhiều hơn Sơn) và hỏi gì (số quả bóng Hương có), từ đó hoàn thành tóm tắt bài toán.
- Để tìm số quả bóng Hương có ta lấy số quả bóng Sơn có cộng với số quả bóng Hương có nhiều hơn Sơn.

Lời giải chi tiết:

Tóm tắt

Sơn có: 26 quả bóng

Hương có nhiều hơn Sơn: 14 quả bóng

Hương có: ? quả bóng

Bài giải

Hương có số quả bóng là:

$$26 + 14 = 40 \text{ (quả)}$$

Đáp số: 40 quả bóng.

Bài 5

Trò chơi “Tìm phép cộng có kết quả bằng 100”.



Học sinh tự viết các phép cộng có kết quả bằng 100.

Lời giải chi tiết:

Học sinh tự tìm các phép cộng có kết quả bằng 100. Bạn nào tìm được nhiều phép tính nhất thì thắng cuộc.