

Mời các em học sinh và quý thầy cô tham khảo hướng dẫn giải bài tập Toán lớp 2: Luyện tập trang 70 - Cánh Diều được đội ngũ chuyên gia biên soạn đầy đủ và ngắn gọn dưới đây.

Giải bài tập Toán 2 bài: Luyện tập - Cánh diều.

Bài 1

Tính:

$$\begin{array}{r} \text{a)} \quad 33 \\ - \quad 15 \\ \hline \boxed{?} \end{array}$$

$$\begin{array}{r} 76 \\ - \quad 68 \\ \hline \boxed{?} \end{array}$$

$$\begin{array}{r} 70 \\ - \quad 24 \\ \hline \boxed{?} \end{array}$$

$$\begin{array}{r} \text{b)} \quad 21 \\ - \quad 7 \\ \hline \boxed{?} \end{array}$$

$$\begin{array}{r} 62 \\ - \quad 3 \\ \hline \boxed{?} \end{array}$$

$$\begin{array}{r} 80 \\ - \quad 6 \\ \hline \boxed{?} \end{array}$$

Phương pháp giải:

Thực hiện trừ các chữ số lần lượt từ phải sang trái.

Lời giải chi tiết:

$$\begin{array}{r} \text{a)} \quad 33 \\ - \quad 15 \\ \hline \boxed{18} \end{array}$$

$$\begin{array}{r} 76 \\ - \quad 68 \\ \hline \boxed{8} \end{array}$$

$$\begin{array}{r} 70 \\ - \quad 24 \\ \hline \boxed{46} \end{array}$$

$$\begin{array}{r} \text{b)} \quad 21 \\ - \quad 7 \\ \hline \boxed{14} \end{array}$$

$$\begin{array}{r} 62 \\ - \quad 3 \\ \hline \boxed{59} \end{array}$$

$$\begin{array}{r} 80 \\ - \quad 6 \\ \hline \boxed{74} \end{array}$$

Bài 2

Đặt tính rồi tính:

a) $74 - 47$ $93 - 88$ $80 - 19$

b) $34 - 6$ $44 - 9$ $50 - 7$

Phương pháp giải:

- Đặt tính : Viết các chữ số cùng hàng thẳng cột với nhau.

- Tính : Trừ các chữ số lần lượt từ phải sang trái.

Lời giải chi tiết:

$$\begin{array}{r} \text{a)} \quad 74 \\ - \quad 47 \\ \hline 27 \end{array}$$

$$\begin{array}{r} 93 \\ - \quad 88 \\ \hline 5 \end{array}$$

$$\begin{array}{r} 80 \\ - \quad 19 \\ \hline 61 \end{array}$$

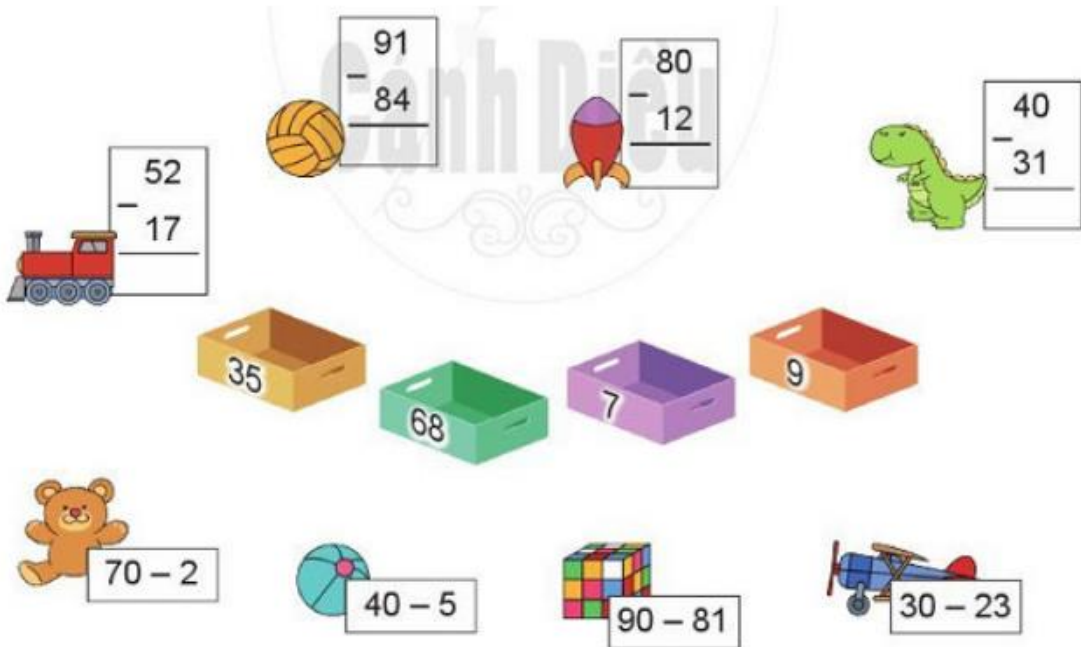
$$\begin{array}{r} \text{b)} \quad 34 \\ - \quad 6 \\ \hline 28 \end{array}$$

$$\begin{array}{r} 44 \\ - \quad 9 \\ \hline 35 \end{array}$$

$$\begin{array}{r} 50 \\ - \quad 7 \\ \hline 43 \end{array}$$

Bài 3

Chọn kết quả đúng với mỗi phép tính:



Phương pháp giải:

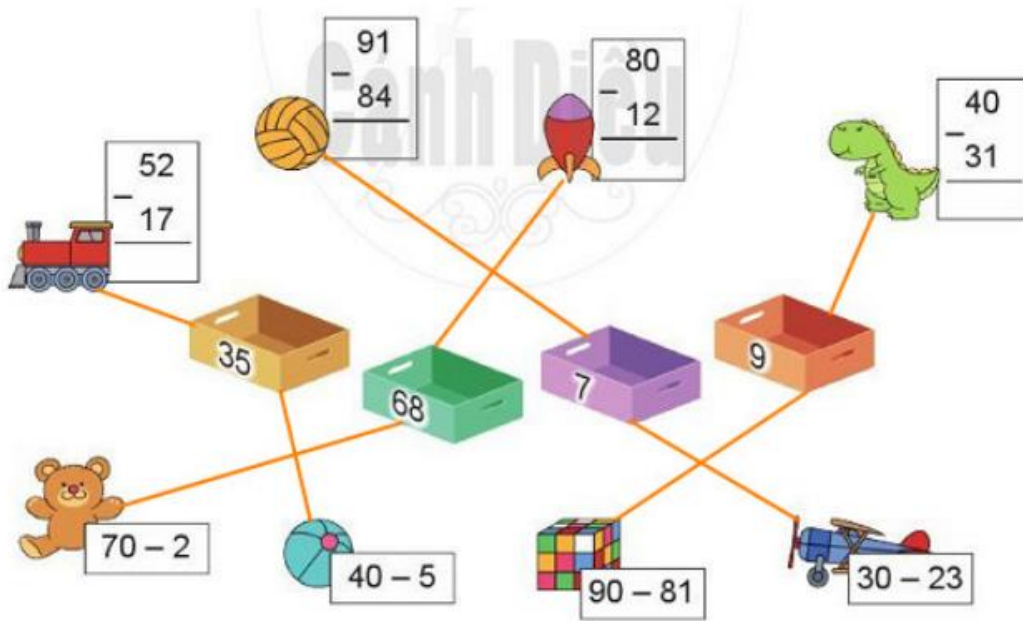
Thực hiện tính nhẩm hoặc đặt tính rồi tính để tìm kết quả của các phép tính, từ đó nối phép tính với kết quả tương ứng.

Lời giải chi tiết:

Đặt tính rồi tính ta được:

$\begin{array}{r} 52 \\ - 17 \\ \hline 35 \end{array}$	$\begin{array}{r} 91 \\ - 84 \\ \hline 7 \end{array}$	$\begin{array}{r} 80 \\ - 12 \\ \hline 68 \end{array}$	$\begin{array}{r} 40 \\ - 31 \\ \hline 9 \end{array}$
$\begin{array}{r} 70 \\ - 2 \\ \hline 68 \end{array}$	$\begin{array}{r} 40 \\ - 5 \\ \hline 35 \end{array}$	$\begin{array}{r} 90 \\ - 81 \\ \hline 9 \end{array}$	$\begin{array}{r} 30 \\ - 23 \\ \hline 7 \end{array}$

Vậy ta có kết quả như sau:



Bài 4

a) Tính:

$60 - 8 - 20$

$70 - 12 + 10$

b) Điền dấu (>, <, =) thích hợp thay cho dấu ? trong ô trống.

Phương pháp giải:

a) Thực hiện các phép tính lần lượt từ trái sang phải.

b) Thực hiện tính nhẩm các phép tính ở vế trái, sau đó so sánh với số ở vế phải rồi điền dấu thích hợp (>, <, =) thay cho dấu ?.

Lời giải chi tiết:

a) $60 - 8 - 20 = 52 - 20 = 32$

$70 - 12 + 10 = 58 + 10 = 68$

b)

$$\underbrace{40 - 4}_{36} \quad (=) \quad 36$$

$$\underbrace{68 - 40}_{28} \quad (=) \quad 28$$

$$\underbrace{80 - 37}_{43} \quad (<) \quad 49$$

$$\underbrace{94 - 5}_{89} \quad (>) \quad 88$$

Bài 5

Một bến thuyền du lịch có 64 chiếc thuyền, trong đó có 39 chiếc thuyền đã rời bến. Hỏi ở bến còn lại bao nhiêu chiếc thuyền?



Phương pháp giải:

- Đọc kỹ đề bài để xác định đề bài cho biết gì (số chiếc thuyền có tất cả ở bến, số chiếc thuyền đã rời bến) và hỏi gì (số chiếc thuyền còn lại ở bến), từ đó hoàn thành tóm tắt bài toán.

- Để tìm số chiếc thuyền còn lại ở bến ta lấy số chiếc thuyền có tất cả ở bến trừ đi số chiếc thuyền đã rời bến.

Lời giải chi tiết:

Tóm tắt

Có: 64 chiếc thuyền

Đã rời bến: 39 chiếc thuyền

Còn lại: ? chiếc thuyền

Bài giải

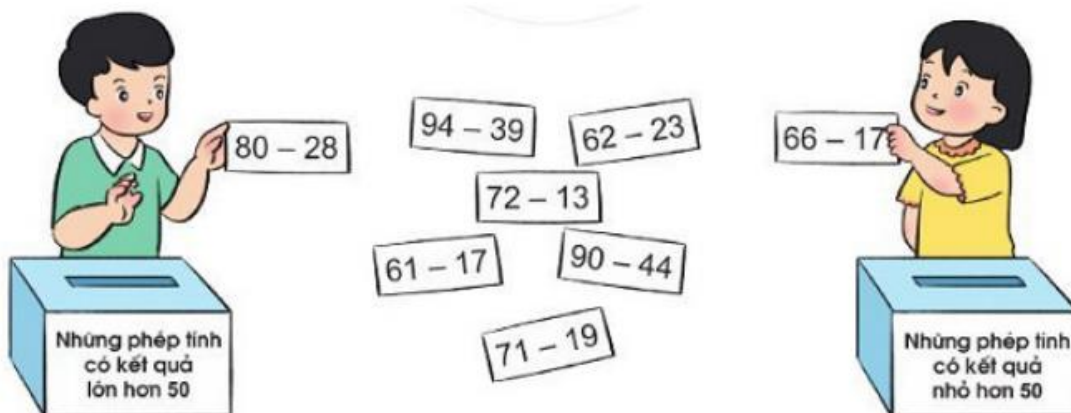
Ở bến còn lại số chiếc thuyền là:

$$64 - 39 = 25 \text{ (chiếc)}$$

Đáp số: 25 chiếc thuyền.

Bài 6

Chọn thẻ ghi phép tính thích hợp cho mỗi hộp:



Phương pháp giải:

Thực hiện tính nhằm kết quả của các phép tính, sau đó so sánh kết quả tìm được với 50 rồi xếp những phép tính có kết quả lớn hơn 50 vào một thùng, xếp những phép tính có kết quả nhỏ hơn 50 vào một thùng.

Lời giải chi tiết:

Ta có:

$$80 - 28 = 52 ; \quad 52 > 50.$$

$$94 - 39 = 55 ; \quad 55 > 50.$$

$$62 - 23 = 39 ; \quad 39 < 50.$$

$$66 - 17 = 49 ; \quad 49 < 50.$$

$$61 - 17 = 44 ; \quad 44 < 50.$$

$$72 - 13 = 59 ; \quad 59 > 50.$$

$$90 - 44 = 46 ; \quad 46 < 50.$$

$$71 - 19 = 52 ; \quad 52 > 50.$$

Vậy:

- Những phép tính có kết quả lớn hơn 50 là $80 - 28$; $94 - 39$; $72 - 13$; $71 - 19$.
- Những phép tính có kết quả nhỏ hơn 50 là $62 - 23$; $66 - 17$; $61 - 17$; $90 - 44$.