

Nội dung bài viết

1. [Giải bài tập Toán 2 bài: Đường thẳng - Đường cong - Chân trời sáng tạo](#)

Mời các em học sinh và quý thầy cô tham khảo hướng dẫn **Giải bài tập Toán lớp 2: Đường thẳng - Đường cong trang 50, 51 - Chân trời sáng tạo** được đội ngũ chuyên gia biên soạn đầy đủ và ngắn gọn dưới đây.


Giải bài tập Toán 2 bài: Đường thẳng - Đường cong - Chân trời sáng tạo

TH

Bài 1 (trang 50 SGK Toán 2 tập 1)

Bạn kiến nào bò theo đường thẳng?

Bạn kiến nào bò theo đường cong.



Phương pháp giải:

- Xem lại về hình dạng của đường thẳng, đường cong.
- Quan sát hình vẽ để xác định mỗi bạn kiến đi theo đường thẳng hay đường cong.

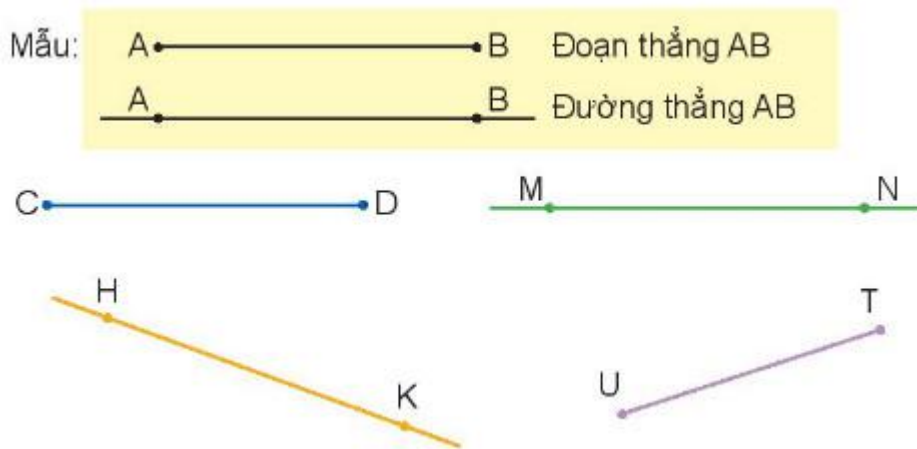
Lời giải chi tiết:

- Bạn kiến đỏ bò theo đường cong.

- Bạn kiến xanh lá cây bò theo đường thẳng.
- Bạn kiến xanh da trời bò theo đường cong.

Bài 2

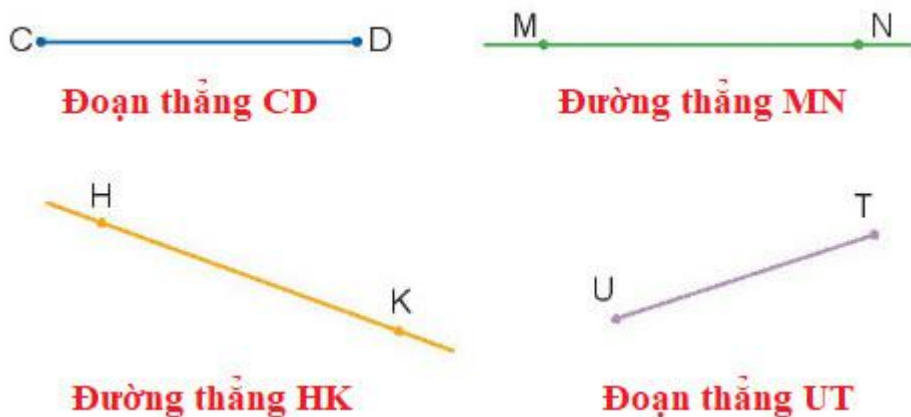
Đọc tên các đoạn thẳng, đường thẳng.



Phương pháp giải:

- Quan sát hình vẽ để nhận biết đoạn thẳng, đường thẳng:
- + Đoạn thẳng là đoạn nối liền hai điểm lại với nhau.
- + Kéo dài đoạn thẳng về hai phía ta được đường thẳng.
- Đọc tên các đoạn thẳng, đường thẳng theo mẫu đã cho.

Lời giải chi tiết:



▶▶ **CLICK NGAY** vào nút **TẢI VỀ** dưới đây để tải về **Giải bài tập Toán lớp 2: Đường thẳng - Đường cong trang 50, 51 - Chân trời sáng tạo** file PDF hoàn toàn miễn phí.