

Nội dung bài viết

1. [Giải bài tập Toán 2 bài: Ba điểm thẳng hàng - Chân trời sáng tạo](#)

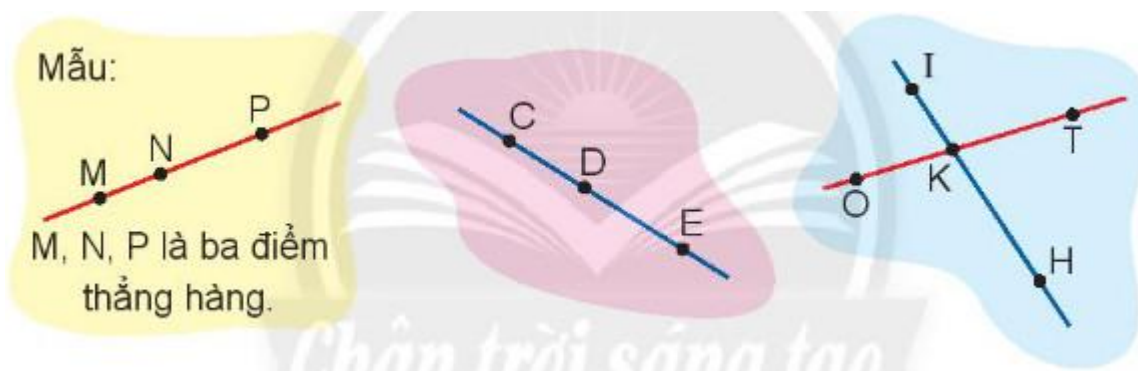
Mời các em học sinh và quý thầy cô tham khảo hướng dẫn **Giải bài tập Toán lớp 2: Ba điểm thẳng hàng trang 54, 55 - Chân trời sáng tạo** được đội ngũ chuyên gia biên soạn đầy đủ và ngắn gọn dưới đây.

Giải bài tập Toán 2 bài: Ba điểm thẳng hàng - Chân trời sáng tạo

TH

Bài 1 (trang 5 S4GK Toán 2 tập 1)

Đọc ba điểm thẳng hàng (theo mẫu).



Phương pháp giải:

Liệt kê các điểm cùng nằm trên một đường thẳng, đó là ba điểm thẳng hàng.

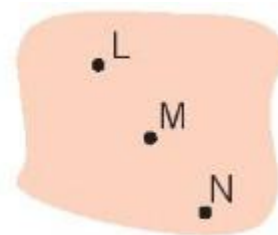
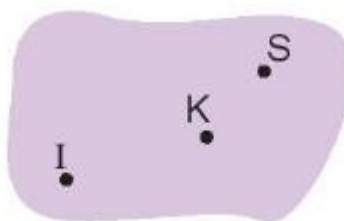
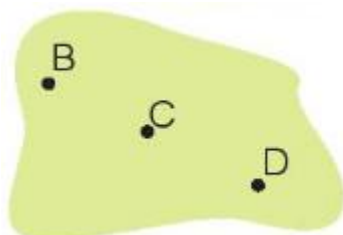
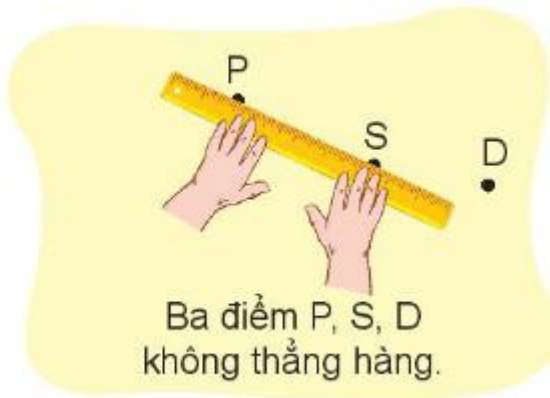
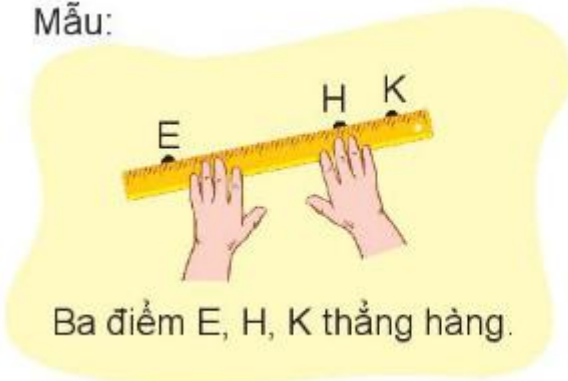
Lời giải chi tiết:

- C, D, E là ba điểm thẳng hàng.
- I, K, H là ba điểm thẳng hàng.
- O, K, T là ba điểm thẳng hàng.

Bài 2

Kiểm tra ba điểm thẳng hàng và nói theo mẫu.

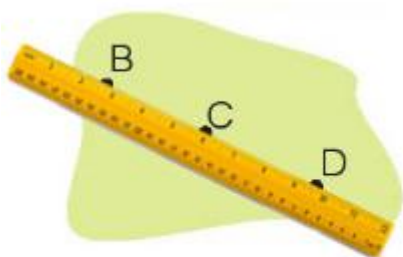
Mẫu:



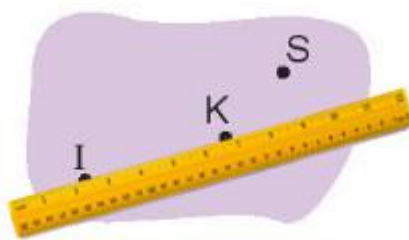
Phương pháp giải:

Dùng thước thẳng để kiểm tra, nếu 3 điểm cùng nằm trên 1 cạnh của thước thì ba điểm đó thẳng hàng.

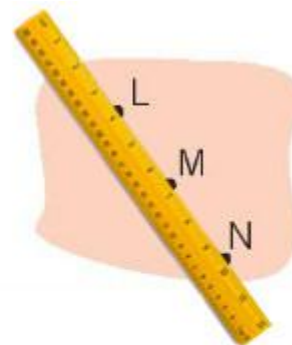
Lời giải chi tiết:



Ba điểm B, C, D thẳng hàng



Ba điểm I, K, S không thẳng hàng

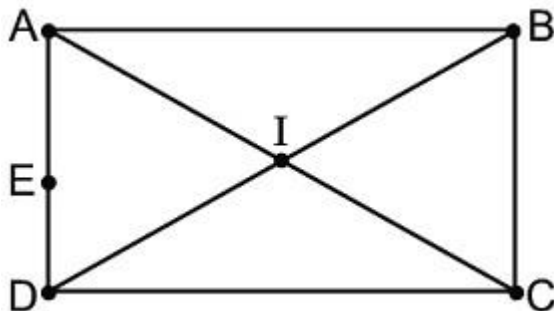


Ba điểm L, M, N thẳng hàng

LT

Bài 1 (trang 55 SGK Toán 2 tập 1)

Đúng hay sai?



- a) Ba điểm A, E, D thẳng hàng.
- b) Ba điểm A, B, C thẳng hàng.
- c) Ba điểm A, I, C thẳng hàng.
- d) Ba điểm D, I, B thẳng hàng.

Phương pháp giải:

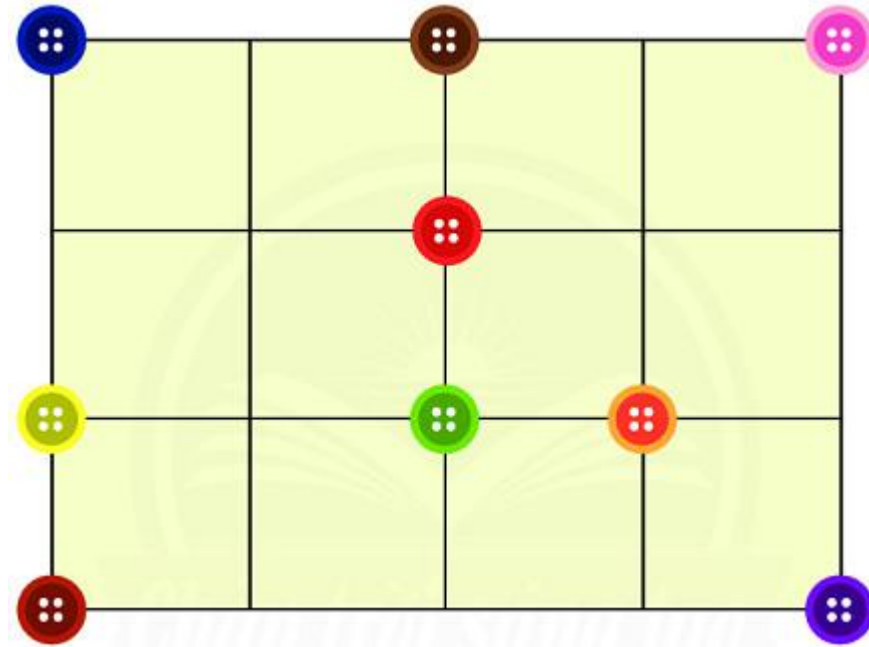
- Nếu ba điểm cùng nằm trên một đường thẳng thì chúng thẳng hàng.
- Quan sát hình vẽ để xác định ba điểm thẳng hàng với nhau.

Lời giải chi tiết:

- a) Ba điểm A, E, D thẳng hàng Đ
- b) Ba điểm A, B, C thẳng hàng S
- c) Ba điểm A, I, C thẳng hàng Đ
- d) Ba điểm D, I, B thẳng hàng Đ

Bài 2

Ba cúc áo (nút áo) nào cùng nằm trên một đường thẳng?



Phương pháp giải:

Quan sát hình vẽ đã cho để tìm ba chiếc cúc áo (nút áo) cùng nằm trên một đường thẳng.

Lời giải chi tiết:

Ba chiếc cúc áo (nút áo) cùng nằm trên một đường thẳng là:

- Chiếc cúc áo (nút áo) màu xanh than, màu nâu và màu hồng.
- Chiếc cúc áo (nút áo) màu xanh than, màu vàng và màu đỏ mận.
- Chiếc cúc áo (nút áo) màu nâu, màu đỏ tươi và màu xanh lá cây.
- Chiếc cúc áo (nút áo) màu vàng, xanh lá cây và màu cam.

ĐNE

Tìm các vật cùng nằm trên một đường thẳng.



Vườn thanh long (tỉnh Bình Thuận) ban ngày và ban đêm.

Phương pháp giải:

Có thể dùng thước thẳng để kiểm tra, nếu 3 điểm cùng nằm trên 1 cạnh của thước thì ba điểm đó thẳng hàng.

Lời giải chi tiết:

Một số hàng cây cùng nằm trên một đường thẳng được tô màu hồng như hình vẽ:



Vườn thanh long (tỉnh Bình Thuận) ban ngày và ban đêm.

►► **CLICK NGAY** vào nút **TẢI VỀ** dưới đây để tải về **Giải bài tập Toán lớp 2: Ba điểm thẳng hàng trang 54, 55 - Chân trời sáng tạo** file PDF hoàn toàn miễn phí.