

*Giải Bài 60 trang 69 VBT Toán lớp 2 Tập 1*

Câu 1. Tính:

$$\begin{array}{r} 54 \\ - 9 \\ \hline \dots \end{array} \quad \begin{array}{r} 74 \\ - 6 \\ \hline \dots \end{array} \quad \begin{array}{r} 44 \\ - 7 \\ \hline \dots \end{array} \quad \begin{array}{r} 64 \\ - 5 \\ \hline \dots \end{array} \quad \begin{array}{r} 84 \\ - 8 \\ \hline \dots \end{array}$$

Lời giải:

$$\begin{array}{r} 54 \\ - 9 \\ \hline 45 \end{array} \quad \begin{array}{r} 74 \\ - 6 \\ \hline 68 \end{array} \quad \begin{array}{r} 44 \\ - 7 \\ \hline 37 \end{array} \quad \begin{array}{r} 64 \\ - 5 \\ \hline 59 \end{array} \quad \begin{array}{r} 84 \\ - 8 \\ \hline 76 \end{array}$$

Câu 2. Đặt tính rồi tính:

34 - 9      84 - 5      94 - 8      74 - 7

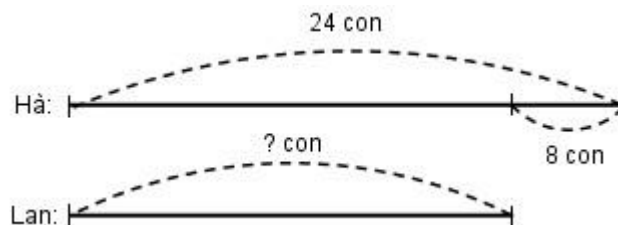
Lời giải:

$$\begin{array}{r} 34 \\ - 9 \\ \hline 25 \end{array} \quad \begin{array}{r} 84 \\ - 5 \\ \hline 79 \end{array} \quad \begin{array}{r} 94 \\ - 8 \\ \hline 86 \end{array} \quad \begin{array}{r} 74 \\ - 7 \\ \hline 67 \end{array}$$

Câu 3. Hà bắt được 25 con sâu, Lan bắt được ít hơn Hà 8 con sâu. Hỏi Lan bắt được bao nhiêu con sâu?

Lời giải:

Tóm tắt:



Bài giải

Số con sấu Lan bắt được là:

$$24 - 8 = 16 \text{ (con)}$$

Đáp số: 16 con.

Câu 4. Tìm x:

a)  $x + 6 = 24$

b)  $x - 12 = 44$

Lời giải:

a)

$$x + 6 = 24$$

$$x = 24 - 6$$

$$x = 18$$

b)

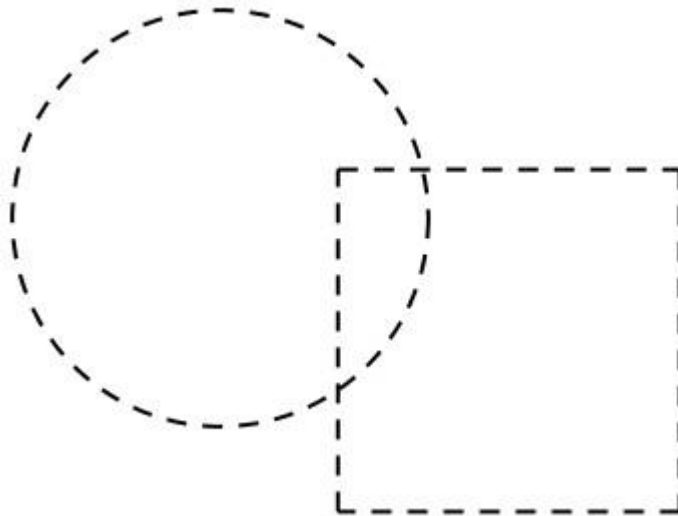
$$x - 12 = 44$$

$$x = 44 + 12$$

$$x = 56$$

Câu 5.

a) Tô màu đỏ vào hình vuông. Tô màu xanh vào phần còn lại của hình tròn.



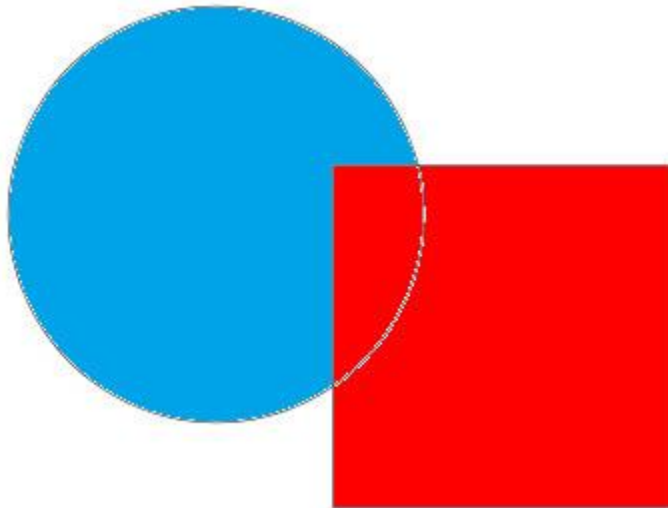
b) Viết tiếp vào chỗ chấm:

+ Hình..... đặt trên hình.....

+ Hình..... đặt dưới hình.....

**Lời giải:**

a) Tô màu đỏ vào hình vuông. Tô màu xanh vào phần còn lại của hình tròn.



b) Viết tiếp vào chỗ chấm :

+Hình ***đặt*** trên đặt trên hình ***tròn***

+Hình ***tròn*** đặt dưới hình ***vuông***