

Nội dung bài viết

1. [Giải bài tập Toán 2 bài: Số hạng - Tổng - Chân trời sáng tạo](#)


Mời các em học sinh và quý thầy cô tham khảo hướng dẫn **Giải bài tập Toán lớp 2: Số hạng - Tổng trang 13, 14, 15, 16 - Chân trời sáng tạo** được đội ngũ chuyên gia biên soạn đầy đủ và ngắn gọn dưới đây.

Giải bài tập Toán 2 bài: Số hạng - Tổng - Chân trời sáng tạo

TH

Bài 1 (trang 13 SGK Toán 2 tập 1)

Gọi tên các thành phần của phép tính.



Phương pháp giải:

Quan sát ví dụ mẫu và làm tương tự.

Lời giải chi tiết:

Trong phép tính $14 + 75 = 89$ ta có 14 và 75 là các số hạng, 89 là tổng.

$$\begin{array}{r} + 5 \\ + 32 \\ \hline 37 \end{array}$$

Trong phép tính ta có 5 và 32 là các số hạng, 37 là tổng.

Bài 2

Tính tổng của các số.



- a) 4 và 5 b) 30 và 10 c) 52, 41 và 6

Phương pháp giải:

Cách 1: Tính theo hàng ngang.

Cách 2: Đặt tính rồi tính.

- Đặt tính : Viết các chữ số cùng hàng thẳng cột với nhau.

- Tính : Cộng các chữ số lần lượt từ phải sang trái.

Lời giải chi tiết:

Cách 1:

- a) $4 + 5 = 9$ b) $30 + 10 = 40$ c) $52 + 41 + 6 = 99$

Cách 2: Đặt tính rồi tính

$ \begin{array}{r} a) \quad 4 \\ + 5 \\ \hline 9 \end{array} $	$ \begin{array}{r} b) \quad 30 \\ + 10 \\ \hline 40 \end{array} $	$ \begin{array}{r} c) \quad 52 \\ + 41 \\ \hline 6 \\ \hline 99 \end{array} $
---	--	--

LT

Bài 1 (trang 14 SGK Toán 2 tập 1)

Đặt tính rồi tính tổng.

a) Các số hạng là 43 và 25.

b) Các số hạng là 55 và 13.

c) Các số hạng là 7 và 61.

Phương pháp giải:

- Đặt tính : Viết các chữ số cùng hàng thẳng cột với nhau.

- Tính : Cộng các chữ số lần lượt từ phải sang trái.

Lời giải chi tiết:


$$\begin{array}{r} a) \quad + 43 \\ \quad 25 \\ \hline \quad 68 \end{array}$$

$$\begin{array}{r} b) \quad + 55 \\ \quad 13 \\ \hline \quad 68 \end{array}$$

$$\begin{array}{r} c) \quad + 7 \\ \quad 61 \\ \hline \quad 68 \end{array}$$

Bài 2

Số?



Phương pháp giải:

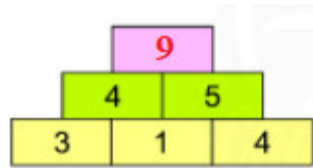
Quan sát các số đã cho ta thấy tổng của 2 ô cạnh nhau ở hàng dưới bằng ô ở hàng trên, từ đó ta tìm được các số còn thiếu.

Lời giải chi tiết:

Quan sát các số đã cho ta thấy tổng của 2 ô cạnh nhau ở hàng dưới bằng ô ở hàng trên.

a) Ta có: $3 + 1 = 4$; $1 + 4 = 5$ và $4 + 5 = 9$.

Do đó, số cần điền vào dấu ? là 9.



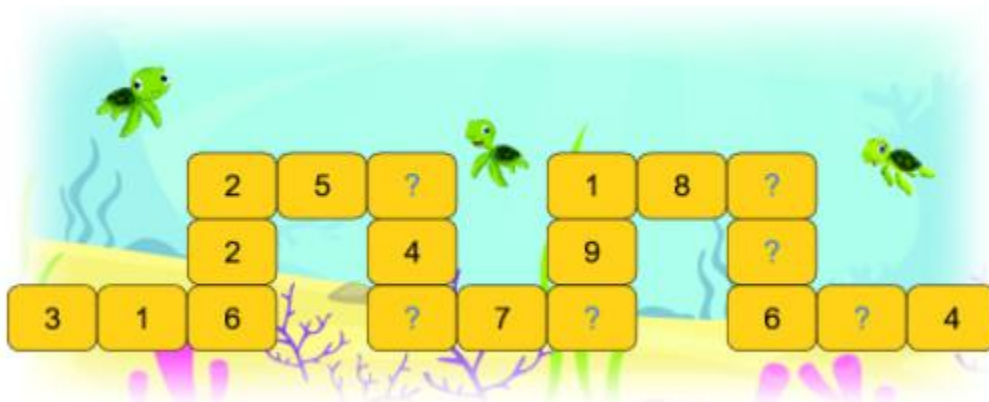
b)



Bài 3

Số?

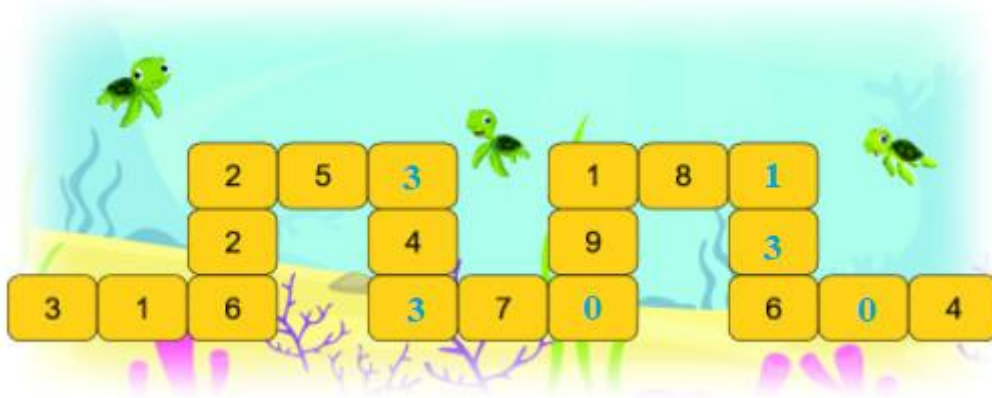
Biết ba số **theo hàng** hay **theo cột** đều có tổng là 10.



Phương pháp giải:

Sử dụng điều kiện: ba số **theo hàng** hay **theo cột** đều có tổng là 10.

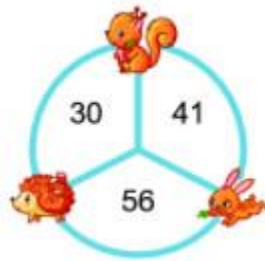
Lời giải chi tiết:



Bài 4

Mỗi con vật che số nào?

Mẫu:



Phương pháp giải:

Quan sát ví dụ mẫu ta thấy số mà mỗi con vật che bằng tổng của hai số liên tiếp trong vòng tròn.

Lời giải chi tiết:

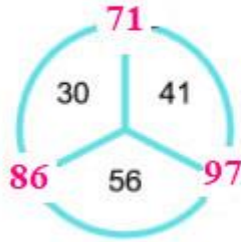
Ta có:

$$30 + 41 = 72; 41 + 56 = 97; 56 + 30 = 86;$$

$$25 + 12 = 37; 12 + 30 = 42; 30 + 25 = 55.$$

Vậy ta có kết quả như sau:

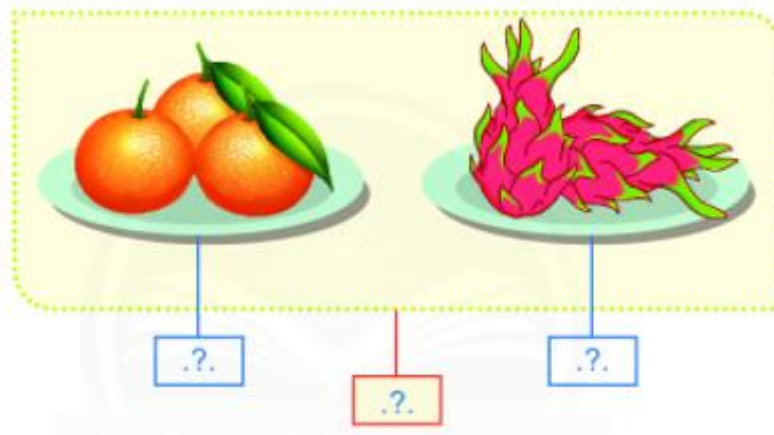
Mẫu:



Bài 5

Quan sát tranh

a) Số?



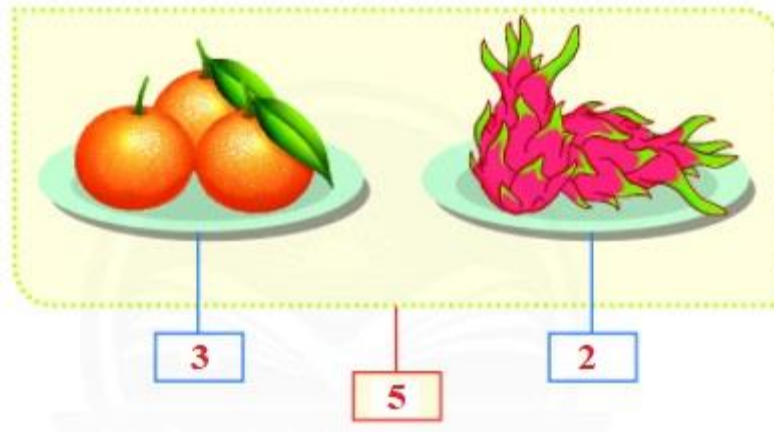
b) Viết hai phép tính cộng theo tranh.

Phương pháp giải:

- Quan sát tranh vẽ rồi đếm số lượng mỗi quả có trên đĩa.
- Áp dụng công thức: Số hạng + Số hạng = Tổng.

Lời giải chi tiết:

a)




b) $3 + 2 = 5$;

$2 + 3 = 5$.

Vui học

Nhận xét vị trí các số hạng



Phương pháp giải:

Quan sát tranh vẽ để nhận biết vị trí của các số hạng trong tổng đã cho.

Lời giải chi tiết:

Quan sát ta thấy hai số hạng đổi chỗ cho nhau.

Bài 6

Số? (Theo mẫu)

Số hạng	17	22	20	80	28	0
Số hạng	22	17	80	20	0	28
Tổng	39	?	?	?	?	?

Phương pháp giải:


- Áp dụng công thức: Số hạng + Số hạng = Tổng.
- Ta có thể “đặt tính rồi tính” ra nháp rồi điền kết quả vào ô trống.

Lời giải chi tiết:

Số hạng	17	22	20	80	28	0
Số hạng	22	17	80	20	0	28
Tổng	39	39	100	100	28	28

Bài 7

Tìm trứng cho gà mẹ.



Phương pháp giải:

Tính tổng của các số đã cho, từ đó tìm được trứng cho gà mẹ.

Lời giải chi tiết:

Tổng của 2 và 6 là: $2 + 6 = 8$.

Tổng của 3 và 6 là: $3 + 6 = 9$.

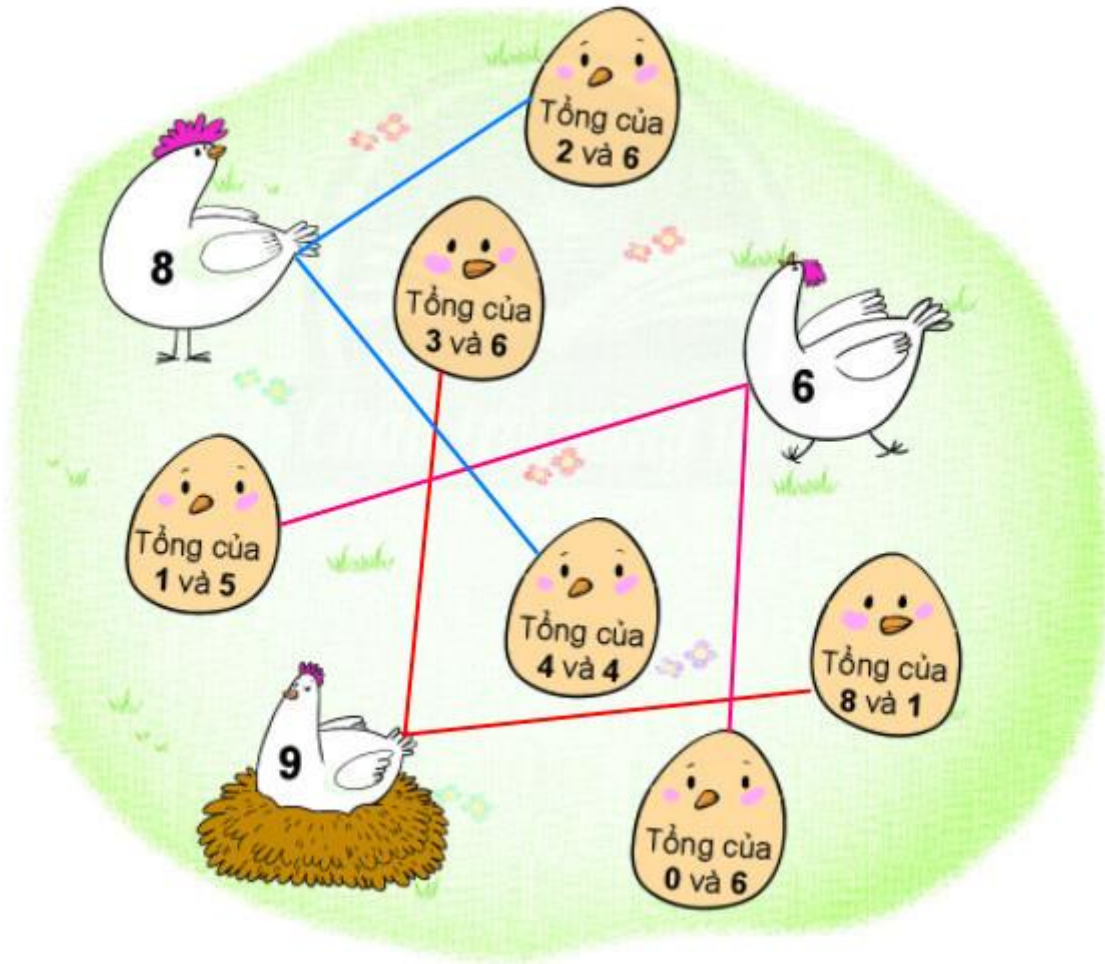
Tổng của 1 và 5 là: $1 + 5 = 6$.

Tổng của 4 và 4 là: $4 + 4 = 8$.

Tổng của 0 và 6 là: $0 + 6 = 6$.

Tổng của 8 và 1 là: $8 + 1 = 9$.

Vậy ta có kết quả như sau:



►► **CLICK NGAY** vào nút **TẢI VỀ** dưới đây để tải về **Giải bài tập Toán lớp 2: Số hạng - Tổng trang 13, 14, 15, 16 - Chân trời sáng tạo** file PDF hoàn toàn miễn phí.