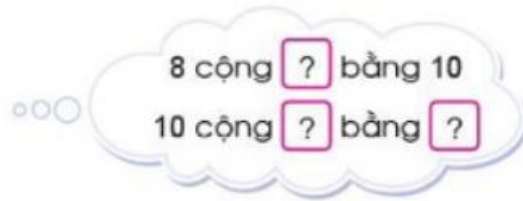
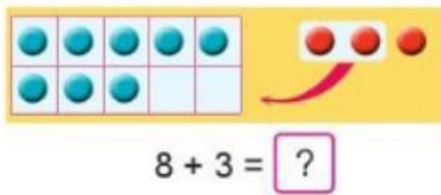
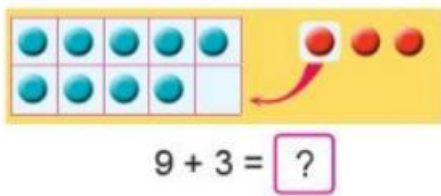


Mời các em học sinh và quý thầy cô tham khảo hướng dẫn giải bài tập Toán lớp 2: Phép cộng (có nhớ) trong phạm vi 20 (tiếp theo) trang 20, 21 - Cánh Diều được đội ngũ chuyên gia biên soạn đầy đủ và ngắn gọn dưới đây.

Giải bài tập Toán 2 bài: Phép cộng (có nhớ) trong phạm vi 20 (tiếp theo) - Cánh diều.

Bài 1

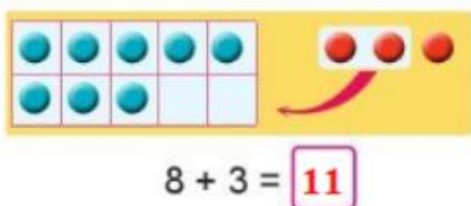
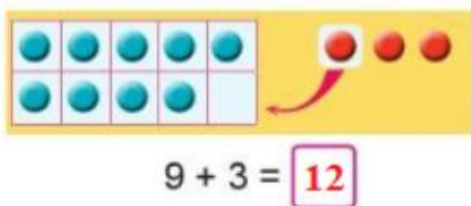
Tính:



Phương pháp giải:

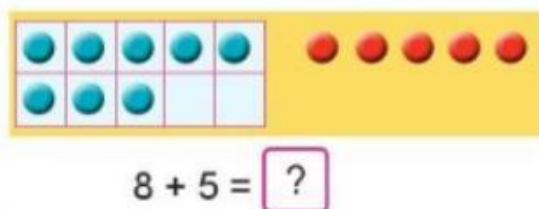
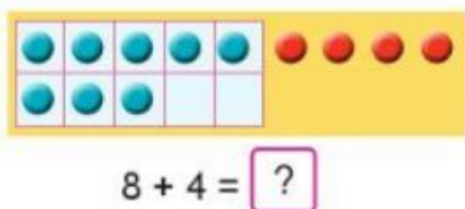
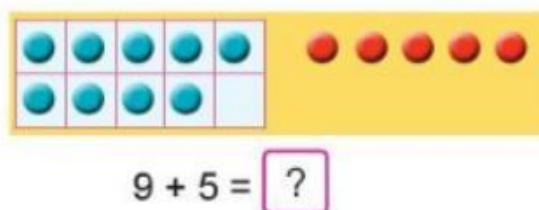
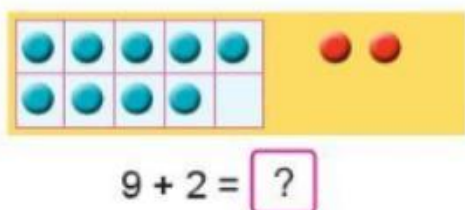
Quan sát tranh vẽ và hướng dẫn cách tính trong bóng nói, từ đó tìm được kết quả các phép tính đã cho.

Lời giải chi tiết:



Bài 2

Tính:

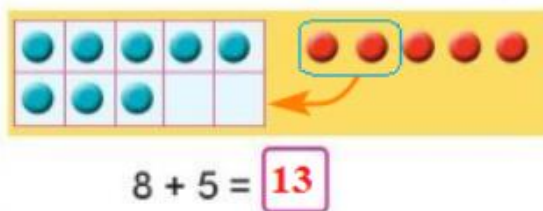
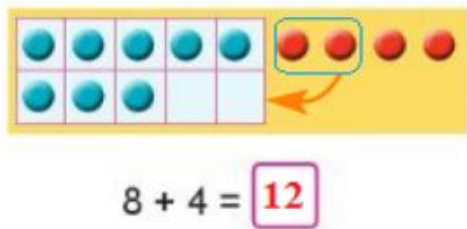
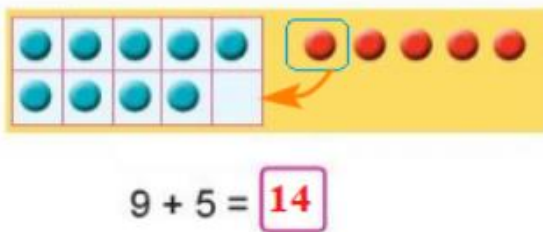
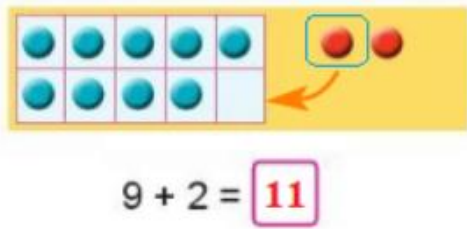


Phương pháp giải:

- Để tính $9 + 2$ ta tách $2 = 1 + 1$, lấy $9 + 1 = 10$, sau đó lấy $10 + 1$ để tìm kết quả.
- Để tính $9 + 5$ ta tách $5 = 1 + 4$, lấy $9 + 1 = 10$, sau đó lấy $10 + 4$ để tìm kết quả.
- Để tính $8 + 4$ ta tách $4 = 2 + 2$, lấy $8 + 2 = 10$, sau đó lấy $10 + 2$ để tìm kết quả.

- Để tính $8 + 5$ ta tách $5 = 2 + 3$, lấy $8 + 2 = 10$, sau đó lấy $10 + 3$ để tìm kết quả.

Lời giải chi tiết:



Bài 3

Tính:

$9 + 7$ $9 + 9$ $8 + 7$

$9 + 8$ $8 + 8$ $8 + 9$

Phương pháp giải:

Thực hiện tính nhằm các phép tính tương tự như cách tính ở bài 1 và bài 2.

Lời giải chi tiết:

$9 + 7 = 16$

$9 + 9 = 18$

$8 + 7 = 15$

$9 + 8 = 17$

$8 + 8 = 16$

$8 + 9 = 17$

Bài 4

Có 9 chậu hoa, các bạn mang đến 3 chậu hoa nữa. Hỏi có tất cả bao nhiêu chậu hoa?



Phép tính: $\boxed{?} + \boxed{?} = \boxed{?}$

Trả lời: Có tất cả $\boxed{?}$ chậu hoa.

Phương pháp giải:

Để tìm số chậu hoa có tất cả ta lấy số chậu hoa có ban đầu cộng với số chậu hoa các bạn mang đến thêm, hay ta thực hiện phép tính $9 + 3$.

Lời giải chi tiết:

Phép tính: $9 + 3 = 12$.

Trả lời: Có tất cả **12** chậu hoa.