

Mời các em học sinh và quý thầy cô tham khảo hướng dẫn giải bài tập Toán lớp 2: Phép cộng (có nhớ) trong phạm vi 20 trang 18, 19 - Cánh Diều được đội ngũ chuyên gia biên soạn đầy đủ và ngắn gọn dưới đây.

***Giải bài tập Toán 2 bài: Phép cộng (có nhớ) trong phạm vi 20 - Cánh diều.***

**Bài 1**

Tính:

8 + 4 =       8 9 10 11 12      Đếm thêm 4  
bắt đầu từ 8

9 + 3 =       9 10 11 12      Đếm thêm 3  
bắt đầu từ 9

**Phương pháp giải:**

Quan sát tranh vẽ và hướng dẫn cách đếm trong bóng nói, từ đó tìm được kết quả các phép tính đã cho.

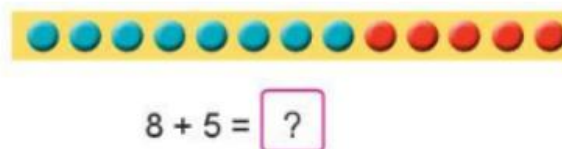
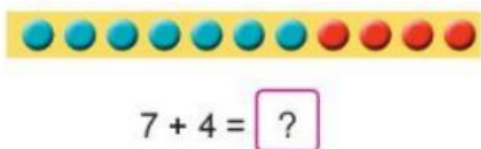
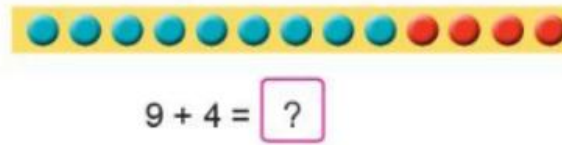
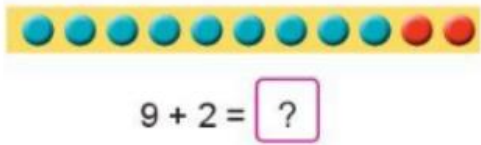
**Lời giải chi tiết:**

8 + 4 =       8 9 10 11 12      Đếm thêm 4  
bắt đầu từ 8

9 + 3 =       9 10 11 12      Đếm thêm 3  
bắt đầu từ 9

**Bài 2**

Tính:



**Phương pháp giải:**

- Để tính  $9 + 2$  ta đếm thêm 2 bắt đầu từ 9.
- Để tính  $9 + 4$  ta đếm thêm 4 bắt đầu từ 9.
- Để tính  $7 + 4$  ta đếm thêm 4 bắt đầu từ 7.
- Để tính  $8 + 5$  ta đếm thêm 5 bắt đầu từ 8.

**Lời giải chi tiết:**

$9 + 2 = 11$   
 Đếm thêm 2 bắt đầu từ 9

$9 + 4 = 13$   
 Đếm thêm 4 bắt đầu từ 9

$7 + 4 = 11$   
 Đếm thêm 4 bắt đầu từ 7

$8 + 5 = 13$   
 Đếm thêm 5 bắt đầu từ 8

**Bài 3**

Tính:

$7 + 5$                    $8 + 6$                    $6 + 5$

$7 + 6$                    $9 + 6$                    $6 + 6$

**Phương pháp giải:**

Học sinh tự tính kết quả các phép tính bằng cách “đếm thêm” một số đơn vị thích hợp tương tự như cách làm ở bài 1, bài 2.

**Lời giải chi tiết:**

$7 + 5 = 12$

$8 + 6 = 14$

$6 + 5 = 11$

$7 + 6 = 13$

$9 + 6 = 15$

$6 + 6 = 12$

**Bài 4**

Một đoàn tàu có 9 toa. Trong dịp nghỉ lễ, người ta nối thêm 5 toa nữa. Hỏi sau khi nối, đoàn tàu đó có tất cả bao nhiêu toa?



$$\boxed{?} + \boxed{?} + \boxed{?} = \boxed{?}$$

**Phép tính:**

$$\boxed{?}$$

**Trả lời:** Sau khi nối, đoàn tàu đó có tất cả  $\boxed{?}$  toa.

**Phương pháp giải:**

Để tìm số toa đoàn tàu có sau khi nối ta lấy số toa có ban đầu cộng với số toa được nối thêm, hay ta thực hiện phép tính  $9 + 5$ .

**Lời giải chi tiết:**

**Phép tính:** Phép tính:  $9 + 5 = 14$ .

**Trả lời:** Sau khi nối, đoàn tàu đó có tất cả **14** toa.