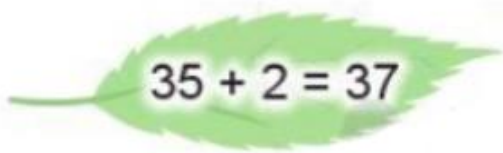


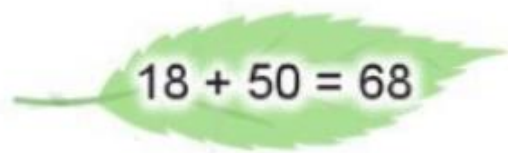
Mời các em học sinh và quý thầy cô tham khảo hướng dẫn giải bài tập Toán lớp 2: Số hạng - Tổng trang 14 - Cánh Diều được đội ngũ chuyên gia biên soạn đầy đủ và ngắn gọn dưới đây.

Giải bài tập Toán 2 bài: Số hạng - Tổng - Cánh diều.

Bài 1

Nêu số hạng, tổng trong mỗi phép tính sau:


$$35 + 2 = 37$$


$$18 + 50 = 68$$

Phương pháp giải:

Quan sát vị trí các số trong phép tính, từ đó xác định được số hạng, tổng trong mỗi phép tính.

*) Trong phép tính $35 + 2 = 37$:

- 35 và 2 được gọi là số hạng.
- 37 hoặc $35 + 2$ được gọi là tổng.

Làm tương tự với câu còn lại.

Lời giải chi tiết:

*) Trong phép tính $35 + 2 = 37$:

- 35 và 2 được gọi là số hạng.
- 37 hoặc $35 + 2$ được gọi là tổng.



*) Trong phép tính $18 + 50 = 68$:

- 18 và 50 được gọi là số hạng.

- 68 hoặc $18 + 50$ được gọi là tổng.

Bài 2

Tính tổng, biết các số hạng lần lượt là:

**Phương pháp giải:**

- Áp dụng công thức: Số hạng + Số hạng = Tổng.

- Ta có thể “đặt tính rồi tính” như sau:

+ Đặt tính : Viết các chữ số cùng hàng thẳng cột với nhau.

+ Tính : Cộng các chữ số lần lượt từ phải sang trái.

Lời giải chi tiết:

+10515+10515

+203050+203050

Bài 3

Thực hành “Lập tổng”.



Phương pháp giải:

Lấy hai thẻ số bất kì trong 4 thẻ số đã cho rồi lập tổng từ hai thẻ số đã cho

Lời giải chi tiết:

Lấy hai thẻ số bất kì từ các thẻ số đã cho ta lập được các tổng như sau:

$4 + 20$ $4 + 2$ $4 + 30$

$20 + 2$ $20 + 30$ $2 + 30$