

Giải Bài 24 trang 27, 28 VBT Toán lớp 2 Tập 1

Câu 1. Hộp của An có 8 bút chì màu, hộp của Bình có nhiều hơn hộp của An 4 bút chì màu.
Hỏi hộp của Bình có bao nhiêu bút chì màu?

**Lời giải:****Tóm tắt**

An : 8 bút chì

Bình nhiều hơn An : 4 bút chì

Bình : ... bút chì?

Bài giải

Hộp của Bình có số bút chì màu là:

$$8 + 4 = 12 \text{ (bút chì)}$$

Đáp số: 12 bút chì

Câu 2. Giải bài toán theo tóm tắt sau:

Đội 1 : 18 người

Đội 2 nhiều hơn đội 1 : 2 người

Đội 2 : ... người?

Lời giải:**Tóm tắt**

Đội 1 : 18 người

Đội 2 nhiều hơn đội 1 : 2 người

Đội 2 : ... người?

Bài giải

Đội 2 có số người là:

$$18 + 2 = 20 \text{ (người)}$$

Đáp số: 20 người

Câu 3. Đoạn thẳng AB dài 8cm, đoạn thẳng CD dài hơn đoạn thẳng AB 3 cm.

a) Hỏi đoạn thẳng CD dài bao nhiêu xăng – tin – mét ?

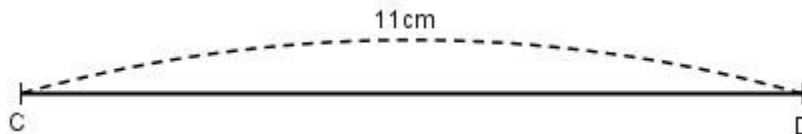
b) Vẽ đoạn thẳng CD

Lời giải:

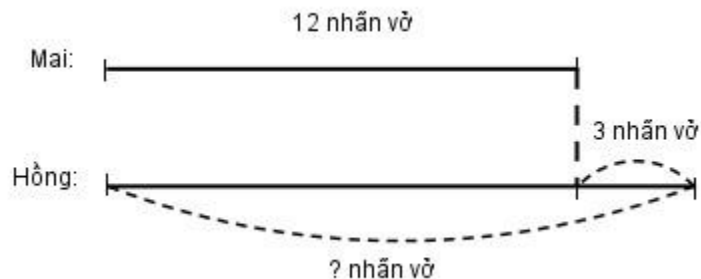
Đoạn thẳng AB dài 8cm, đoạn thẳng CD dài hơn đoạn thẳng AB 3 cm.

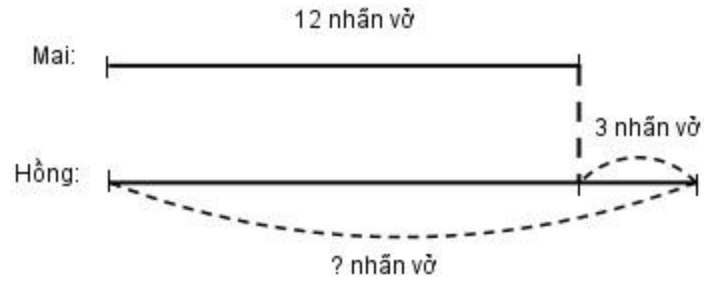
a) Đoạn thẳng CD dài là: $8 + 3 = 11$ (cm)

b) Vẽ đoạn thẳng CD



Câu 4. Giải bài toán theo tóm tắt sau:

**Lời giải:****Tóm tắt:**

**Bài giải**

Hồng có số nhấ n vờ là:

$$12 + 3 = 15 \text{ (nhấ n vờ)}$$

Đáp số: 15 nhấ n vờ