

Giải Bài 14 trang 17 VBT Toán lớp 2 Tập 1

Câu 1. a) Tính nhẩm:

$9 + 2 = \dots$ $9 + 4 = \dots$ $9 + 5 = \dots$

$2 + 9 = \dots$ $4 + 9 = \dots$ $5 + 9 = \dots$

$9 + 6 = \dots$ $9 + 8 = \dots$

$6 + 9 = \dots$ $8 + 9 = \dots$

b) Viết tiếp vào chỗ chấm:

Trong phép cộng, khi đổi chỗ các số hạng thì tổng.....

Lời giải:

a)

$9 + 2 = 11$ $9 + 4 = 13$ $9 + 5 = 14$

$9 + 6 = 15$ $9 + 8 = 17$ $2 + 9 = 11$

$4 + 9 = 13$ $5 + 9 = 14$ $6 + 9 = 15$

$8 + 9 = 17$

b)

Trong phép cộng, khi đổi chỗ các số hạng thì tổng **không thay đổi**

Câu 2. Tính

$$\begin{array}{r} 9 \\ + 6 \\ \hline \dots \end{array}$$

$$\begin{array}{r} 9 \\ + 9 \\ \hline \dots \end{array}$$

$$\begin{array}{r} 9 \\ + 4 \\ \hline \dots \end{array}$$

$$\begin{array}{r} 9 \\ + 3 \\ \hline \dots \end{array}$$

$$\begin{array}{r} 9 \\ + 7 \\ \hline \dots \end{array}$$

Lời giải:

$$\begin{array}{r} 9 \\ + 6 \\ \hline 15 \end{array}$$

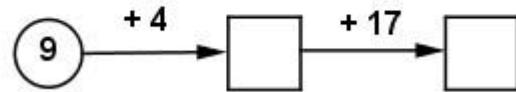
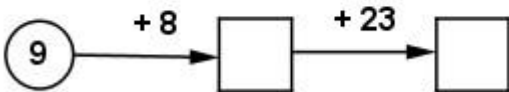
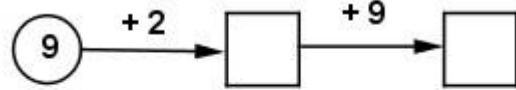
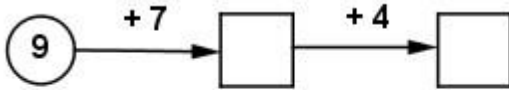
$$\begin{array}{r} 9 \\ + 9 \\ \hline 18 \end{array}$$

$$\begin{array}{r} 9 \\ + 4 \\ \hline 13 \end{array}$$

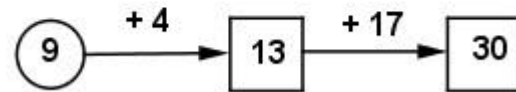
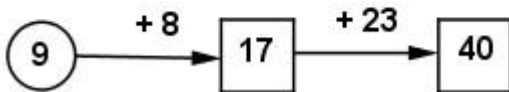
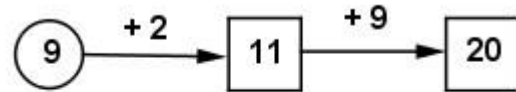
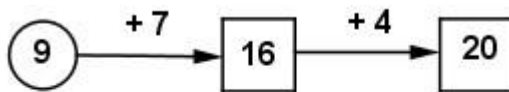
$$\begin{array}{r} 9 \\ + 3 \\ \hline 12 \end{array}$$

$$\begin{array}{r} 9 \\ + 7 \\ \hline 16 \end{array}$$

Câu 3. Số?



Lời giải:



Câu 4. Trong vườn có 9 cây cam, mẹ trồng thêm 8 cây cam nữa. Hỏi trong vườn đó có tất cả bao nhiêu cây cam?

Tóm tắt:

Có: 9 cây cam

Trồng thêm: 8 cây cam

Tất cả: ...? cây cam

Bài giải

Số cây cam có trong vườn là:

$$9 + 8 = 17 \text{ (cây)}$$

Đáp số: 17 cây.