

Giải Bài 10 trang 12 VBT Toán lớp 2 Tập 1**Câu 1. Viết (theo mẫu):**

Mẫu: $28 = 20 + 8$ $96 = \dots\dots$ $47 = \dots\dots$
 $34 = \dots\dots\dots$ $55 = \dots\dots$ $69 = \dots\dots$

Lời giải:

Mẫu: $28 = 20 + 8$ $96 = 90 + 6$ $47 = 40 + 7$
 $34 = 30 + 4$ $55 = 50 + 5$ $69 = 60 + 9$

Câu 2. Đặt tính rồi tính:

$40 + 27$ $64 - 12$ $24 + 24$ $48 - 24$

Lời giải:

$\begin{array}{r} 40 \\ + 27 \\ \hline 67 \end{array}$	$\begin{array}{r} 64 \\ - 12 \\ \hline 52 \end{array}$	$\begin{array}{r} 24 \\ + 24 \\ \hline 48 \end{array}$	$\begin{array}{r} 48 \\ - 24 \\ \hline 24 \end{array}$
--------------------------------------------------------	--------------------------------------------------------	--------------------------------------------------------	--------------------------------------------------------

Câu 3. Mẹ và chị hái được 68 quả quýt, riêng mẹ hái được 32 quả quýt. Hỏi chị hái được bao nhiêu quả quýt?

Lời giải:

Tóm tắt

Mẹ và chị hái: 68 quả quýt

Mẹ hái được: 32 quả quýt

Chị hái được: ... quả quýt?

Bài giải

Số quả quýt chị hái được là:

$$68 - 32 = 36 \text{ (quả)}$$

Đáp số: 36 quả quýt.

Câu 4. Số?

$10\text{cm} = \dots \text{dm}$

$1\text{dm} = \dots \text{cm}$

$20\text{cm} = \dots \text{dm}$

$2\text{dm} = \dots \text{cm}$

Lời giải:

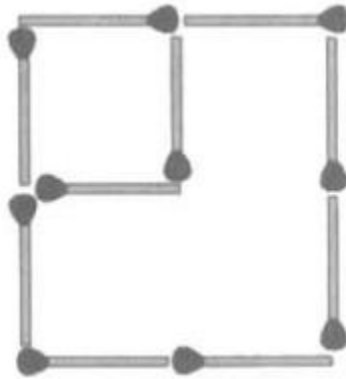
$10\text{cm} = 1\text{dm}$

$1\text{dm} = 10\text{cm}$

$20\text{cm} = 2\text{dm}$

$2\text{dm} = 20\text{cm}$

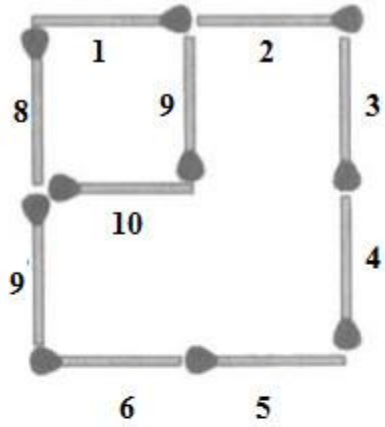
Câu 5. Đố vui: 10 que diêm có thể xếp thành 2 hình vuông (xem hình vẽ). Hãy chuyển chỗ của 2 que diêm để có 3 hình vuông.



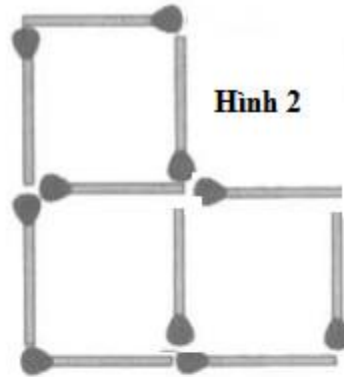
Lời giải:

Ta gọi số thứ tự của các que diêm là 1, 2, 3, 4, 5, 6, 7, 8, 9, 10 như hình 1.

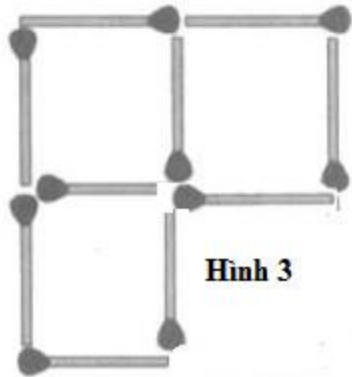
- Ta di chuyển hai que diêm 2 và 3 xuống dưới thì được hình 2.
- Ta di chuyển hai que diêm 4 và 5 thì được hình 3.
- Ta di chuyển hai que diêm 7 và 6 thì được hình 4.



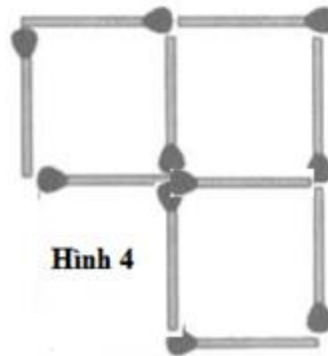
Hình 1



Hình 2



Hình 3



Hình 4