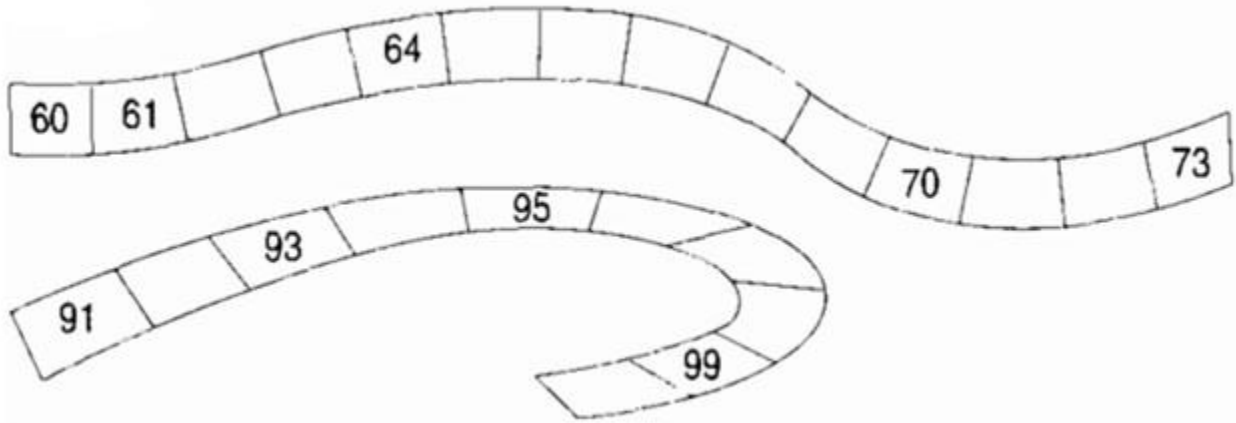
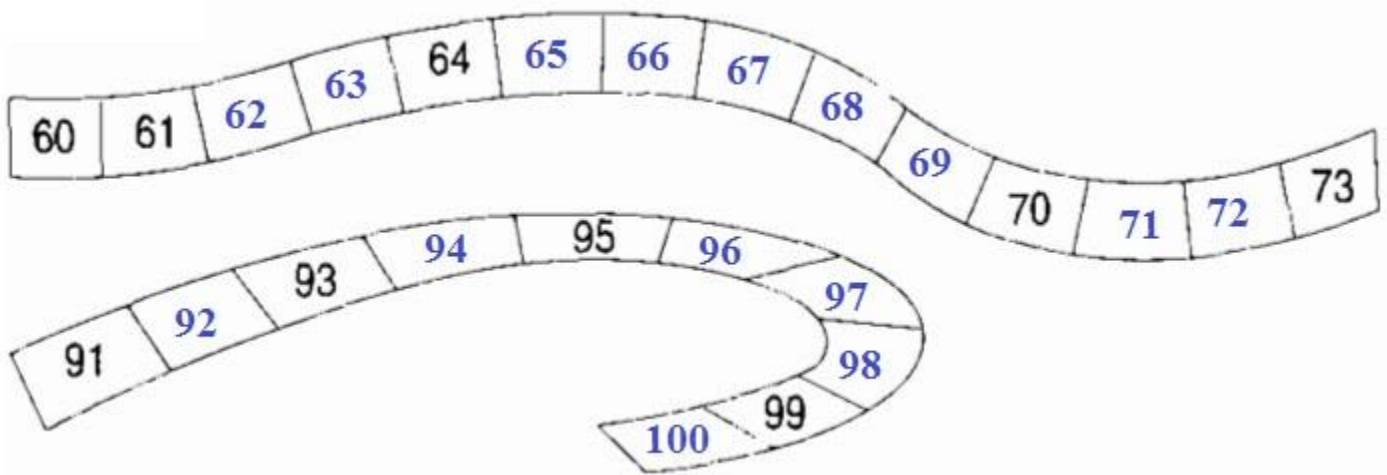


Giải Bài Tự kiểm tra trang 13 VBT Toán lớp 2 Tập 1

Câu 1. Số?



Lời giải:



Câu 2. Số?

a) Số liền sau của 99 là.... b) Số liền trước của 11 là....

Lời giải:

a) Số liền sau của 99 là 100 b) Số liền trước của 11 là 10

Câu 3. Tính:

$$\begin{array}{r} + 31 \\ + 27 \\ \hline \dots \end{array}$$

$$\begin{array}{r} - 68 \\ - 33 \\ \hline \dots \end{array}$$

$$\begin{array}{r} + 40 \\ + 25 \\ \hline \dots \end{array}$$

$$\begin{array}{r} - 79 \\ - 77 \\ \hline \dots \end{array}$$

$$\begin{array}{r} + 6 \\ + 32 \\ \hline \dots \end{array}$$

Lời giải:

$$\begin{array}{r} + 31 \\ + 27 \\ \hline 58 \end{array}$$

$$\begin{array}{r} - 68 \\ - 33 \\ \hline 35 \end{array}$$

$$\begin{array}{r} + 40 \\ + 25 \\ \hline 65 \end{array}$$

$$\begin{array}{r} - 79 \\ - 77 \\ \hline 02 \end{array}$$

$$\begin{array}{r} + 6 \\ + 32 \\ \hline 38 \end{array}$$

Câu 4. Mẹ mua 25 quả cam, mẹ biếu bà 12 quả cam. Hỏi mẹ còn lại bao nhiêu quả cam?

Lời giải:

Tóm tắt

Mẹ mua: 25 quả cam

Mẹ biếu bà: 12 quả cam

Mẹ còn:.... quả cam?

Bài giải


Số quả cam mẹ còn là:

$$25 - 12 = 13 \text{ (quả)}$$

Đáp số: 13 quả cam.

Câu 5. Vẽ đoạn thẳng AB có độ dài 1dm.

Lời giải:



Câu 6. Số? Số lớn nhất có hai chữ số khác nhau là.....

Lời giải:

Số lớn nhất có hai chữ số khác nhau là 98.