

Giải Bài 12 trang 15 VBT Toán lớp 2 Tập 1

Câu 1. Tính.

$$\begin{array}{r} 32 \\ + 8 \\ \hline \dots \end{array} \quad \begin{array}{r} 61 \\ + 9 \\ \hline \dots \end{array} \quad \begin{array}{r} 56 \\ + 4 \\ \hline \dots \end{array} \quad \begin{array}{r} 73 \\ + 7 \\ \hline \dots \end{array} \quad \begin{array}{r} 48 \\ + 22 \\ \hline \dots \end{array} \quad \begin{array}{r} 65 \\ + 15 \\ \hline \dots \end{array} \quad \begin{array}{r} 79 \\ + 11 \\ \hline \dots \end{array} \quad \begin{array}{r} 34 \\ + 46 \\ \hline \dots \end{array}$$

Lời giải:

$$\begin{array}{r} 32 \\ + 8 \\ \hline 40 \end{array} \quad \begin{array}{r} 61 \\ + 9 \\ \hline 70 \end{array} \quad \begin{array}{r} 56 \\ + 4 \\ \hline 60 \end{array} \quad \begin{array}{r} 73 \\ + 7 \\ \hline 80 \end{array} \quad \begin{array}{r} 48 \\ + 22 \\ \hline 70 \end{array} \quad \begin{array}{r} 65 \\ + 15 \\ \hline 80 \end{array} \quad \begin{array}{r} 79 \\ + 11 \\ \hline 90 \end{array} \quad \begin{array}{r} 34 \\ + 46 \\ \hline 80 \end{array}$$

Câu 2. Tổ 1 trồng được 17 cây, tổ 2 trồng được 23 cây. Hỏi hai tổ trồng được tất cả bao nhiêu cây?

Tóm tắt

Tổ 1 trồng: 17 cây

Tổ 2 trồng: 23 cây

Cả 2 tổ trồng: cây?

Bài giải


Số cây hai tổ trồng được tất cả là:

$$17 + 23 = 40 \text{ (cây)}$$


Đáp số: 40 cây.

Câu 3. Dùng bút và thước nối các điểm để có:

a) Một hình vuông

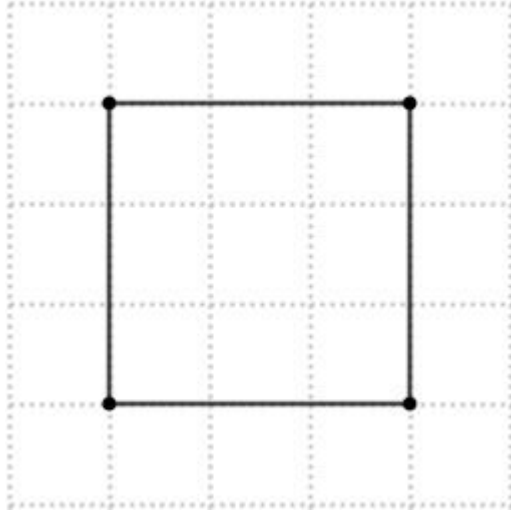


b) Hai hình tam giác

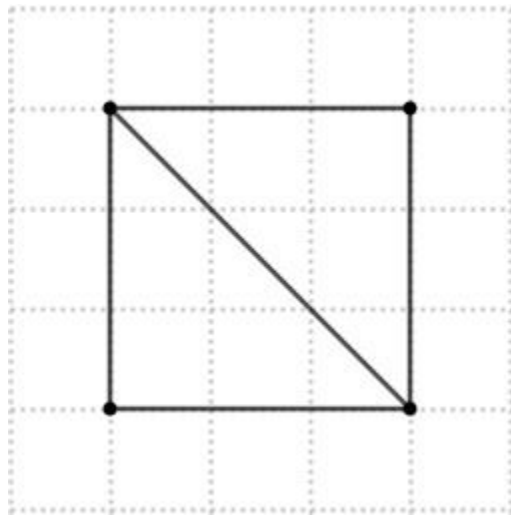


Lời giải:

a) Một hình vuông



b) Hai hình tam giác



Câu 4. Viết bốn phép cộng có tổng là 50:.....

Lời giải:

$$26 + 24 = 50;$$

$$43 + 7 = 50;$$

$$36 + 14 = 50;$$

$$27 + 23 = 50$$