

Giải Bài 162 trang 91, 92 VBT Toán lớp 3 Tập 2

Bài 1 trang 91 Vở bài tập Toán lớp 3 Tập 2:

Điền  $>$   $<$   $=$

7m 5cm ..... 7m

7m 5cm ..... 8m

7m 5cm ..... 750cm

7m 5cm ..... 75cm

7m 5cm ..... 705cm

**Lời giải:**

7m 5cm  $>$  7m

7m 5cm  $<$  8m

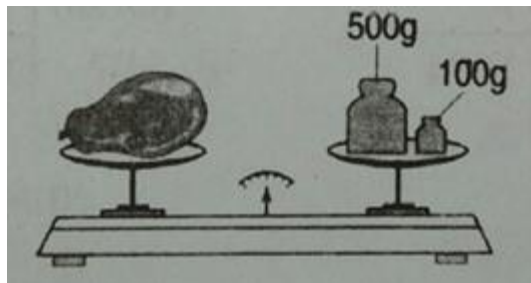
7m 5cm  $<$  750cm

7m 5cm  $>$  75cm

7m 5cm  $=$  705cm

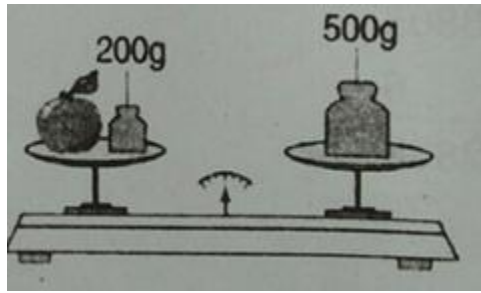
Bài 2 trang 91 Vở bài tập Toán lớp 3 Tập 2:

Nhìn hình vẽ dưới đây rồi viết tiếp vào chỗ chấm:



Quả lê cân nặng .....

Quả lê cân nặng hơn quả táo là:.....



Quả táo cân nặng .....

**Lời giải:**

Quả lê cân nặng 600g

Quả lê cân nặng hơn quả táo là: 300g

Quả táo cân nặng 300g

**Bài 3 trang 91 vở bài tập Toán lớp 3 Tập 2:**

Vẽ thêm kim phút để đồng hồ chỉ thời gian tương ứng:


a) Minh đi từ trường lúc 4 giờ rưỡi chiều.

Minh về nhà lúc 5 giờ kém 10 phút chiều.

b) Nhìn đồng hồ rồi viết số thích hợp vào chỗ chấm:

Minh đi từ trường về nhà hết ..... phút.

**Lời giải:**



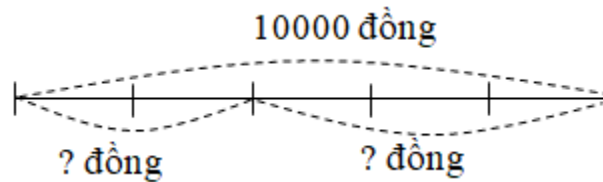
b) Nhìn đồng hồ rồi viết số thích hợp vào chỗ chấm:

Minh đi từ trường về nhà hết 20 phút.

Bài 4 trang 92 vở bài tập Toán lớp 3 Tập 2:

Châu có 10 000 đồng. Châu đã mua 3 quyển vở, giá mỗi quyển vở là 2500 đồng. Hỏi Châu còn lại bao nhiêu tiền?

*Tóm tắt*



**Lời giải:**

Châu mua 3 quyển vở hết số tiền là:

$$2500 \times 3 = 7500 \text{ (đồng)}$$

Châu còn lại số tiền là:

$$10000 - 7500 = 2500 \text{ (đồng)}$$

Đáp số: 2500 đồng