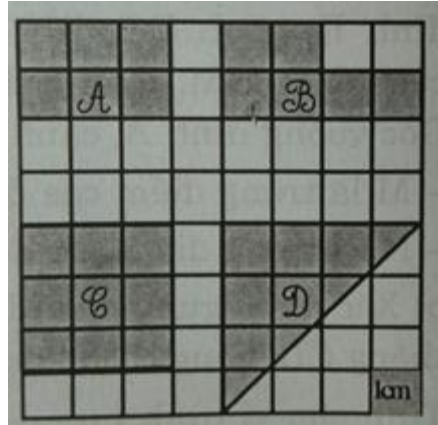


Giải Bài 164 trang 93, 94 VBT Toán lớp 3 Tập 2

Bài 1 trang 93 vở bài tập Toán lớp 3 Tập 2:

Viết tiếp vào chỗ chấm:



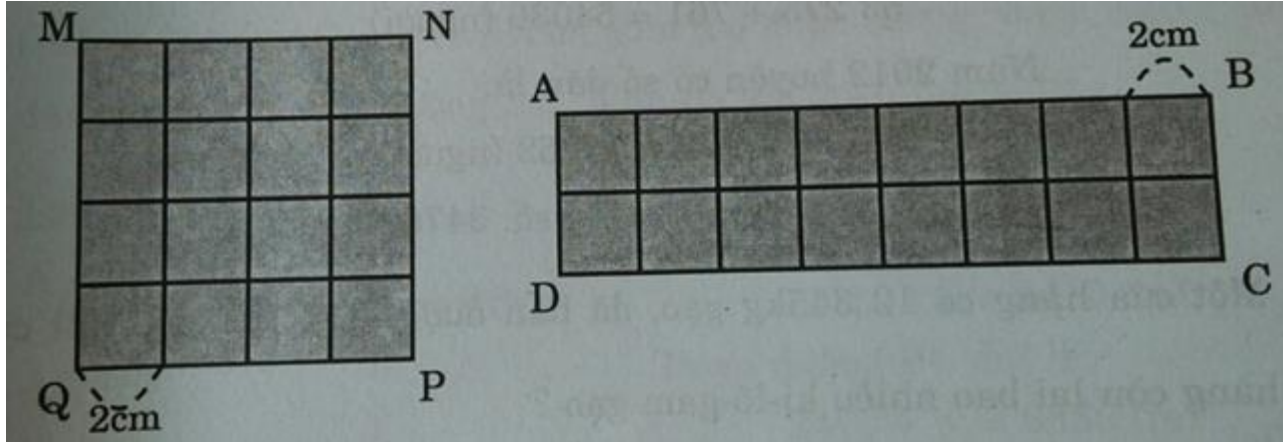
- Diện tích hình A làcm².
- Diện tích hình B là
- Diện tích hình C là
- Diện tích hình D là
- Hai hình có diện tích bằng nhau là:
- Trong các hình đã cho, hình có diện tích lớn nhất là:

Lời giải:

- Diện tích hình A là 6cm².
- Diện tích hình B là 6cm².
- Diện tích hình C là 9 cm².
- Diện tích hình D là 9 cm².
- Hai hình có diện tích bằng nhau là: hình A và hình B.
- Trong các hình đã cho, hình có diện tích lớn nhất là: hình C.

Bài 2 trang 93 vở bài tập Toán lớp 3 Tập 2:

Hình vuông MNPQ và hình chữ nhật ABCD đều được ghép từ 16 miếng bìa hình vuông cạnh 2cm (như hình vẽ).



a) Viết tiếp vào chỗ chấm:

- Độ dài cạnh hình vuông là
- Chiều rộng hình chữ nhật là:
- Chiều dài hình chữ nhật là:

b) Đúng ghi Đ, sai ghi S:

- Diện tích hình vuông bé hơn diện tích hình chữ nhật.
- Diện tích hình vuông bằng diện tích hình chữ nhật.
- Diện tích hình vuông lớn hơn diện tích hình chữ nhật.
- Chu vi hình vuông bé hơn chu vi hình chữ nhật.
- Chu vi hình vuông bằng chu vi hình chữ nhật.
- Chu vi hình vuông lớn hơn chu vi hình chữ nhật.

Lời giải:

a) Viết tiếp vào chỗ chấm:

- Độ dài cạnh hình vuông là 8cm.

- Chiều rộng hình chữ nhật là: 4cm.

- Chiều dài hình chữ nhật là: 16cm.

b) Đúng ghi Đ, sai ghi S:

- Diện tích hình vuông bé hơn diện tích hình chữ nhật. S

- Diện tích hình vuông bằng diện tích hình chữ nhật. Đ

- Diện tích hình vuông lớn hơn diện tích hình chữ nhật. S

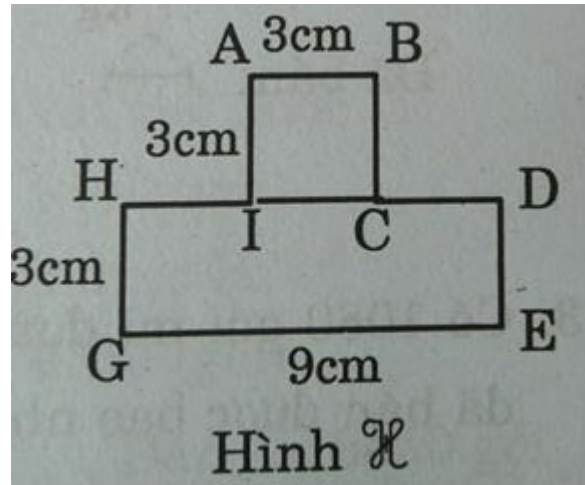
- Chu vi hình vuông bé hơn chu vi hình chữ nhật. Đ

- Chu vi hình vuông bằng chu vi hình chữ nhật. S

- Chu vi hình vuông lớn hơn chu vi hình chữ nhật. S

Bài 3 trang 94 vở bài tập Toán lớp 3 Tập 2:

Tính diện tích hình có kích thước ghi trên hình vẽ



Lời giải:

Gọi hình có các đỉnh theo thứ tự ABCDEGHI.

Diện tích hình H = diện tích ABCI + diện tích HDEG.

Diện tích hình ABCI là: $3 \times 3 = 9 \text{ (cm}^2\text{)}$


Diện tích hình HDEG là: $3 \times 9 = 27 \text{ (cm}^2\text{)}$

Diện tích hình H là: $9 + 27 = 36 \text{ (cm}^2\text{)}$

Đáp số: 36cm^2 .

Bài 4 trang 94 vở bài tập Toán lớp 3 Tập 2:

Cho 8 hình tam giác, mỗi hình như hình sau:



Hãy xếp thành hình dưới đây

Lời giải:

