

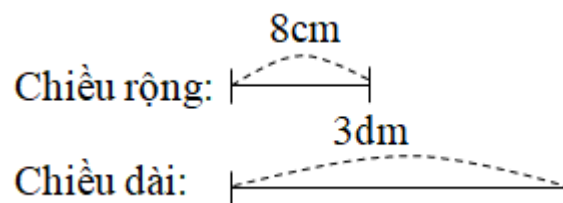
Giải Bài 138 trang 63, 64 VBT Toán lớp 3 Tập 2

Bài 1 trang 63 Vở bài tập Toán lớp 3 Tập 2:

Một hình chữ nhật có chiều dài 3dm, chiều rộng 8cm.

- Tính chu vi hình chữ nhật
- Tính diện tích hình chữ nhật.

Tóm tắt



Lời giải:

$$3\text{dm} = 30\text{cm}$$

a) Chu vi hình chữ nhật là:

$$(30 + 8) \times 2 = 76 \text{ (cm)}$$

b) Diện tích hình chữ nhật là:

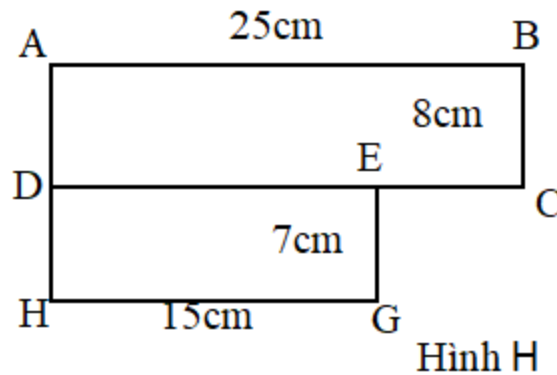
$$30 \times 8 = 240 \text{ (cm}^2\text{)}$$

Đáp số: Chu vi: 76cm

Diện tích: 240cm².

Bài 2 trang 64 Vở bài tập Toán lớp 3 Tập 2:

Cho hình H gồm hai hình chữ nhật ABCD và DEGH (xem hình vẽ). Tính diện tích hình theo kích thước hình vẽ.



Lời giải:

a) Diện tích hình ABCD là:

$$25 \times 8 = 200 \text{ (cm}^2\text{)}$$

Diện tích hình DEGH là:

$$15 \times 7 = 105 \text{ (cm}^2\text{)}$$

b) Diện tích hình H là:

$$S_H = S_{ABCD} + S_{DEGH} = 200 + 105 = 305 \text{ (cm}^2\text{)}$$

Đáp số: a) $S_{ABCD} = 200 \text{ cm}^2$

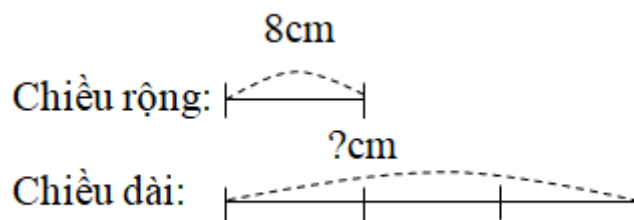
$$S_{DEGH} = 105 \text{ cm}^2.$$

$$\text{b) } S_H = 305 \text{ cm}^2.$$

Bài 3 trang 64 vở bài tập Toán lớp 3 Tập 2:

Một hình chữ nhật có chiều rộng 8cm, chiều dài gấp 3 lần chiều rộng. Tính diện tích và chu vi hình đó

Tóm tắt



Lời giải:

Chiều dài hình chữ nhật là:

$$8 \times 3 = 24 \text{ (cm)}$$

Diện tích hình chữ nhật là:

$$8 \times 24 = 192 \text{ (cm}^2\text{)}$$

Chu vi hình chữ nhật là:

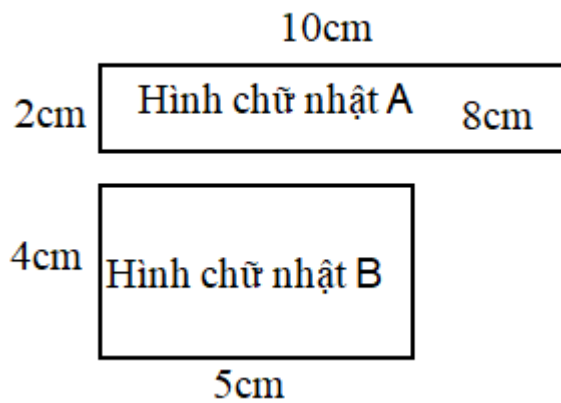
$$(24 + 8) \times 2 = 64 \text{ (cm)}$$

Đáp số: Diện tích là 192 cm^2 .

Chu vi là 64 cm

Bài 4 trang 64 vở bài tập Toán lớp 3 Tập 2:

Đúng ghi Đ, sai ghi S:



- Diện tích hình A lớn hơn diện tích hình B.

- Diện tích hình A bé hơn diện tích hình B.

- Diện tích hình A bằng diện tích hình B.

Lời giải:

- Diện tích hình A lớn hơn diện tích hình B. S

- Diện tích hình A bé hơn diện tích hình B. Đ

- Diện tích hình A bằng diện tích hình B. Đ