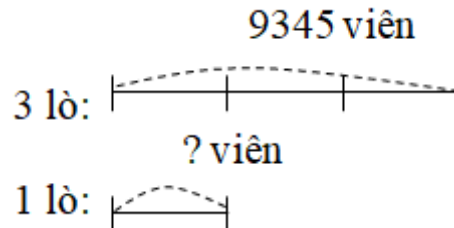


Giải Bài 120 trang 41 VBT Toán lớp 3 Tập 2

Bài 1 trang 41 Vở bài tập Toán lớp 3 Tập 2:

Có 9345 viên gạch được xếp đều vào 3 lò nung. Hỏi mỗi lò có bao nhiêu viên gạch?

Tóm tắt



Lời giải:

Số viên gạch có trong mỗi lò là:

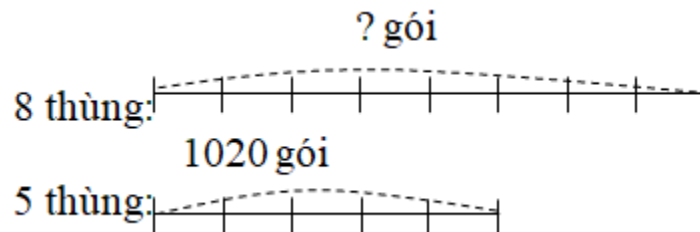
$$9345 : 3 = 3115 \text{ (viên)}$$

Đáp số: 3115 viên

Bài 2 trang 41 Vở bài tập Toán lớp 3 Tập 2:

Trong một nhà máy người ta đóng các gói mì vào các thùng, thùng nào cũng có số mì như nhau. Biết rằng trong 5 thùng có 1020 gói mì. Hỏi trong 8 thùng có bao nhiêu gói mì?

Tóm tắt



Lời giải:

Số gói mì trong mỗi thùng là:

$$1020 : 5 = 204 \text{ (gói)}$$

Số gói mì có trong 8 thùng là:

$$204 \times 8 = 1632 \text{ (gói)}$$

Đáp số: 1632 gói

Bài 3 trang 41 Vở bài tập Toán lớp 3 Tập 2:

Lập bài toán theo Tóm tắt rồi giải bài toán đó:

Tóm tắt

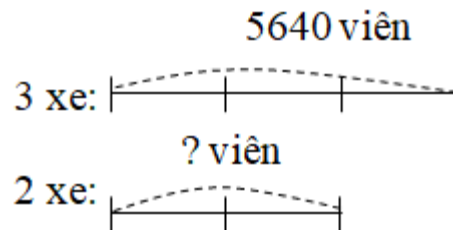
3 xe: 5640 viên gạch

2 xe: ... viên gạch?

Lời giải:

Bài toán: Có 5640 viên gạch được xếp đều lên 3 xe. Hỏi hai xe chở bao nhiêu viên gạch?

Tóm tắt



Bài 4 trang 41 Vở bài tập Toán lớp 3 Tập 2:

Tính giá trị của biểu thức:

a) $3260 : 4 \times 3 = \dots\dots\dots$

= $\dots\dots\dots$

b) $2070 : 6 \times 8 = \dots\dots\dots$

= $\dots\dots\dots$

Lời giải:

a) $3260 : 4 \times 3 = 905 \times 3$

= 2715

b) $2070 : 6 \times 8 = 345 \times 8$

= 2760