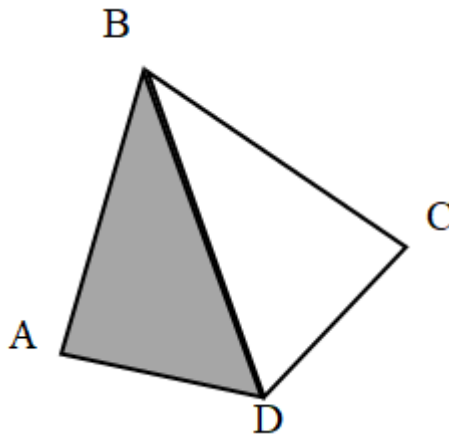


Giải Bài 135 trang 60 VBT Toán lớp 3 Tập 2

Bài 1 trang 60 vở bài tập Toán lớp 3 Tập 2:

Điền các từ “lớn hơn”, “bé hơn”, “bằng” thích hợp vào chỗ chấm:



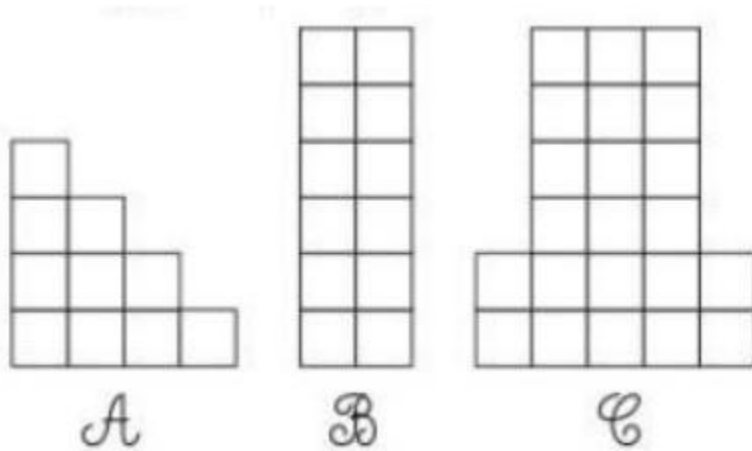
- Diện tích hình tam giác ABD diện tích hình tứ giác ABCD.
- Diện tích hình tứ giác ABCD diện tích tam giác BCD.
- Diện tích hình tứ giác ABCD tổng diện tích hình tam giác ABD và diện tích hình tam giác BCD.

Lời giải:

- Diện tích hình tam giác ABD bé hơn diện tích hình tứ giác ABCD.
- Diện tích hình tứ giác ABCD lớn hơn diện tích tam giác BCD.
- Diện tích hình tứ giác ABCD bằng tổng diện tích hình tam giác ABD và diện tích hình tam giác BCD.

Bài 2 trang 60 vở bài tập Toán lớp 3 Tập 2:

Đúng ghi Đ, sai ghi S:



- Diện tích hình C bé hơn diện tích hình B.

- Tổng diện tích hình A và hình B bằng diện tích hình C.

- Diện tích hình A bé hơn diện tích hình B.

Lời giải:

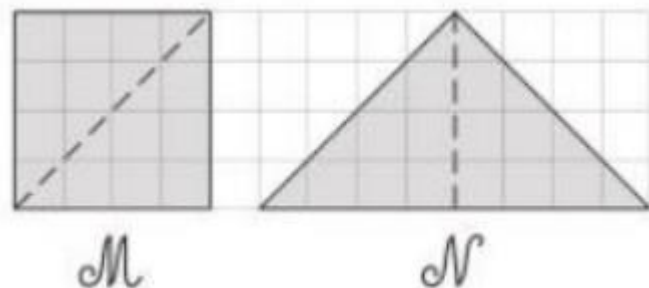
- Diện tích hình C bé hơn diện tích hình B. S

- Tổng diện tích hình A và hình B bằng diện tích hình C. Đ

- Diện tích hình A bé hơn diện tích hình B. Đ

Bài 3 trang 60 vở bài tập Toán lớp 3 Tập 2:

Khoanh vào chữ đặt trước câu trả lời đúng:




- A. Diện tích hình M bằng diện tích hình N.
- B. Diện tích hình M bé hơn diện tích hình N.
- C. Diện tích hình M lớn hơn diện tích hình N.

Lời giải:

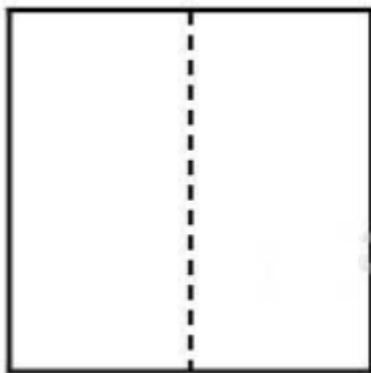
Chọn đáp án A

Bài 4 trang 60 vở bài tập Toán lớp 3 Tập 2:

Vẽ thêm một đoạn thẳng vào hình bên để được hai hình chữ nhật có diện tích bằng nhau.



Lời giải:



hoặc

