

Giải Bài 109 trang 28 VBT Toán lớp 3 Tập 2

Bài 1 trang 28 vở bài tập Toán lớp 3 Tập 2:

Đặt tính rồi tính

3418 x 2	2527 x 3	1419 x 5	1914 x 5
.....
.....
.....

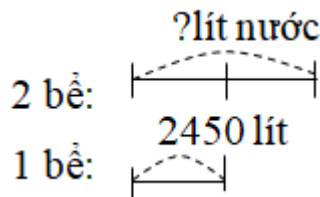
Lời giải:

$\begin{array}{r} 3418 \\ \times 2 \\ \hline 6836 \end{array}$	$\begin{array}{r} 2526 \\ \times 3 \\ \hline 7581 \end{array}$	$\begin{array}{r} 1419 \\ \times 5 \\ \hline 7095 \end{array}$	$\begin{array}{r} 1914 \\ \times 5 \\ \hline 9570 \end{array}$
--	--	--	--

Bài 2 trang 28 vở bài tập Toán lớp 3 Tập 2:

Có hai bể nước, mỗi bể có 2450l nước. Người ta đã dùng hết 3500l nước ở hai bể đó. Hỏi trong cả hai về còn bao nhiêu lít nước?

Tóm tắt



Lời giải:

Số lít nước có trong cả hai bể là

$$2450 \times 2 = 4900 \text{ (lít)}$$

Số lít nước còn lại trong cả hai bể là:

$$4900 - 3500 = 1400 \text{ (lít)}$$

Đáp số: 1400 lít

Bài 3 trang 28 Vở bài tập Toán lớp 3 Tập 2:

Tìm x

a) $x : 5 = 1308$

b) $x : 6 = 1507$

Lời giải:

a) $x : 5 = 1308$

$$x = 1308 \times 5$$

$$x = 6540$$

b) $x : 6 = 1507$

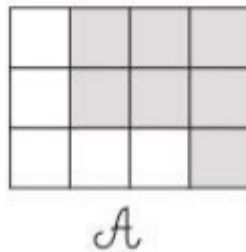
$$x = 1507 \times 6$$

$$x = 9042$$

Bài 4 trang 28 Vở bài tập Toán lớp 3 Tập 2:

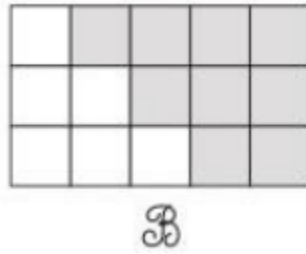
Cho hình và trong đó có một số ô vuông đã tô màu.

Viết số thích hợp vào chỗ chấm



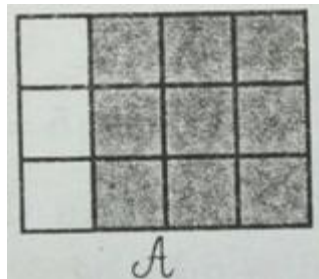
- Hình A có ô vuông tô màu.

- Tô thêm ô vuông để được một hình vuông có 9 ô vuông đã tô màu.

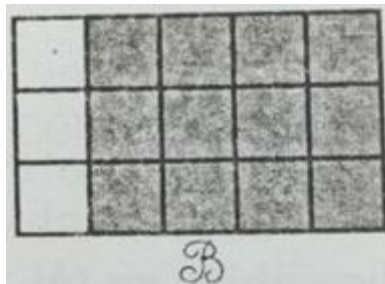


- Hình B có ô vuông tô màu.
- Tô thêm ô vuông để được một hình vuông có 12 ô vuông đã tô màu.

Lời giải:



- Hình A có 7 ô vuông tô màu.
- Tô thêm 2 ô vuông để được một hình vuông có 9 ô vuông đã tô màu.



- Hình B có 9 ô vuông tô màu.
- Tô thêm 3 ô vuông để được một hình vuông có 12 ô vuông đã tô màu.