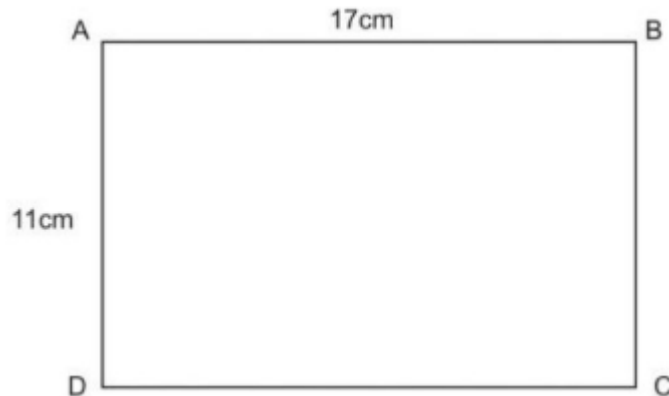


Giải Bài 84 trang 97, 98 VBT Toán lớp 3 Tập 1

Bài 1 trang 97 vở bài tập Toán lớp 3 Tập 1:

a) Tính chu vi hình chữ nhật ABCD có kích thước ghi trên hình vẽ:



b) Tính chu vi hình chữ nhật có chiều dài 15m, chiều rộng 10m.

**Lời giải:**

a) Chu vi hình chữ nhật ABCD là:

$$(17 + 11) \times 2 = 56 \text{ (cm)}$$

Đáp số: 56cm

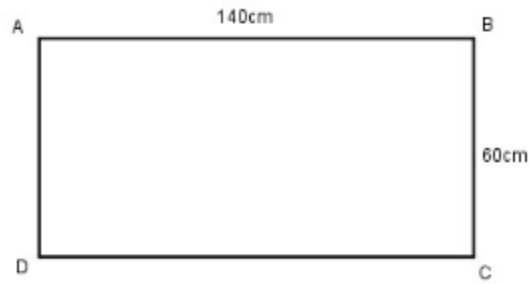
b) Chu vi hình chữ nhật có chiều dài 15m, chiều rộng 10m là:

$$(15 + 10) \times 2 = 50 \text{ (m)}$$

Đáp số: 50m

Bài 2 trang 97 vở bài tập Toán lớp 3 Tập 1:

Một thửa ruộng hình chữ nhật có chiều dài là 140m, chiều rộng là 60m. Tính chu vi thửa ruộng đó.



**Lời giải:**

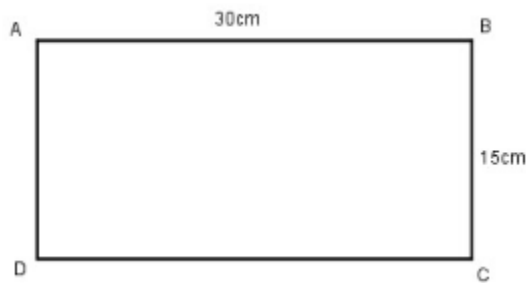
Chu vi thửa ruộng là:

$$(140 + 60) \times 2 = 400(\text{m})$$

Đáp số: 400m

Bài 3 trang 98 vở bài tập Toán lớp 3 Tập 1:

Tính chu vi hình chữ nhật có chiều dài 3dm, chiều rộng 15cm.



**Lời giải:**

$$3\text{dm} = 30\text{cm}$$

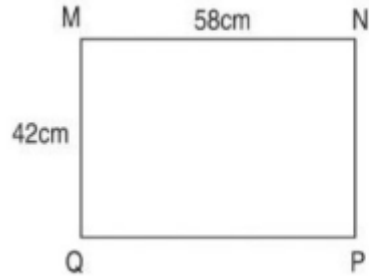
Chu vi hình chữ nhật là:

$$(30 + 15) \times 2 = 90 (\text{cm})$$

Đáp số: 90cm

Bài 4 trang 98 vở bài tập Toán lớp 3 Tập 1:

Đúng ghi Đ, sai ghi S:



a) Chu vi hình chữ nhật MNPQ bằng chu vi hình chữ nhật EGHI.

b) Chu vi hình chữ nhật MNPQ bé hơn chu vi hình chữ nhật EGHI.

c) Chu vi hình chữ nhật MNPQ lớn hơn chu vi hình chữ nhật EGHI.

**Lời giải:**

a) Chu vi hình chữ nhật MNPQ bằng chu vi hình chữ nhật EGHI.

b) Chu vi hình chữ nhật MNPQ bé hơn chu vi hình chữ nhật EGHI.

c) Chu vi hình chữ nhật MNPQ lớn hơn chu vi hình chữ nhật EGHI.