

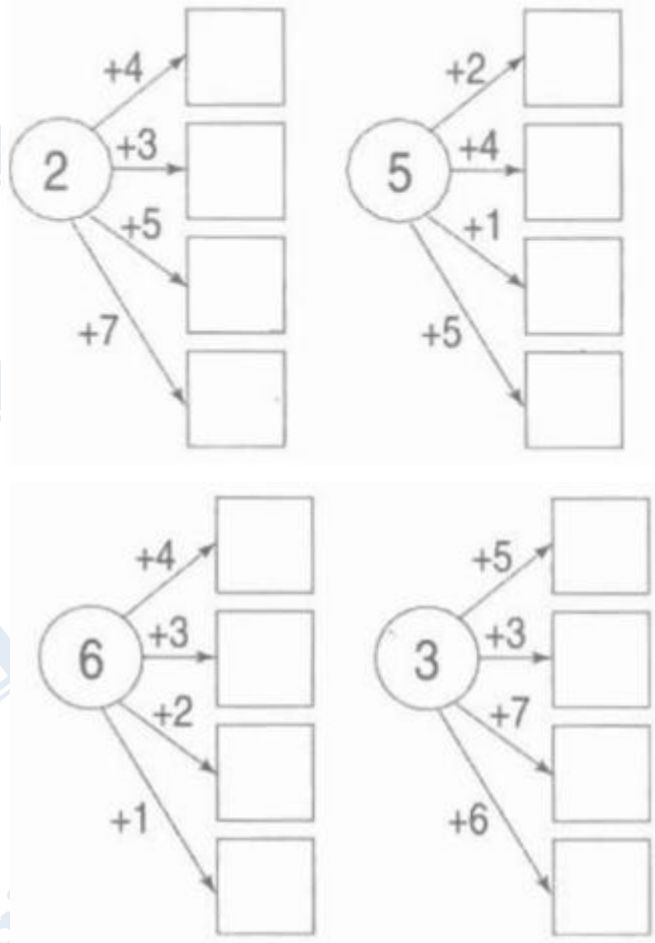
Nội dung bài viết

1. [Giải Bài 1 trang 66 VBT Toán lớp 1 tập 2](#)
2. [Giải Bài 2 trang 66 VBT Toán lớp 1 tập 2](#)
3. [Giải Bài 3 trang 66 VBT Toán lớp 1 tập 2](#)
4. [Giải Bài 4 trang 66 VBT Toán lớp 1 tập 2](#)

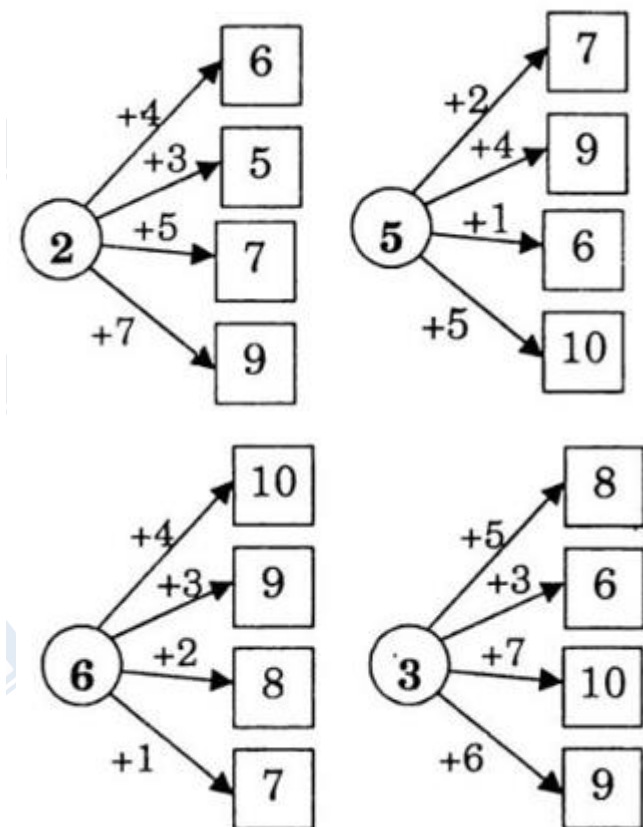
Mời các em học sinh và quý thầy cô tham khảo ngay hướng dẫn giải **Vở bài tập Toán lớp 1 trang 66 Bài 124 tập 2: Ôn tập: Các số đến 10** (chính xác nhất) được đội ngũ chuyên gia biên soạn ngắn gọn và đầy đủ, có đáp án chi tiết cho từng bài tập giúp các em học sinh ôn tập những dạng bài để học tốt được môn Toán lớp 1. Mời các em cùng tham khảo chi tiết dưới đây.

***Giải Bài 1 trang 66 VBT Toán lớp 1 tập 2***

**Số?**



Lời giải chi tiết:



**Giải Bài 2 trang 66 VBT Toán lớp 1 tập 2**

**Tính:**

a)

$7 + 2 = \dots$   $1 + 9 = \dots$

$4 + 3 = \dots$   $6 + 4 = \dots$

$8 + 0 = \dots$   $2 + 7 = \dots$

$9 + 1 = \dots$   $3 + 4 = \dots$

$4 + 6 = \dots$   $0 + 8 = \dots$

b)

$2 + 4 + 1 = \dots$   $7 + 1 + 1 = \dots$   $3 + 3 + 3 = \dots$

$$2 + 6 + 2 = \dots \quad 4 + 2 + 0 = \dots \quad 9 + 0 + 1 = \dots$$

**Lời giải chi tiết:**

a)

$$7 + 2 = 9 \quad 1 + 9 = 10$$

$$4 + 3 = 7 \quad 6 + 4 = 10$$

$$8 + 0 = 8 \quad 2 + 7 = 9$$

$$9 + 1 = 10 \quad 3 + 4 = 7$$

$$4 + 6 = 10 \quad 0 + 8 = 8$$

b)

$$2 + 4 + 1 = 7 \quad 7 + 1 + 1 = 9 \quad 3 + 3 + 3 = 9$$

$$2 + 6 + 2 = 10 \quad 4 + 2 + 0 = 6 \quad 9 + 0 + 1 = 10$$

**Giải Bài 3 trang 66 VBT Toán lớp 1 tập 2**

**Số?**

$$2 + \square = 10$$

$$9 + \square = 9$$

$$\square + 6 = 6$$

$$\square + 8 = 10$$

$$7 + \square = 9$$

$$4 + \square = 6$$

$$\square + 5 = 8$$

$$3 + \square = 9$$

$$\square + 1 = 7$$

**Lời giải chi tiết:**

$$2 + \boxed{8} = 10$$

$$9 + \boxed{0} = 9$$

$$\boxed{0} + 6 = 6$$

$$\boxed{2} + 8 = 10$$

$$7 + \boxed{2} = 9$$

$$4 + \boxed{2} = 6$$

$$\boxed{3} + 5 = 8$$

$$3 + \boxed{6} = 9$$

$$\boxed{6} + 1 = 7$$

**Giải Bài 4 trang 66 VBT Toán lớp 1 tập 2**

Nói các điểm để có:

a) Một hình vuông



b) Một hình tam giác

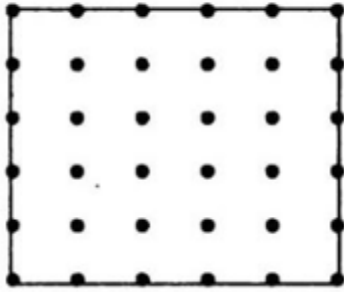


c) Hai hình vuông

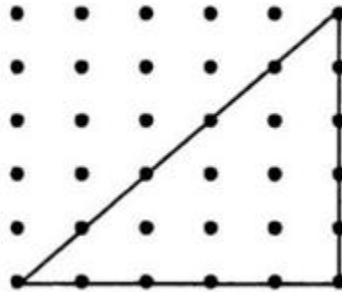


Lời giải chi tiết:

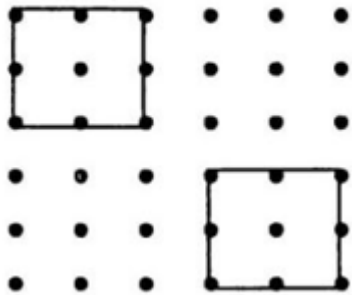
a) Một hình vuông



b) Một hình tam giác



c) Hai hình vuông



►► **CLICK NGAY** vào nút **TẢI VỀ** dưới đây để tải về **Giải VBT Toán 1 tập 2 trang 66 Bài 124: Ôn tập: Các số đến 10** (đầy đủ nhất) file PDF hoàn toàn miễn phí. Hy vọng với bộ tài liệu này thì các em học sinh sẽ học tốt môn Toán lớp 1 nhé!