

Nội dung bài viết

1. [Giải Bài 1 trang 77 VBT Toán lớp 1 tập 2](#)
2. [Giải Bài 2 trang 77 VBT Toán lớp 1 tập 2](#)
3. [Giải Bài 3 trang 77 VBT Toán lớp 1 tập 2](#)
4. [Giải Bài 4 trang 78 VBT Toán lớp 1 tập 2](#)
5. [Giải Bài 5 trang 78 VBT Toán lớp 1 tập 2](#)
6. [Giải Bài 6 trang 78 VBT Toán lớp 1 tập 2](#)

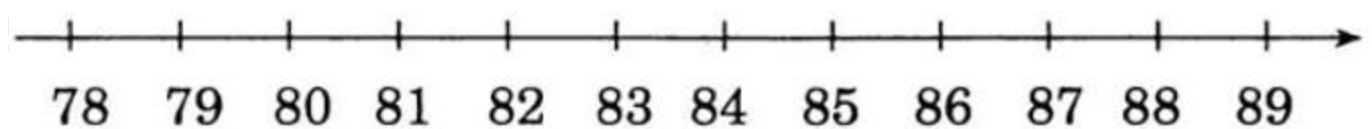
Mời các em học sinh và quý thầy cô tham khảo ngay hướng dẫn giải **Vở bài tập Toán lớp 1 trang 77 - 78 Bài 134 tập 2: Luyện tập chung** (chính xác nhất) được đội ngũ chuyên gia biên soạn ngắn gọn và đầy đủ, có đáp án chi tiết cho từng bài tập giúp các em học sinh ôn tập những dạng bài để học tốt được môn Toán lớp 1. Mời các em cùng tham khảo chi tiết dưới đây.

### ***Giải Bài 1 trang 77 VBT Toán lớp 1 tập 2***

**Viết số thích hợp vào dưới mỗi vạch của tia số:**



**Lời giải chi tiết:**



### ***Giải Bài 2 trang 77 VBT Toán lớp 1 tập 2***

a) Viết các số 45; 37; 54; 28 theo thứ tự từ bé đến lớn:

.....

b) Viết các số 30; 82; 75; 41 theo thứ tự từ lớn đến bé:

Lời giải chi tiết:

a) 28; 37; 45; 54.

b) 82; 75; 41; 30.

**Giải Bài 3 trang 77 VBT Toán lớp 1 tập 2**

Đặt tính rồi tính:

$$34 + 52$$

.....

.....

.....

$$50 + 18$$

.....

.....

.....

$$87 - 24$$

.....

.....

.....

$$64 - 44$$

.....

.....

.....

Lời giải chi tiết:

$$\begin{array}{r} 34 \\ + 52 \\ \hline 86 \end{array}$$

$$\begin{array}{r} 50 \\ + 18 \\ \hline 68 \end{array}$$

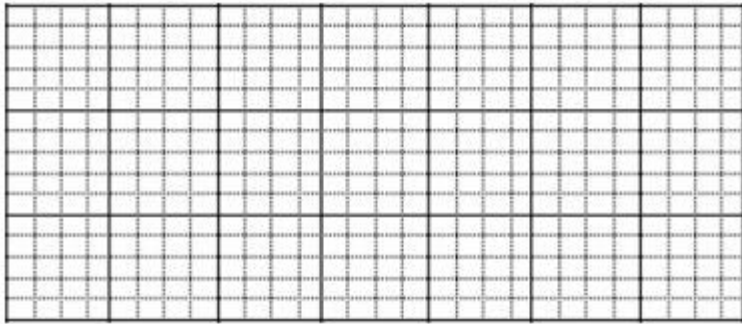
$$\begin{array}{r} 87 \\ - 24 \\ \hline 63 \end{array}$$

$$\begin{array}{r} 64 \\ - 44 \\ \hline 20 \end{array}$$

**Giải Bài 4 trang 78 VBT Toán lớp 1 tập 2**

Mẹ hái được 85 quả hồng, mẹ đã bán 60 quả hồng. Hỏi mẹ còn lại bao nhiêu quả hồng?

Bài giải



**Lời giải chi tiết:**

*Tóm tắt*

Mẹ hái được : 85 quả hồng

Mẹ đã bán : 60 quả hồng

Mẹ còn lại : ... quả hồng?

*Bài giải*

Mẹ còn lại số quả hồng là:

$$85 - 60 = 25 \text{ (quả hồng)}$$

Đáp số: 25 quả hồng.

***Giải Bài 5 trang 78 VBT Toán lớp 1 tập 2***

**Đồng hồ chỉ mấy giờ?**



Lời giải chi tiết:



Đồng hồ chỉ 8 giờ

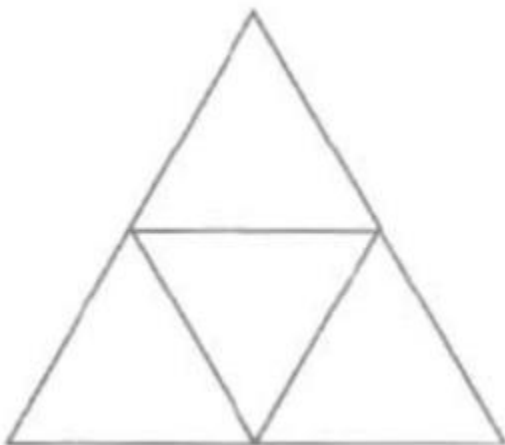


Đồng hồ chỉ 4 giờ

Giải Bài 6 trang 78 VBT Toán lớp 1 tập 2

Số?

Trong hình vẽ bên có ... hình tam giác.



Lời giải chi tiết:

Trong hình vẽ bên có 5 hình tam giác.

►► **CLICK NGAY** vào nút **TẢI VỀ** dưới đây để tải về **Giải VBT Toán 1 tập 2 trang 77 - 78 Bài 134: Luyện tập chung** (đầy đủ nhất) file PDF hoàn toàn miễn phí. Hy vọng với bộ tài liệu này thì các em học sinh sẽ học tốt môn Toán lớp 1 nhé!