

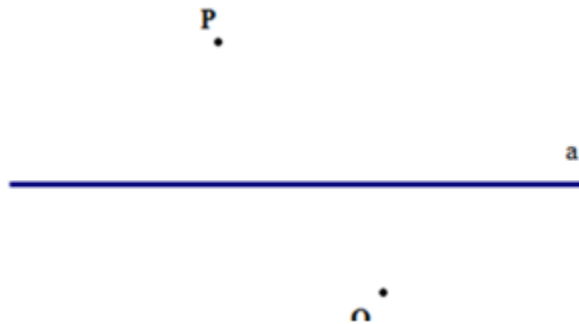
**Bộ câu hỏi trắc nghiệm Toán 6 Nửa mặt phẳng** được chúng tôi sưu tầm và tổng hợp bao gồm những dạng câu hỏi trọng tâm và thường xuất hiện trong bài kiểm tra quan trọng. Mời các em học sinh và quý thầy cô giáo theo dõi chi tiết dưới đây.

**Bộ 10 bài tập trắc nghiệm Toán lớp 6: Nửa mặt phẳng**

**Câu 1:** Chọn đáp án đúng?

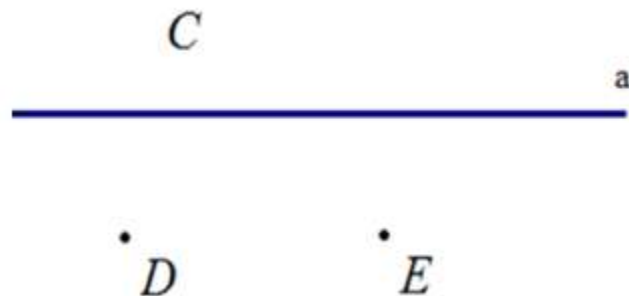
- A. Trang sách là hình ảnh của mặt phẳng
- B. Sàn nhà là hình ảnh của mặt phẳng
- C. Mặt bàn là hình ảnh của mặt phẳng
- D. Cả A, B, C đều đúng

**Câu 2:** Cho hình vẽ sau, chọn đáp án đúng



- A. P và Q là hai điểm thuộc hai mặt phẳng đối nhau bờ a
- B. P và Q thuộc cùng một nửa mặt phẳng bờ a.
- C. P nằm trên đường thẳng a.
- D. P và Q cùng nằm trên đường thẳng a.

**Câu 3:** Cho hình vẽ sau. Chọn đáp án sai



- A. Điểm C và D thuộc hai mặt phẳng đối nhau bờ a.
- B. Điểm D và E thuộc cùng một nửa mặt phẳng bờ a
- C. Điểm C và E thuộc hai mặt phẳng đối nhau bờ a.

D. Điểm C, D, E thuộc cùng một nửa mặt phẳng bờ a.

**Câu 4:** Cho ba điểm A, B, C không thẳng hàng. Vẽ đường thẳng a cắt các đoạn thẳng AB, AC và không đi qua A, B, C. Gọi tên hai nửa mặt phẳng đối nhau bờ a.

A. Nửa mặt phẳng bờ a chứa A và nửa mặt phẳng bờ a chứa B và C

B. Nửa mặt phẳng bờ a chứa B và nửa mặt phẳng bờ a chứa A và C

C. Nửa mặt phẳng bờ a chứa A và nửa mặt phẳng bờ a chứa B và C

**Câu 5:** Cho ba điểm A, B, C không thẳng hàng. Vẽ đường thẳng a cắt các đoạn thẳng AB, AC và không đi qua A, B, C. Đoạn thẳng BC có cắt đường thẳng a không?

A. Có

B. Không

**Câu 6:** Gọi M là điểm nằm giữa hai điểm A, B. Lấy điểm O không nằm trên đường thẳng AB. Vẽ ba tia OA, OB, OM. Hỏi tia nào nằm giữa hai tia còn lại?

A. Tia OA nằm giữa hai tia OM và OB

B. Tia OM nằm giữa hai tia OA và OB

C. Tia OB nằm giữa hai tia OA và OM

**Câu 7:** Cho hai tia OA, OB không đối nhau. Gọi C là điểm nằm giữa A, B. Vẽ điểm D sao cho B nằm giữa A và D. Đọc tên các tia nằm giữa hai tia khác?

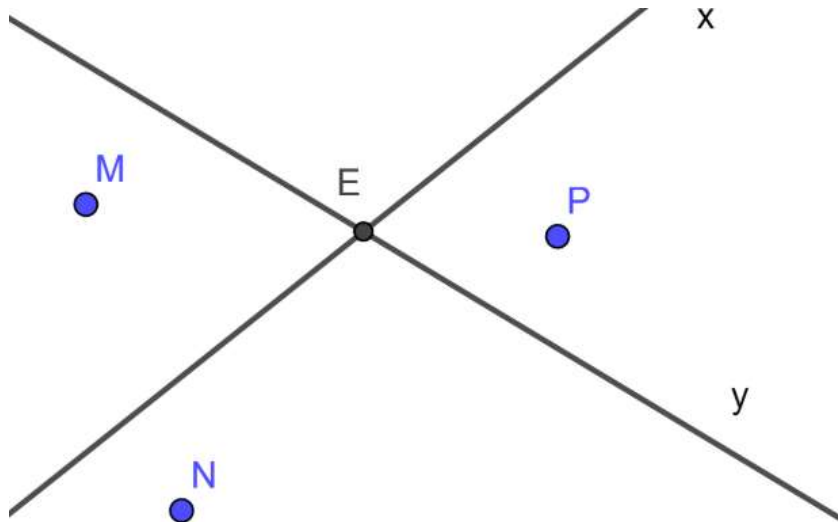
A. OC và OB

B. OD và OA

C. OA và OB

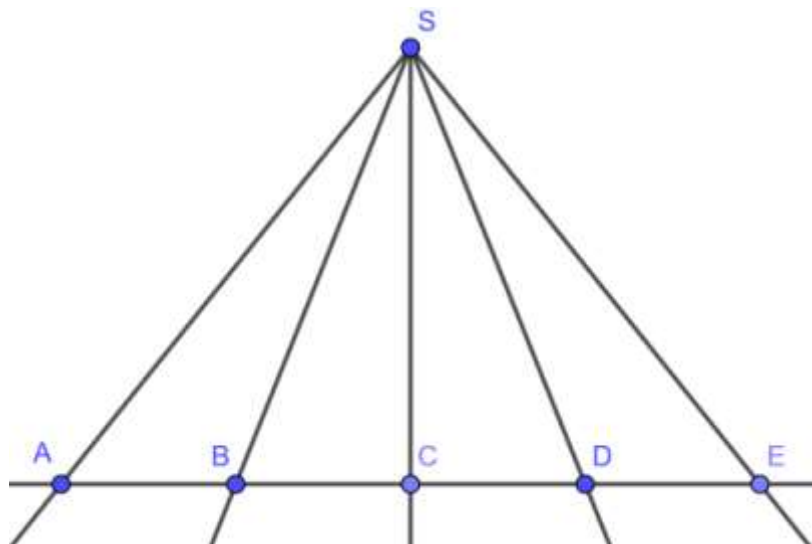
D. OC và OD

**Câu 8:** Cho hình vẽ sau. Khẳng định nào sau đây sai?



- A. Hai điểm M và N thuộc nửa mặt phẳng có bờ là đường thẳng y, nằm khác phía đối với đường thẳng x.
- B. Hai điểm M và P nằm khác phía đối với đường thẳng x và cũng nằm khác phía đối với đường thẳng y
- C. Hai điểm N và P thuộc nửa mặt phẳng có bờ là đường thẳng y, nằm khác phía đối với đường thẳng x.
- D. M và P thuộc hai nửa mặt phẳng đối nhau có bờ là đường thẳng y và cũng thuộc hai nửa mặt phẳng đối nhau có bờ là đường thẳng x.

**Câu 9:** Cho hình vẽ sau, tia SC nằm giữa mấy cặp tia?



- A. 1
- B. 2
- C. 3

D. 4

**Câu 10:** Cho ba điểm A, B, C nằm ngoài đường thẳng a. Biết rằng cả hai đoạn thẳng BA, BC đều cắt đường thẳng a. Khẳng định nào sau đây đúng?

- A. Hai điểm A và C nằm khác phía với đường thẳng a
- B. Hai điểm B và C nằm cùng phía với đường thẳng a
- C. Hai điểm A và B nằm cùng phía với đường thẳng a
- D. Đường thẳng a không cắt đoạn AC

**Đáp án bộ 10 câu hỏi trắc nghiệm Toán 6 Nửa mặt phẳng**

1.D 2.A 3.D 4.A 5.B 6.B 7.A 8.C 9.D 10.D