

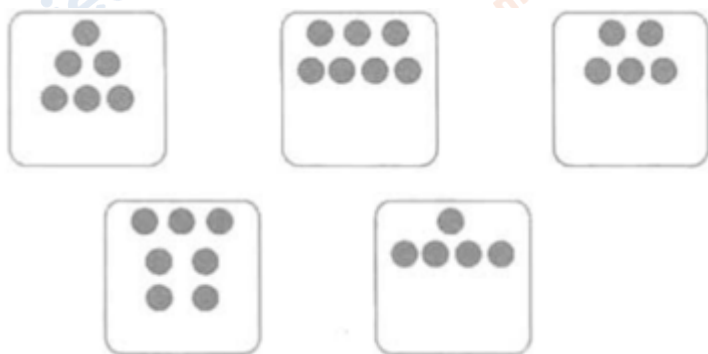
Nội dung bài viết

1. [Giải Bài 1 trang 3 VBT Toán lớp 1 tập 2](#)
2. [Giải Bài 2 trang 3 VBT Toán lớp 1 tập 2](#)
3. [Giải Bài 3 trang 3 VBT Toán lớp 1 tập 2](#)
4. [Giải Bài 4 trang 3 VBT Toán lớp 1 tập 2](#)

Mời các em học sinh và quý thầy cô tham khảo ngay hướng dẫn giải **Vở bài tập Toán lớp 1 trang 3 Bài 69 tập 2: Một chục. Tia số** (chính xác nhất) được đội ngũ chuyên gia biên soạn ngắn gọn và đầy đủ, có đáp án chi tiết cho từng bài tập giúp các em học sinh ôn tập những dạng bài để học tốt được môn Toán lớp 1. Mời các em cùng tham khảo chi tiết dưới đây.

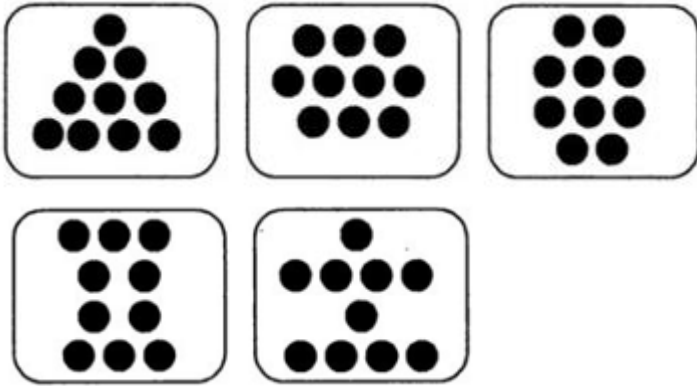
***Giải Bài 1 trang 3 VBT Toán lớp 1 tập 2***

**Vẽ thêm cho đủ 1 chục chấm tròn:**



**Lời giải chi tiết:**

Em hãy đếm số chấm tròn đã có trong mỗi hình, tìm số chấm tròn cần vẽ thêm vào để đủ 1 chục chấm tròn.

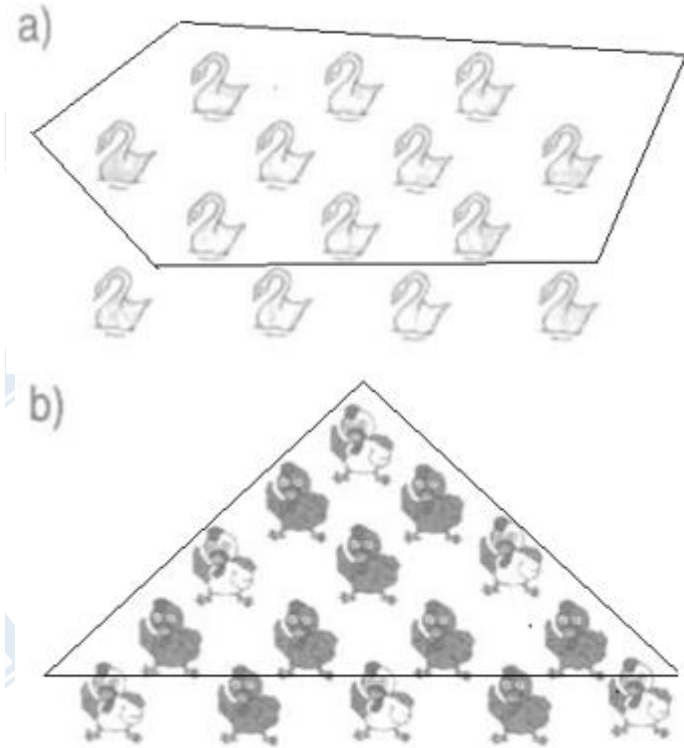


Giải Bài 2 trang 3 VBT Toán lớp 1 tập 2

Vẽ bao quanh 1 chục con vật:



Lời giải chi tiết:

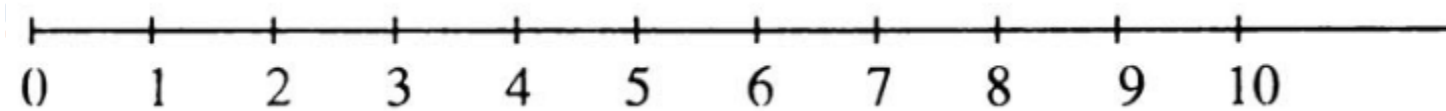


**Giải Bài 3 trang 3 VBT Toán lớp 1 tập 2**

**Viết số thích hợp vào dưới mỗi vạch của tia số:**

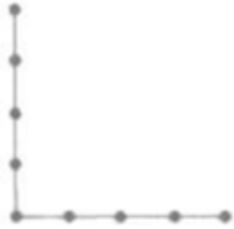


**Lời giải chi tiết:**

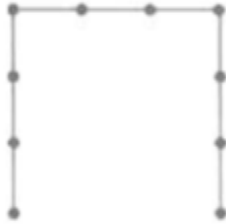


**Giải Bài 4 trang 3 VBT Toán lớp 1 tập 2**

**Điền số thích hợp vào ô trống (theo mẫu):**



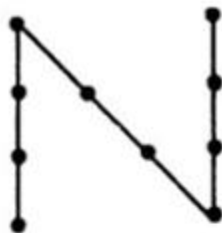
9



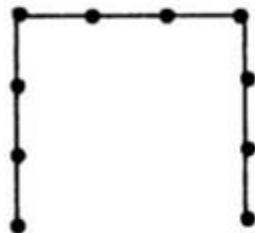
Lời giải chi tiết:



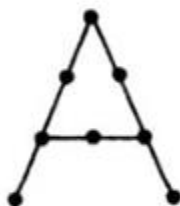
9



10



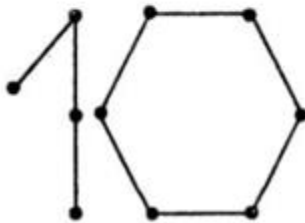
10



8



10



10

►► **CLICK NGAY** vào nút **TẢI VỀ** dưới đây để tải về **Giải VBT Toán 1 tập 2 trang 3 Bài 69: Một chục. Tia số** (đầy đủ nhất) file PDF hoàn toàn miễn phí. Hy vọng với bộ tài liệu này thì các em học sinh sẽ học tốt môn Toán lớp 1 nhé!