

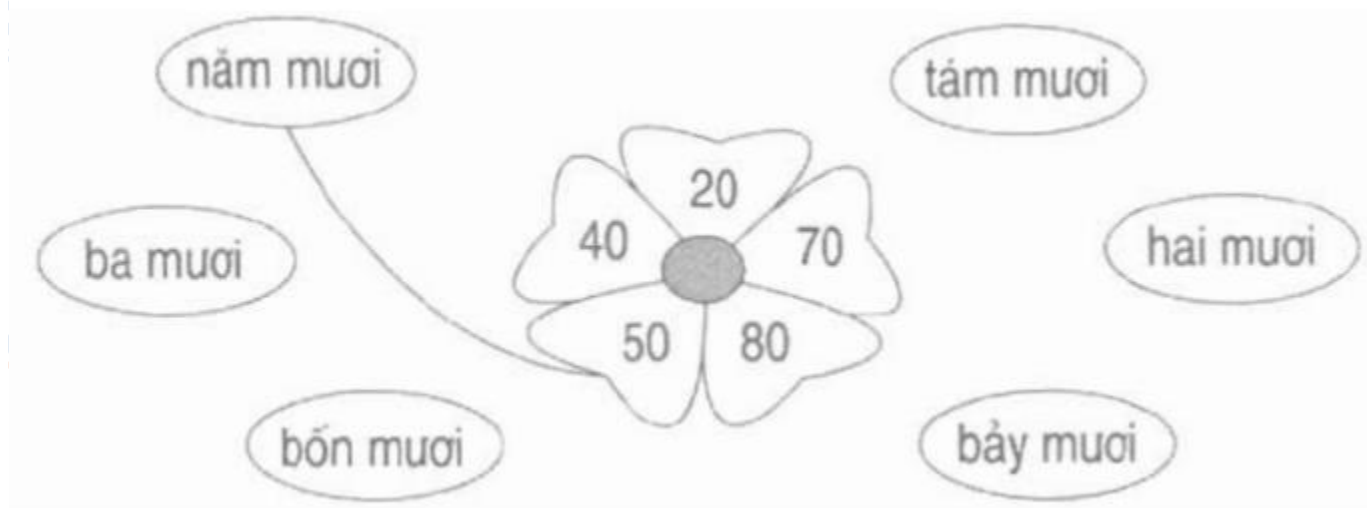
Nội dung bài viết

1. [Giải Bài 1 trang 24 VBT Toán lớp 1 tập 2](#)
2. [Giải Bài 2 trang 24 VBT Toán lớp 1 tập 2](#)
3. [Giải Bài 3 trang 24 VBT Toán lớp 1 tập 2](#)
4. [Giải Bài 4 trang 24 VBT Toán lớp 1 tập 2](#)
5. [Giải Bài 5 trang 24 VBT Toán lớp 1 tập 2](#)

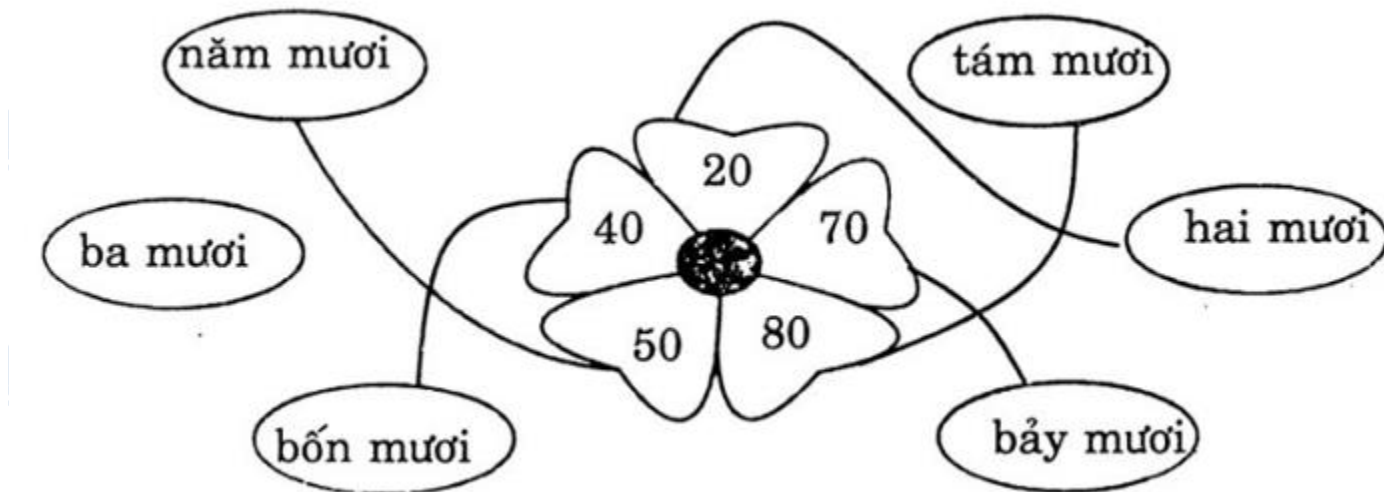
Mời các em học sinh và quý thầy cô tham khảo ngay hướng dẫn giải **Vở bài tập Toán lớp 1 trang 24 Bài 90 tập 2: Luyện tập** (chính xác nhất) được đội ngũ chuyên gia biên soạn ngắn gọn và đầy đủ, có đáp án chi tiết cho từng bài tập giúp các em học sinh ôn tập những dạng bài để học tốt được môn Toán lớp 1. Mời các em cùng tham khảo chi tiết dưới đây.

Giải Bài 1 trang 24 VBT Toán lớp 1 tập 2

Nói (theo mẫu):



Lời giải chi tiết:



Giải Bài 2 trang 24 VBT Toán lớp 1 tập 2

Viết (theo mẫu):

Số 50 gồm 5 chục và 0 đơn vị

Số 90 gồm ... chục và ... đơn vị

Số 60 gồm ... chục và ... đơn vị

Lời giải chi tiết:

Số 90 gồm 9 chục và 0 đơn vị

Số 60 gồm 6 chục và 0 đơn vị

Giải Bài 3 trang 24 VBT Toán lớp 1 tập 2

a) Khoanh vào số bé nhất: 60 ; 30 ; 50 ; 90 ; 40.

b) Khoanh vào số lớn nhất: 40 ; 70 ; 20 ; 80 ; 50.

Lời giải chi tiết:

a) Khoanh vào số bé nhất:

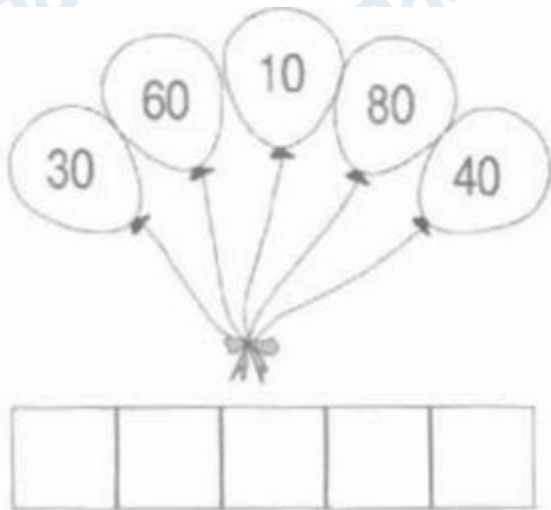
60, (30), 50, 90, 40.

b) Khoanh vào số lớn nhất:

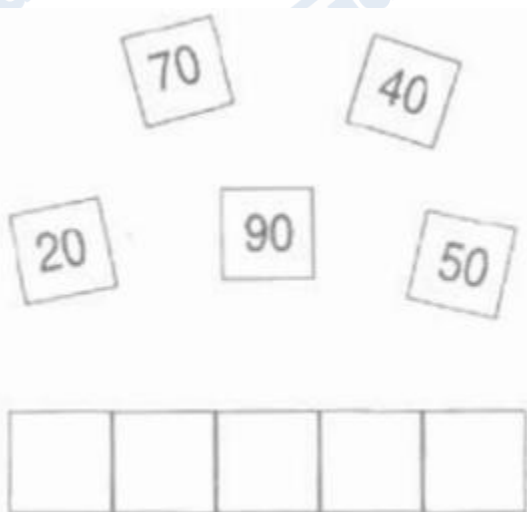
40 , 70 , 20 , (80) , 50.

Giải Bài 4 trang 24 VBT Toán lớp 1 tập 2

a) Viết các số theo thứ tự từ bé đến lớn:

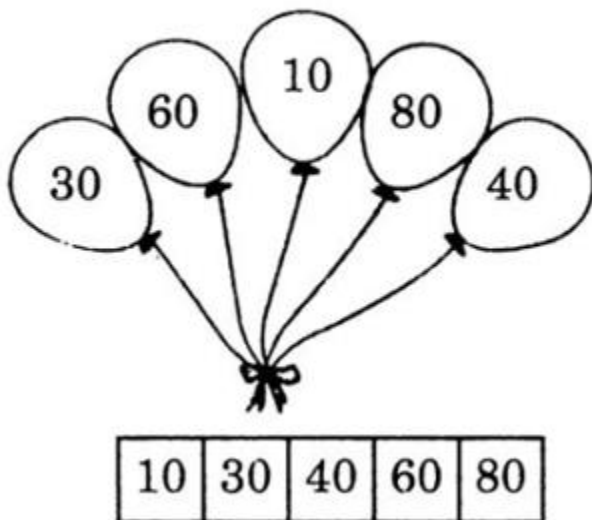


b) Viết các số theo thứ tự từ lớn đến bé:

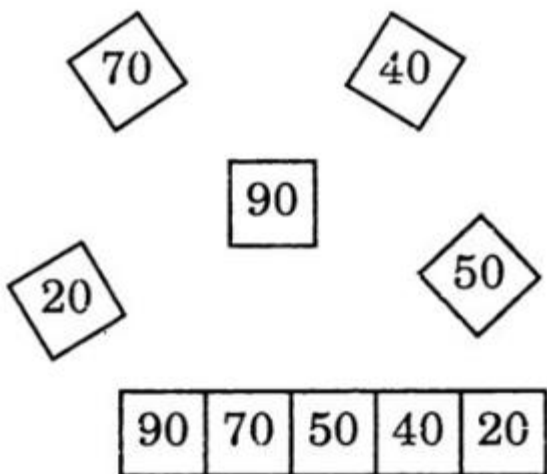


Lời giải chi tiết:

a)



b)



Giải Bài 5 trang 24 VBT Toán lớp 1 tập 2

Số tròn chục?

$$50 < \square < 70$$

Lời giải chi tiết:

$$50 < \boxed{60} < 70$$

▶▶ **CLICK NGAY** vào nút **TẢI VỀ** dưới đây để tải về **Giải VBT Toán 1 tập 2 trang 24 Bài 90: Luyện tập** (đầy đủ nhất) file PDF hoàn toàn miễn phí. Hy vọng với bộ tài liệu này thì các em học sinh sẽ học tốt môn Toán lớp 1 nhé!