

Giải bài 66 trang 76, 77 VBT Toán lớp 3 tập 1

Bài 1 trang 76 Vở bài tập Toán lớp 3 Tập 1:

Tính nhẩm

$9 \times 2 = \dots$	$9 \times 3 = \dots$	$9 \times 4 = \dots$	$9 \times 5 = \dots$
$18 : 9 = \dots$	$27 : 9 = \dots$	$36 : 9 = \dots$	$45 : 9 = \dots$
$9 \times 6 = \dots$	$9 \times 7 = \dots$	$9 \times 8 = \dots$	$9 \times 9 = \dots$
$54 : 9 = \dots$	$63 : 9 = \dots$	$72 : 9 = \dots$	$81 : 9 = \dots$

Lời giải:

$9 \times 2 = 18$	$9 \times 3 = 27$	$9 \times 4 = 36$	$9 \times 5 = 45$
$18 : 9 = 2$	$27 : 9 = 3$	$36 : 9 = 4$	$45 : 9 = 5$
$9 \times 6 = 54$	$9 \times 7 = 63$	$9 \times 8 = 72$	$9 \times 9 = 81$
$54 : 9 = 6$	$63 : 9 = 7$	$72 : 9 = 8$	$81 : 9 = 9$

Bài 2 trang 76 Vở bài tập Toán lớp 3 Tập 1:

Số?

Số bị chia	18	18	36	81
Số chia	9		9	9
Thương		2	4	9

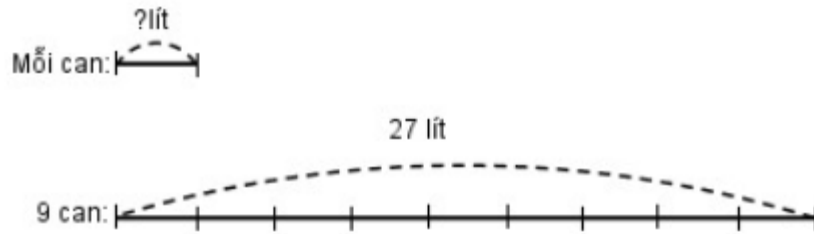
Lời giải:

Số bị chia	18	18	36	36	81	81
Số chia	9	9	9	9	9	9
Thương	2	2	4	4	9	9

Bài 3 trang 76 vở bài tập Toán lớp 3 Tập 1:

Nhà trường mua 54 bộ bàn ghế nhưng mới nhận được  $\frac{1}{9}$  số bộ đã đặt mua. Hỏi nhà trường sẽ nhận tiếp bao nhiêu bộ bàn ghế nữa mới đủ số lượng đã đặt mua?

Tóm tắt



**Lời giải:**

Số bộ bàn ghế nhà trường mới nhận được là:

$$54 : 9 = 6 \text{ (bộ)}$$

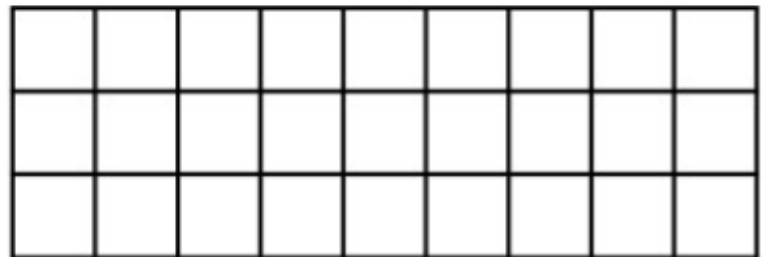
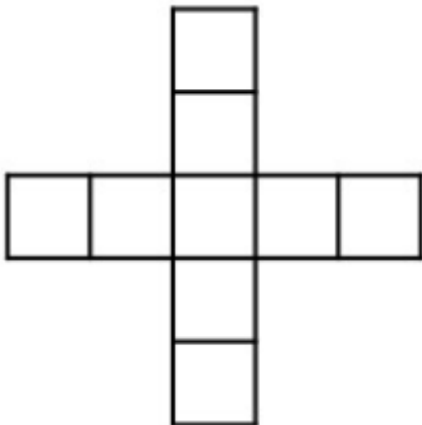
Số bộ bàn ghế nhà trường còn chưa nhận được là:

$$54 - 6 = 48 \text{ (bộ)}$$

Đáp số: 48 bộ bàn ghế

Bài 4 trang 77 vở bài tập Toán lớp 3 Tập 1:

Tô màu  $\frac{1}{9}$  số ô vuông trong mỗi hình sau:



Lời giải:

